




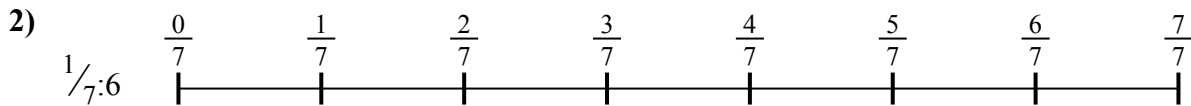
Используйте числовую прямую для решения задачи. Первая отмечена для Вас.

ОТВЕТЫ



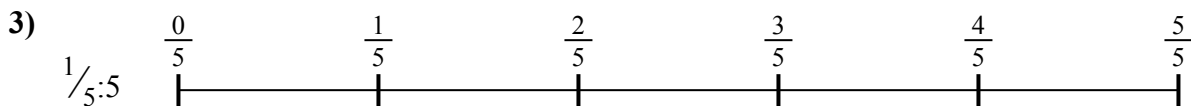
1. _____

2. _____



3. _____

4. _____



5. _____

6. _____

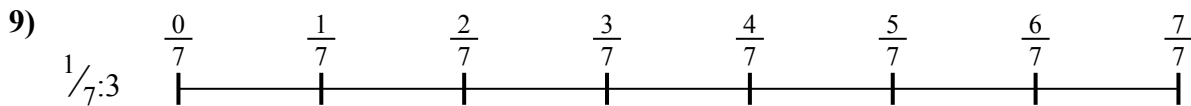
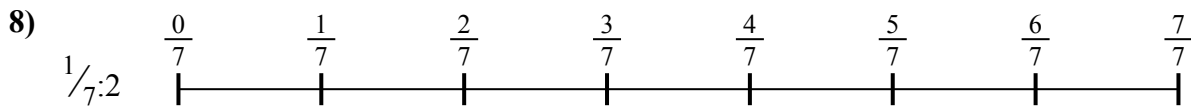


7. _____

8. _____



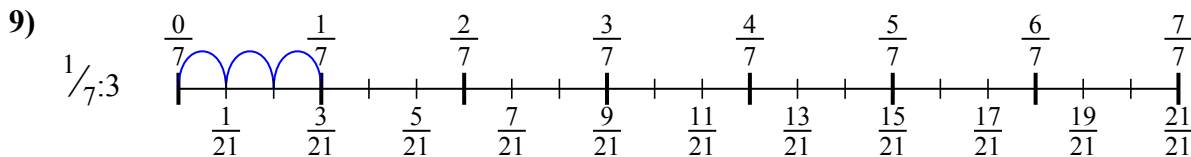
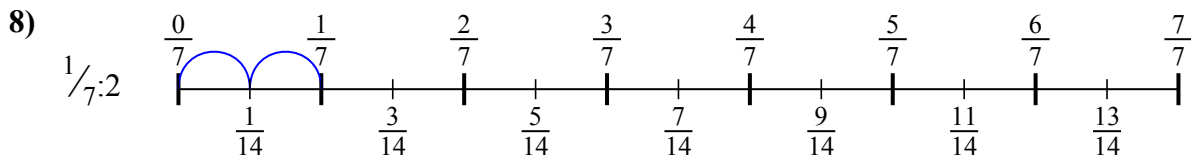
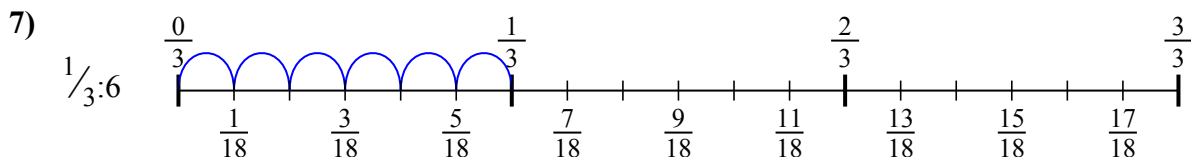
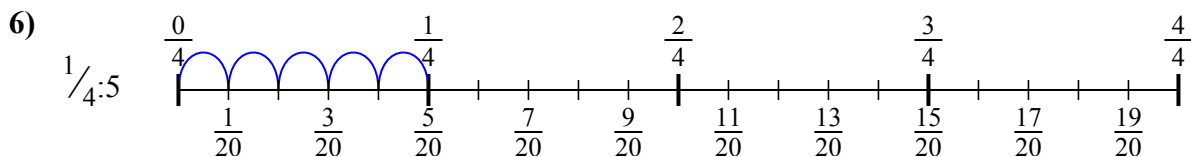
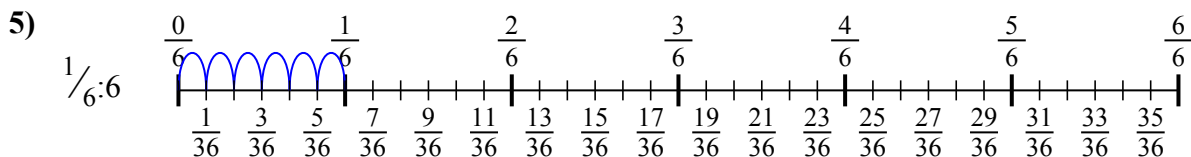
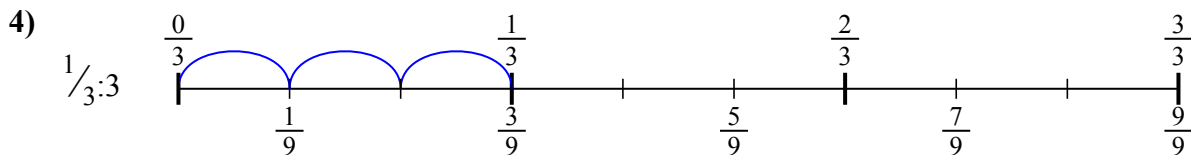
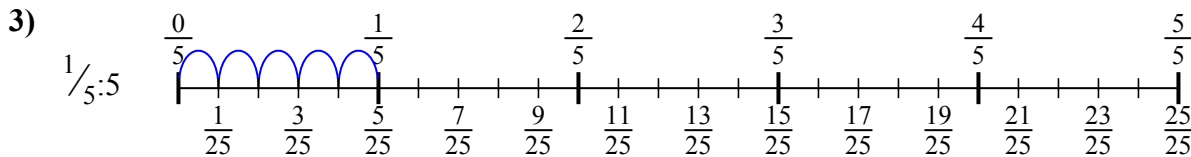
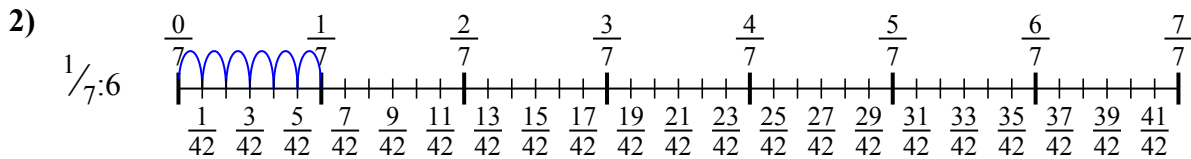
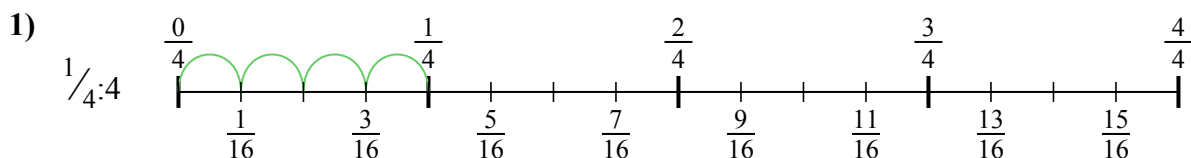
9. _____





Используйте числовую прямую для решения задачи. Первая отмечена для Вас.

ОТВЕТЫ



1. $\frac{1}{16}$

2. $\frac{1}{42}$

3. $\frac{1}{25}$

4. $\frac{1}{9}$

5. $\frac{1}{36}$

6. $\frac{1}{20}$

7. $\frac{1}{18}$

8. $\frac{1}{14}$

9. $\frac{1}{21}$



Используйте числовую прямую для решения задачи. Первая отмечена для Вас.

ОТВЕТЫ

$\frac{1}{42}$

$\frac{1}{20}$

$\frac{1}{14}$

$\frac{1}{21}$

$\frac{1}{36}$

$\frac{1}{25}$

$\frac{1}{16}$

$\frac{1}{9}$

$\frac{1}{18}$

1. _____

2. _____

3. _____

4. _____

5. _____

6. _____

7. _____

8. _____

9. _____

