



Используйте числовую прямую для решения задачи. Первая отмечена для Вас.

ОТВЕТЫ

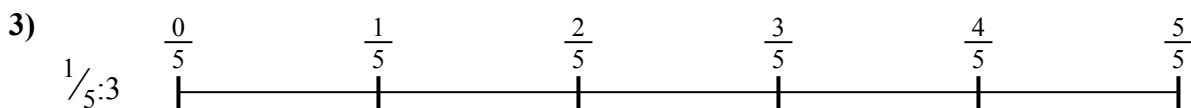
1. _____

2. _____



3. _____

4. _____



5. _____

6. _____

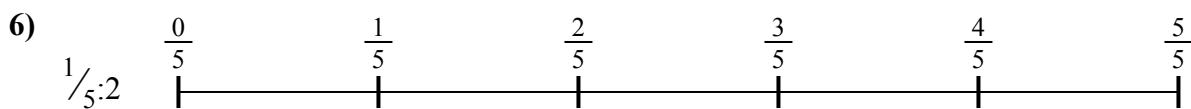


7. _____

8. _____



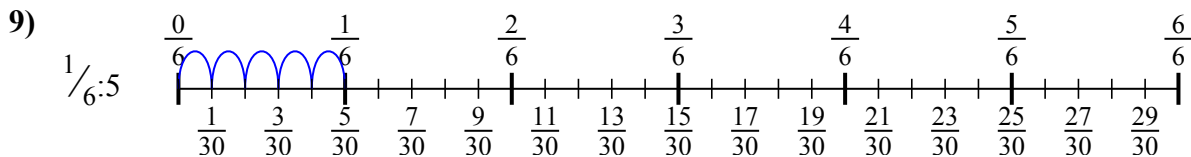
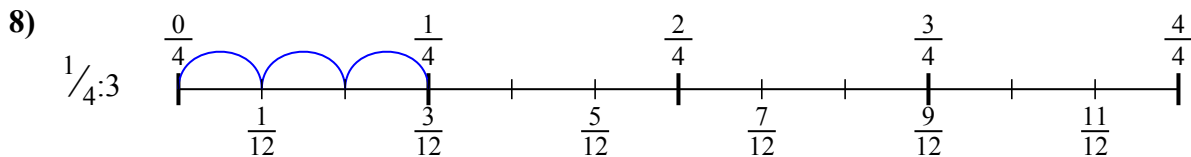
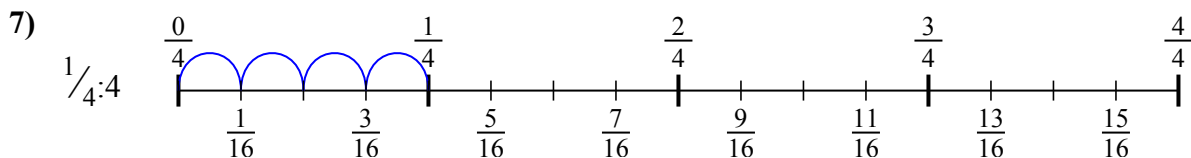
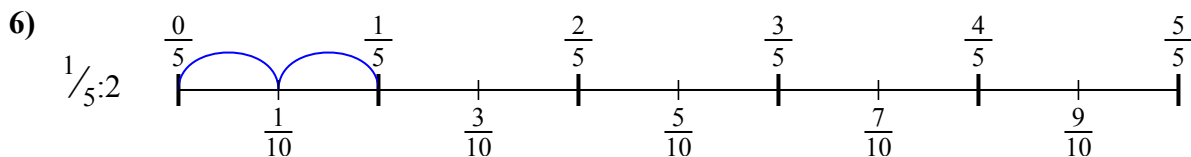
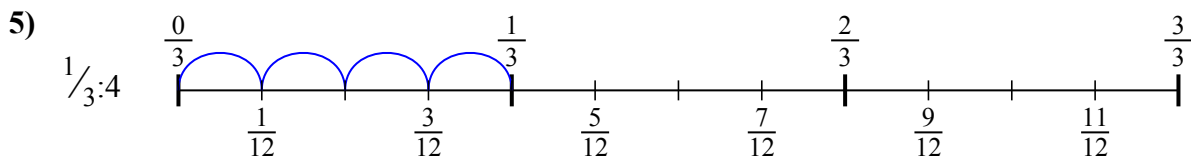
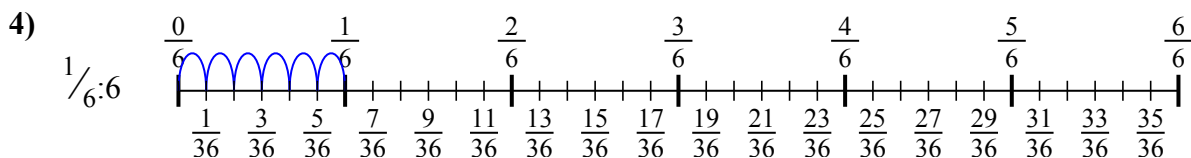
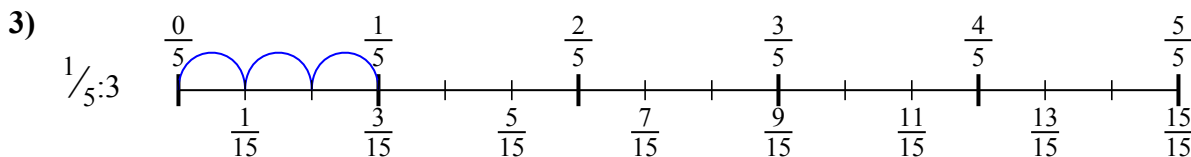
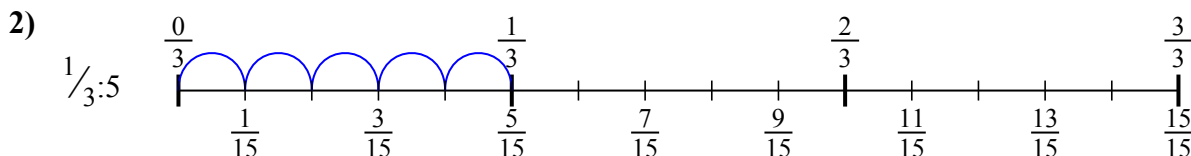
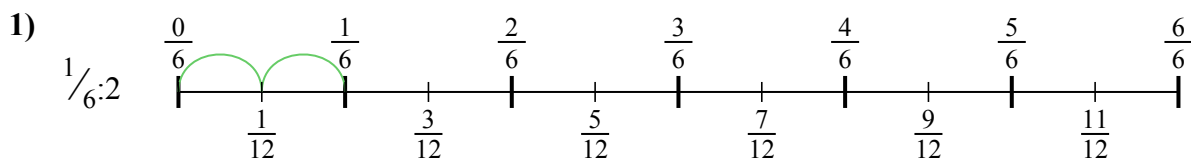
9. _____





Используйте числовую прямую для решения задачи. Первая отмечена для Вас.

ОТВЕТЫ



1. $\frac{1}{12}$

2. $\frac{1}{15}$

3. $\frac{1}{15}$

4. $\frac{1}{36}$

5. $\frac{1}{12}$

6. $\frac{1}{10}$

7. $\frac{1}{16}$

8. $\frac{1}{12}$

9. $\frac{1}{30}$



Используйте числовую прямую для решения задачи. Первая отмечена для Вас.

ОТВЕТЫ

$\frac{1}{36}$

$\frac{1}{12}$

$\frac{1}{30}$

$\frac{1}{12}$



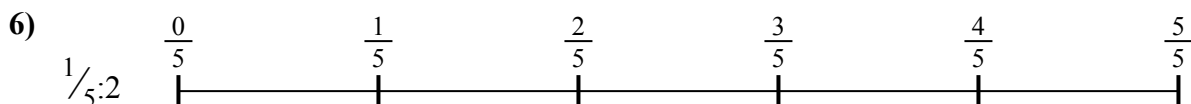
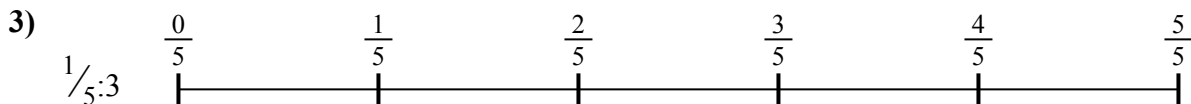
$\frac{1}{15}$

$\frac{1}{10}$

$\frac{1}{12}$

$\frac{1}{16}$

$\frac{1}{15}$



1. _____

2. _____

3. _____

4. _____

5. _____

6. _____

7. _____

8. _____

9. _____