



Заполните сетку с помощью диаграммы.

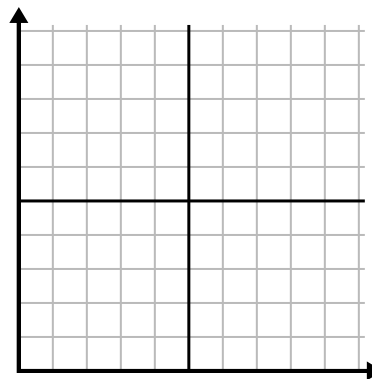
1)

Неделя	1	2	3	4	5	6	7
Часы просмотра ТВ	50	25	45	10	15	30	35



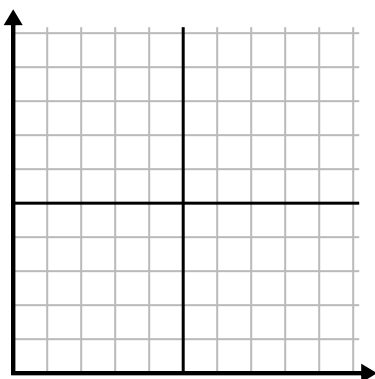
2)

День	1	2	3	4	5	6
Отправлено текстов	20	5	50	30	10	15



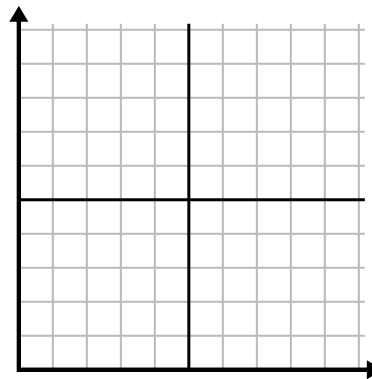
3)

День	1	2	3	4	5	6
Просмотренные видео на Youtube	300	240	60	210	180	270



4)

День	1	2	3	4	5
Деньги, потраченные	5	6	7	10	3



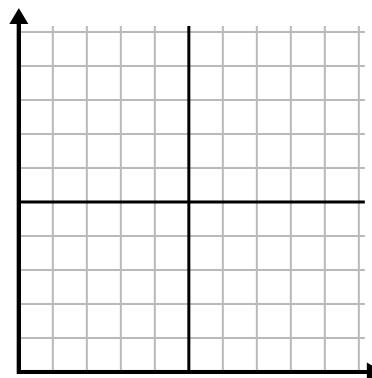
5)

Час	1	2	3	4	5	6	7
Проданная сумма	8	1	6	10	3	7	4



6)

Месяц	1	2	3	4	5
Цена счета за электричество	125	200	150	25	75

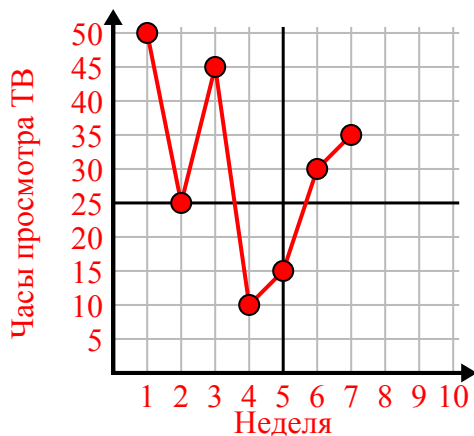




Заполните сетку с помощью диаграммы.

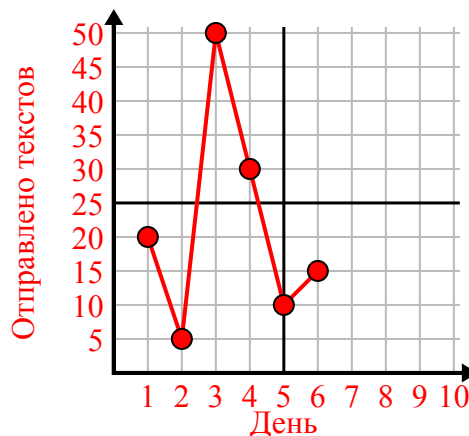
1)

Неделя	1	2	3	4	5	6	7
Часы просмотра ТВ	50	25	45	10	15	30	35



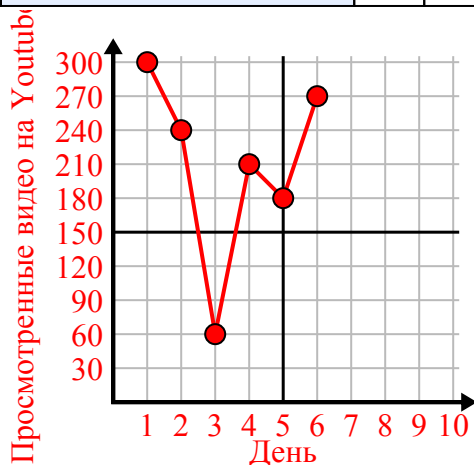
2)

День	1	2	3	4	5	6
Отправлено текстов	20	5	50	30	10	15



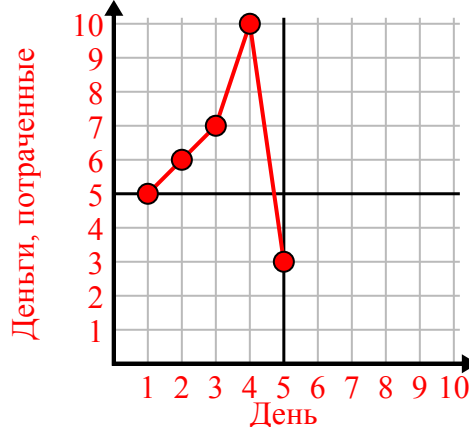
3)

День	1	2	3	4	5	6
Просмотренные видео на Youtube	300	240	60	210	180	270



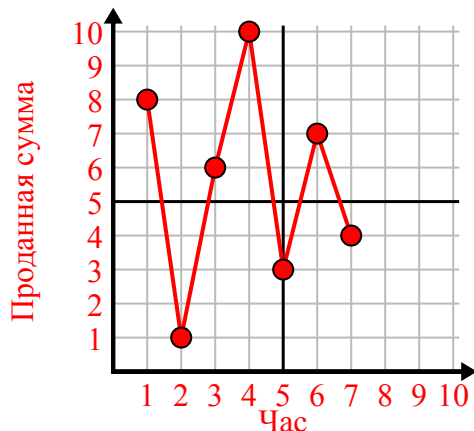
4)

День	1	2	3	4	5
Деньги, потраченные	5	6	7	10	3



5)

Час	1	2	3	4	5	6	7
Проданная сумма	8	1	6	10	3	7	4



6)

Месяц	1	2	3	4	5
Цена счета за электричество	125	200	150	25	75

