



Заполните сетку с помощью диаграммы.

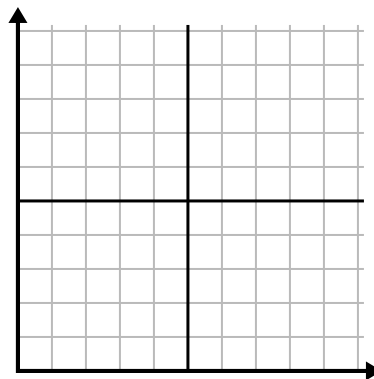
1)

| День | 1 | 2 | 3 | 4 | 5 | 6 | 7 |
|--------------------|---|----|----|----|----|----|----|
| Отправлено текстов | 5 | 30 | 25 | 50 | 35 | 15 | 10 |



2)

| День | 1 | 2 | 3 | 4 | 5 | 6 | 7 |
|---------------------|---|---|---|---|----|---|---|
| Деньги, потраченные | 1 | 5 | 4 | 6 | 10 | 2 | 3 |



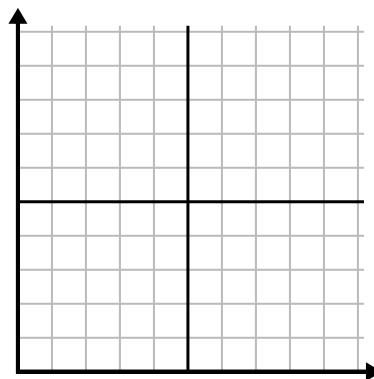
3)

| Неделя | 1 | 2 | 3 | 4 | 5 |
|-------------------------------|----|----|-----|----|----|
| Использованная вода (галлоны) | 20 | 60 | 100 | 90 | 70 |



4)

| День | 1 | 2 | 3 | 4 | 5 | 6 |
|-----------------|----|-----|----|----|-----|-----|
| Сожжено калорий | 80 | 180 | 40 | 20 | 100 | 200 |



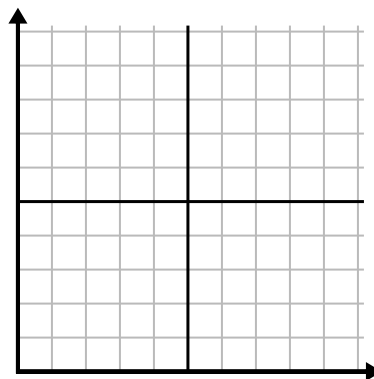
5)

| Месяц | 1 | 2 | 3 | 4 | 5 |
|-----------------------------|-----|-----|-----|-----|----|
| Цена счета за электричество | 150 | 175 | 125 | 200 | 25 |



6)

| Час | 1 | 2 | 3 | 4 | 5 | 6 |
|-----------------|---|---|---|----|---|---|
| Проданная сумма | 4 | 9 | 7 | 10 | 3 | 6 |

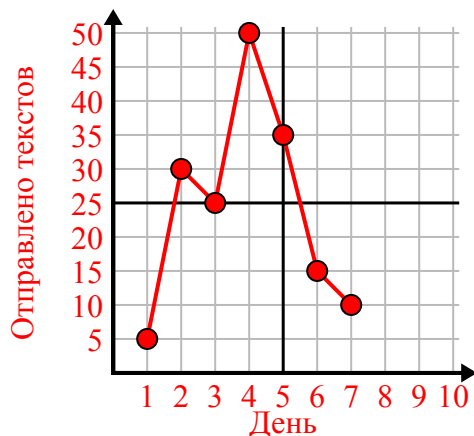




Заполните сетку с помощью диаграммы.

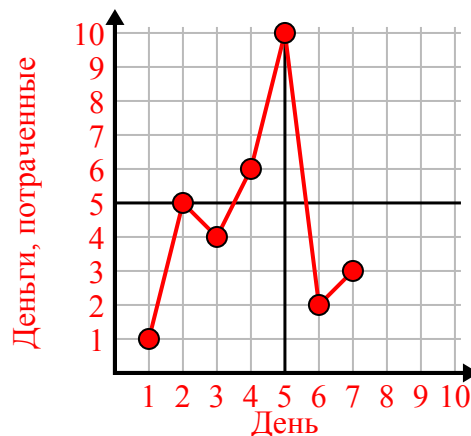
1)

| День | 1 | 2 | 3 | 4 | 5 | 6 | 7 |
|--------------------|---|----|----|----|----|----|----|
| Отправлено текстов | 5 | 30 | 25 | 50 | 35 | 15 | 10 |



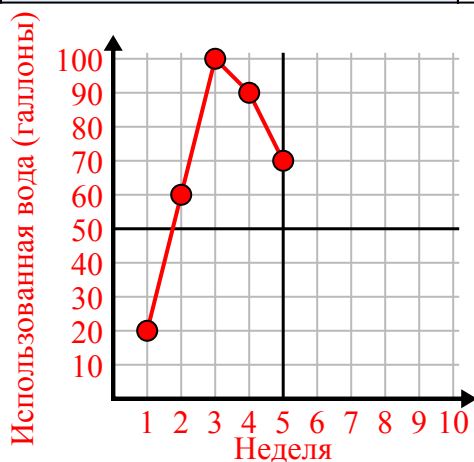
2)

| День | 1 | 2 | 3 | 4 | 5 | 6 | 7 |
|---------------------|---|---|---|---|----|---|---|
| Деньги, потраченные | 1 | 5 | 4 | 6 | 10 | 2 | 3 |



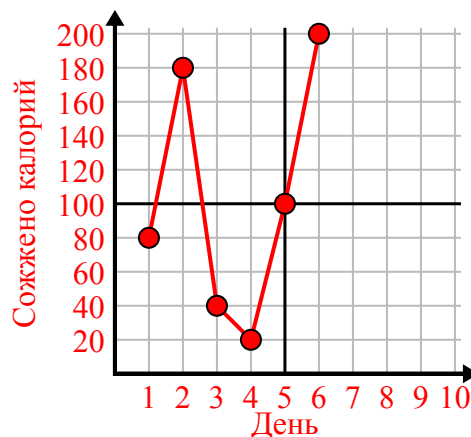
3)

| Неделя | 1 | 2 | 3 | 4 | 5 |
|-------------------------------|----|----|-----|----|----|
| Использованная вода (галлоны) | 20 | 60 | 100 | 90 | 70 |



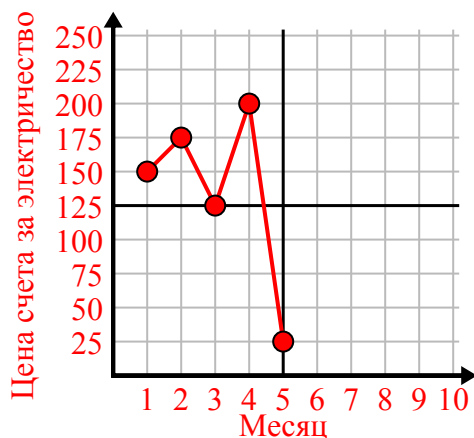
4)

| День | 1 | 2 | 3 | 4 | 5 | 6 |
|-----------------|----|-----|----|----|-----|-----|
| Сожжено калорий | 80 | 180 | 40 | 20 | 100 | 200 |



5)

| Месяц | 1 | 2 | 3 | 4 | 5 |
|-----------------------------|-----|-----|-----|-----|----|
| Цена счета за электричество | 150 | 175 | 125 | 200 | 25 |



6)

| Час | 1 | 2 | 3 | 4 | 5 | 6 |
|-----------------|---|---|---|----|---|---|
| Проданная сумма | 4 | 9 | 7 | 10 | 3 | 6 |

