



Заполните сетку с помощью диаграммы.

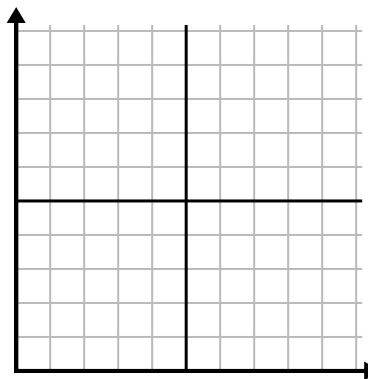
1)

День	1	2	3	4	5
Сожжено калорий	160	40	100	20	180



2)

Год	1	2	3	4	5
Коробки использованных ручек	9	2	8	6	10



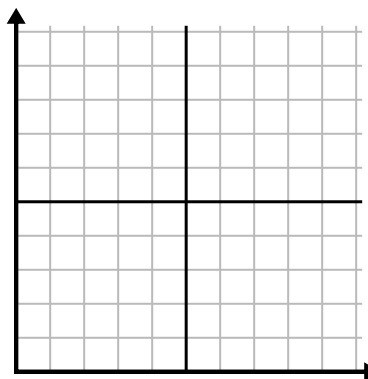
3)

День	1	2	3	4	5
Отправлено текстов	40	25	45	5	30



4)

День	1	2	3	4	5	6	7
Продано блюд	600	900	200	1 000	500	400	700



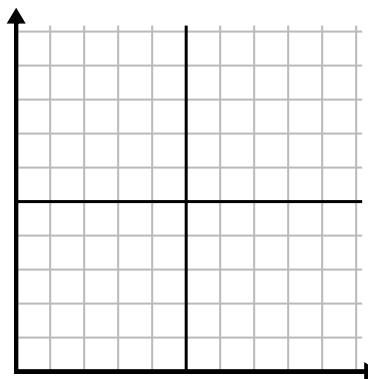
5)

Час	1	2	3	4	5
Проданная сумма	8	5	10	3	9



6)

Неделя	1	2	3	4	5
Использованная вода (галлоны)	70	80	10	40	100

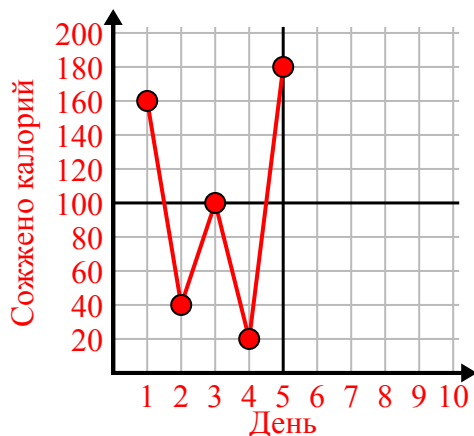




Заполните сетку с помощью диаграммы.

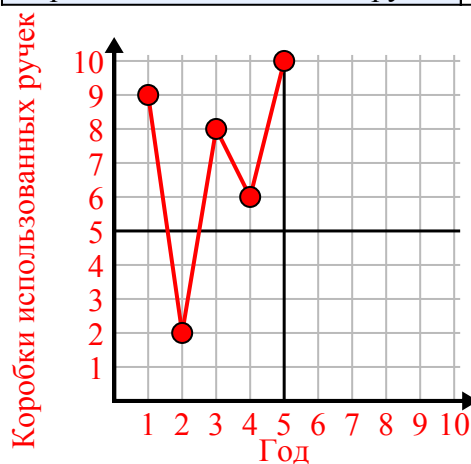
1)

День	1	2	3	4	5
Сожжено калорий	160	40	100	20	180



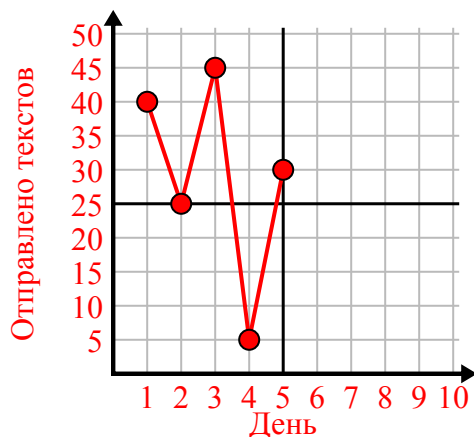
2)

Год	1	2	3	4	5
Коробки использованных ручек	9	2	8	6	10



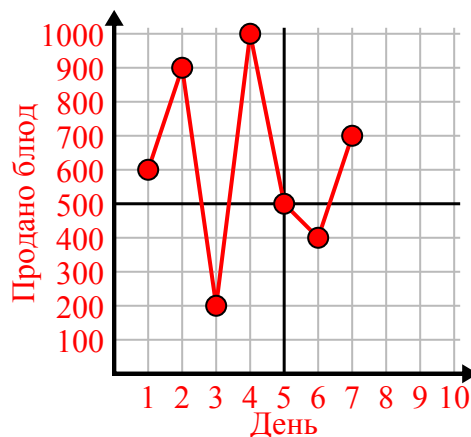
3)

День	1	2	3	4	5
Отправлено текстов	40	25	45	5	30



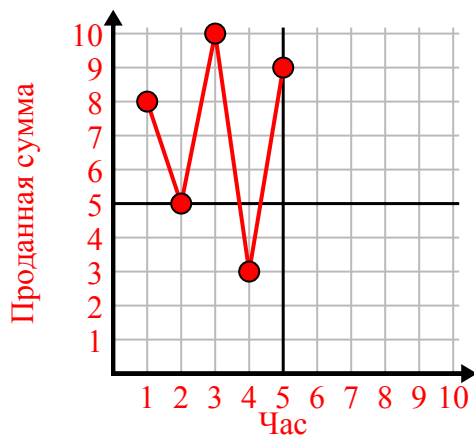
4)

День	1	2	3	4	5	6	7
Продано блюд	600	900	200	1000	500	400	700



5)

Час	1	2	3	4	5
Проданная сумма	8	5	10	3	9



6)

Неделя	1	2	3	4	5
Использованная вода (галлоны)	70	80	10	40	100

