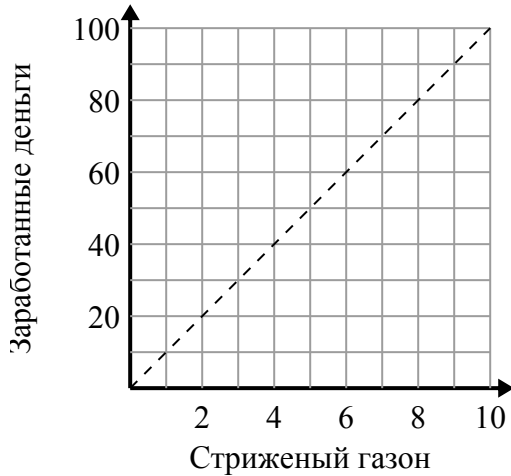




Определите, какие утверждения о графике верны.

Ответы

1)



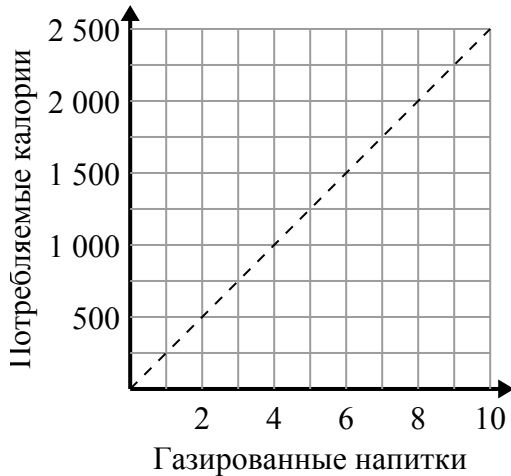
- A. Точка (3 , 30) означает, что вы заработаете 30 долларов за стрижку 3 газонов.
- B. Точка (90 , 9) означает, что вы заработаете 90 долларов за стрижку 9 газонов.
- C. Точка (1 , 10) означает, что за покос газонов 1 вы заработаете 10 долларов.
- D. Точка (10 , 1) означает, что за покос газонов 1 вы заработаете 10 долларов.

1. _____

2. _____

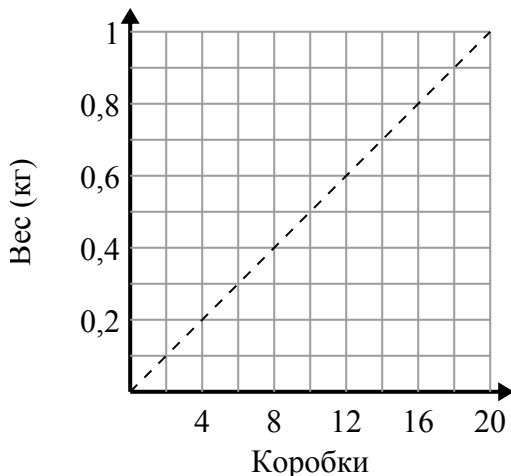
3. _____

2)



- A. Точка (2 , 500) показывает, что употребление газированных напитков 2 будет означать, что вы израсходовали 500 калорий.
- B. Точка (1 , 250) показывает, что употребление газированных напитков 1 будет означать, что вы израсходовали 250 калорий.
- C. Точка (1000 , 4) показывает, что употребление газированных напитков 4 будет означать, что вы израсходовали 1000 калорий.
- D. Точка (4 , 1000) показывает, что для потребления 1000 калорий вам необходимо выпить 4 газированных напитков.

3)



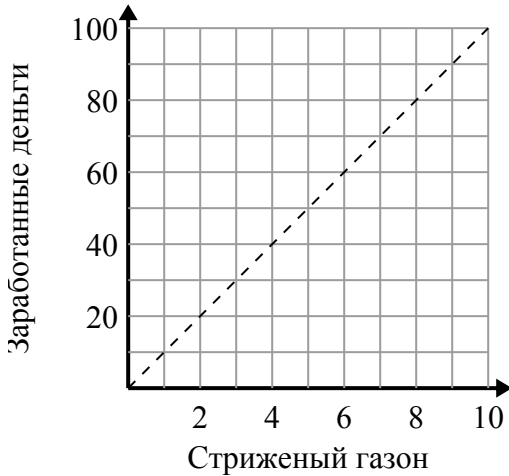
- A. Точка (4 , 0.2) показывает, что 0.2 килограмм - это вес 4 коробок.
- B. Точка (12 , 0.6) показывает, что коробки 12 весят 0.6 килограмм.
- C. Точка (0.5 , 10) показывает, что 0.5 килограмм - это вес 10 коробок.
- D. Точка (16 , 0.8) показывает, что коробки 16 весят 0.8 килограмм.



Определите, какие утверждения о графике верны.

Ответы

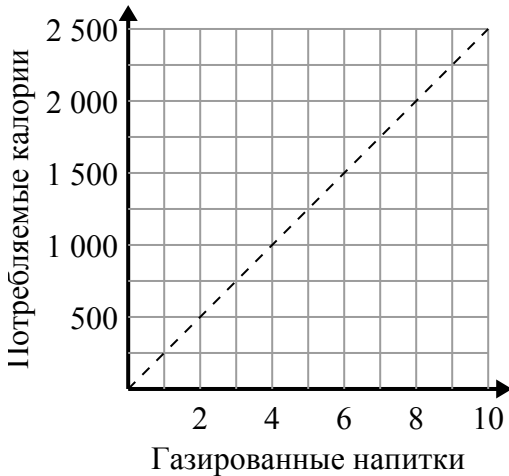
1)



- A. Точка (3 , 30) означает, что вы заработаете 30 долларов за стрижку 3 газонов.
- B. Точка (90 , 9) означает, что вы заработаете 90 долларов за стрижку 9 газонов.
- C. Точка (1 , 10) означает, что за покос газонов 1 вы заработаете 10 долларов.
- D. Точка (10 , 1) означает, что за покос газонов 1 вы заработаете 10 долларов.

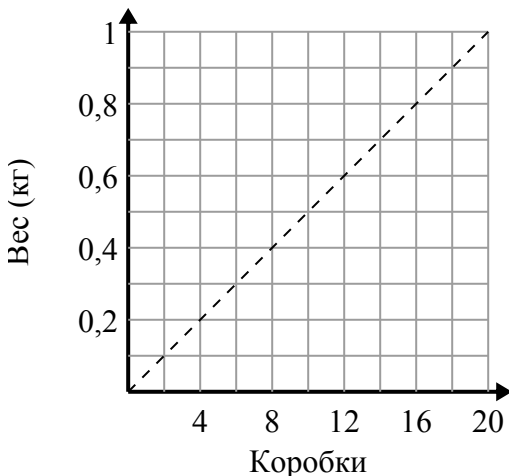
1. A,C 2. A,B,D 3. A,B,D

2)



- A. Точка (2 , 500) показывает, что употребление газированных напитков 2 будет означать, что вы израсходовали 500 калорий.
- B. Точка (1 , 250) показывает, что употребление газированных напитков 1 будет означать, что вы израсходовали 250 калорий.
- C. Точка (1000 , 4) показывает, что употребление газированных напитков 4 будет означать, что вы израсходовали 1000 калорий.
- D. Точка (4 , 1000) показывает, что для потребления 1000 калорий вам необходимо выпить 4 газированных напитков.

3)



- A. Точка (4 , 0.2) показывает, что 0.2 килограмм - это вес 4 коробок.
- B. Точка (12 , 0.6) показывает, что коробки 12 весят 0.6 килограмм.
- C. Точка (0.5 , 10) показывает, что 0.5 килограмм - это вес 10 коробок.
- D. Точка (16 , 0.8) показывает, что коробки 16 весят 0.8 килограмм.