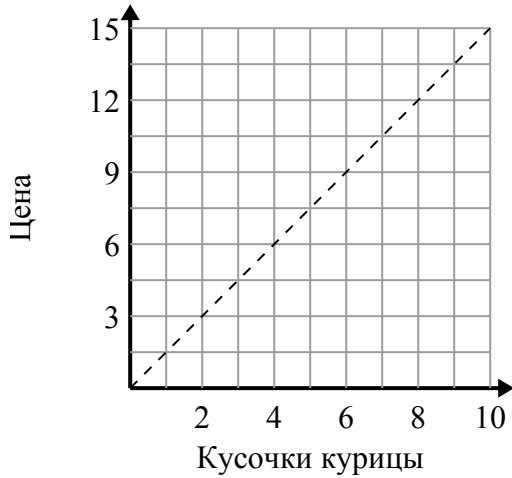




Определите, какие утверждения о графике верны.

Отвeты

1)



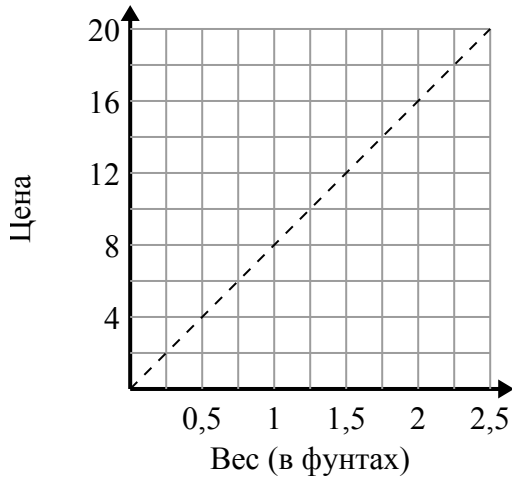
- A. Точка (3 , 4.5) показывает, что за \$ 4.5 вы можете купить 3 кусочков курицы.
- B. Точка (8 , 12) показывает, что за \$ 12 вы можете купить 8 кусочков курицы.
- C. Точка (9 , 13.5) показывает, что 9 кусочков курицы будут стоить 13.5 долларов.
- D. Точка (10.5 , 7) показывает, что за \$ 10.5 вы можете купить 7 кусочков курицы.

1. _____

2. _____

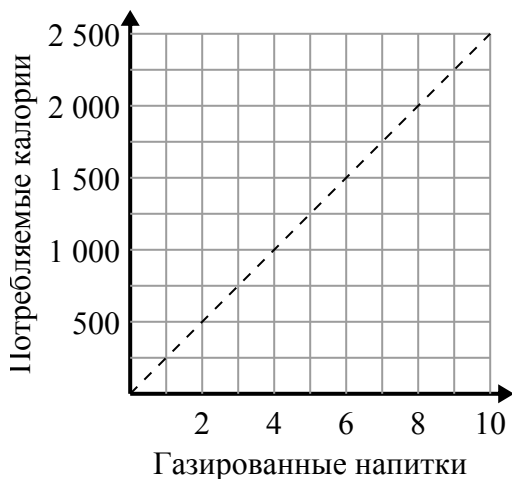
3. _____

2)



- A. Точка (10 , 1.25) показывает, что 1.25 фунтов будет стоить 10 долл. США.
- B. Точка (1 , 8) показывает, что 1 фунтов будет стоить 8 долл. США.
- C. Точка (2 , 16) показывает, что это будет стоить 16 долларов за 2 фунтов.
- D. Точка (14 , 1.75) показывает, что 1.75 фунтов будет стоить 14 долл. США.

3)



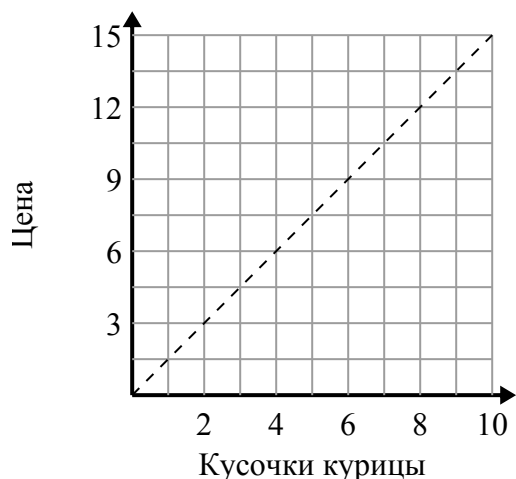
- A. Точка (1250 , 5) показывает, что для потребления 1250 калорий вам необходимо выпить 5 газированных напитков.
- B. Точка (3 , 750) показывает, что для потребления 750 калорий вам необходимо выпить 3 газированных напитков.
- C. Точка (500 , 2) показывает, что для потребления 500 калорий вам необходимо выпить 2 газированных напитков.
- D. Точка (5 , 1250) показывает, что для потребления 1250 калорий вам необходимо выпить 5 газированных напитков.



Определите, какие утверждения о графике верны.

Ответы

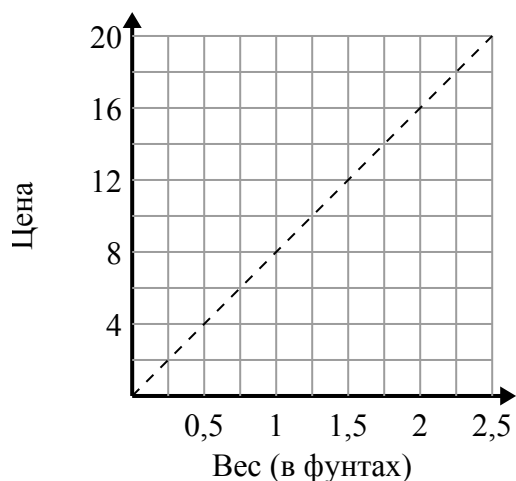
1)



- A. Точка (3 , 4.5) показывает, что за \$ 4.5 вы можете купить 3 кусочков курицы.
- B. Точка (8 , 12) показывает, что за \$ 12 вы можете купить 8 кусочков курицы.
- C. Точка (9 , 13.5) показывает, что 9 кусочков курицы будут стоить 13.5 долларов.
- D. Точка (10.5 , 7) показывает, что за \$ 10.5 вы можете купить 7 кусочков курицы.

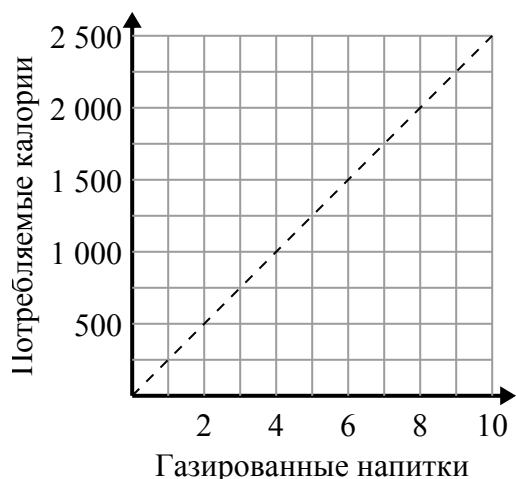
1. **A,B,C**2. **B,C**3. **B,D**

2)



- A. Точка (10 , 1.25) показывает, что 1.25 фунтов будет стоить 10 долл. США.
- B. Точка (1 , 8) показывает, что 1 фунтов будет стоить 8 долл. США.
- C. Точка (2 , 16) показывает, что это будет стоить 16 долларов за 2 фунтов.
- D. Точка (14 , 1.75) показывает, что 1.75 фунтов будет стоить 14 долл. США.

3)



- A. Точка (1250 , 5) показывает, что для потребления 1250 калорий вам необходимо выпить 5 газированных напитков.
- B. Точка (3 , 750) показывает, что для потребления 750 калорий вам необходимо выпить 3 газированных напитков.
- C. Точка (500 , 2) показывает, что для потребления 500 калорий вам необходимо выпить 2 газированных напитков.
- D. Точка (5 , 1250) показывает, что для потребления 1250 калорий вам необходимо выпить 5 газированных напитков.