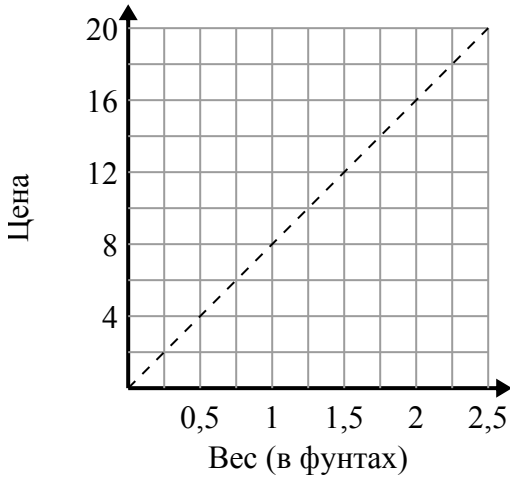




Определите, какие утверждения о графике верны.

Ответы

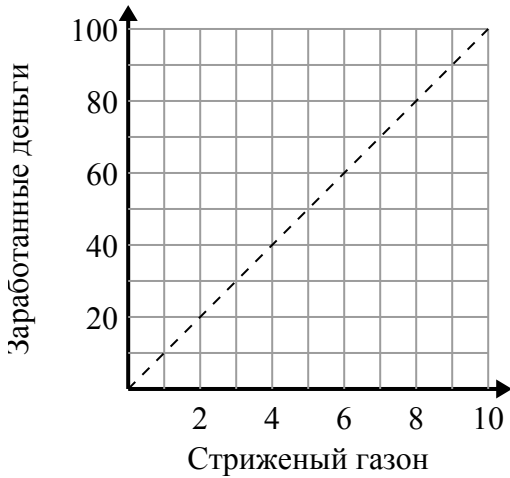
1)



- A. Точка (0.5 , 4) показывает, что 0.5 фунтов будет стоить 4 долл. США.
- B. Точка (6 , 0.75) показывает, что это будет стоить 6 долларов за 0.75 фунтов.
- C. Точка (1 , 8) показывает, что 1 фунтов будет стоить 8 долл. США.
- D. Точка (4 , 0.5) показывает, что это будет стоить 4 долларов за 0.5 фунтов.

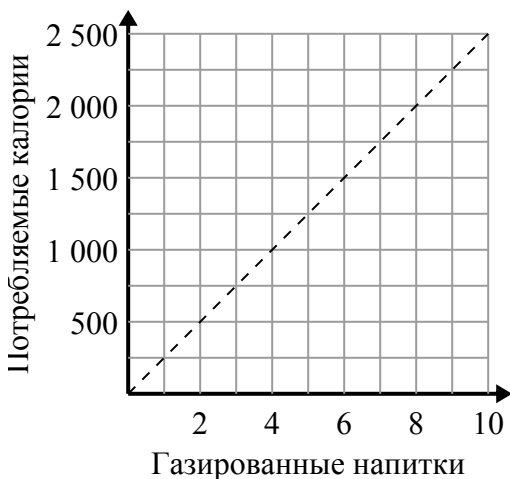
- 1. _____
- 2. _____
- 3. _____

2)



- A. Точка (5 , 50) означает, что вы заработаете 50 долларов за стрижку 5 газонов.
- B. Точка (50 , 5) означает, что за покос газонов 5 вы заработаете 50 долларов.
- C. Точка (10 , 1) означает, что вы заработаете 10 долларов за стрижку 1 газонов.
- D. Точка (4 , 40) означает, что за покос газонов 4 вы заработаете 40 долларов.

3)



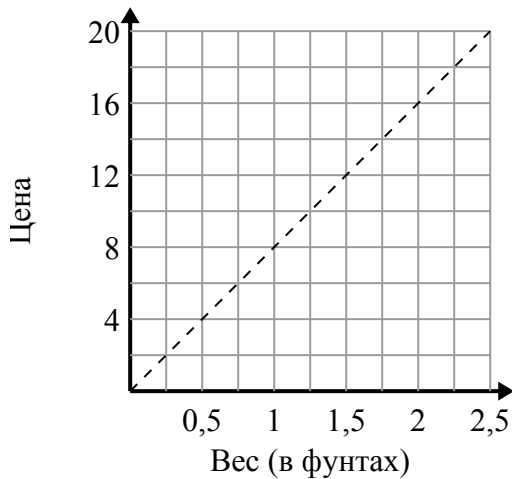
- A. Точка (1250 , 5) показывает, что для потребления 1250 калорий вам необходимо выпить 5 газированных напитков.
- B. Точка (5 , 1250) показывает, что употребление газированных напитков 5 будет означать, что вы израсходовали 1250 калорий.
- C. Точка (1000 , 4) показывает, что употребление газированных напитков 4 будет означать, что вы израсходовали 1000 калорий.
- D. Точка (3 , 750) показывает, что для потребления 750 калорий вам необходимо выпить 3 газированных напитков.



Определите, какие утверждения о графике верны.

ОТВЕТЫ

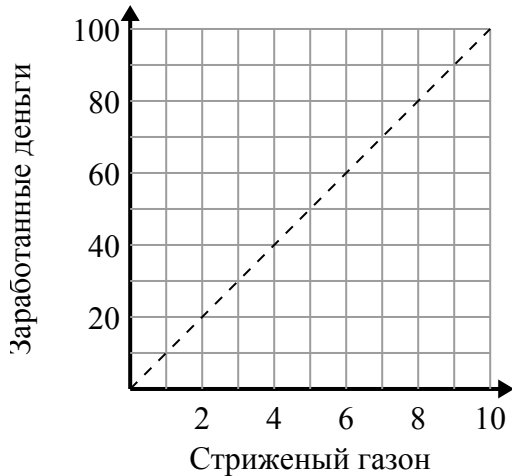
1)



- A. Точка $(0.5, 4)$ показывает, что 0.5 фунтов будет стоить 4 долл. США.
- B. Точка $(6, 0.75)$ показывает, что это будет стоить 6 долларов за 0.75 фунтов.
- C. Точка $(1, 8)$ показывает, что 1 фунтов будет стоить 8 долл. США.
- D. Точка $(4, 0.5)$ показывает, что это будет стоить 4 долларов за 0.5 фунтов.

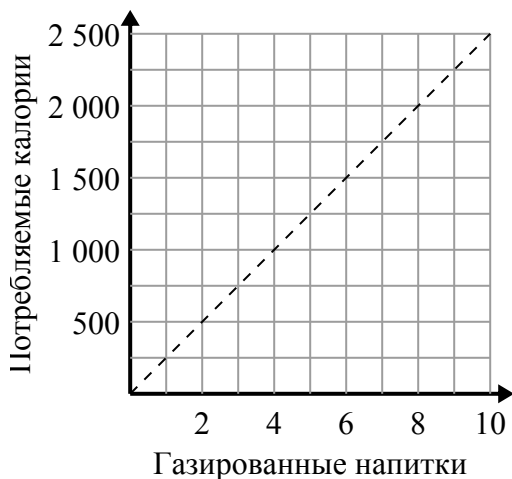
1. **A,C** 2. **A,D** 3. **B,D**

2)



- A. Точка $(5, 50)$ означает, что вы заработаете 50 долларов за стрижку 5 газонов.
- B. Точка $(50, 5)$ означает, что за покос газонов 5 вы заработаете 50 долларов.
- C. Точка $(10, 1)$ означает, что вы заработаете 10 долларов за стрижку 1 газонов.
- D. Точка $(4, 40)$ означает, что за покос газонов 4 вы заработаете 40 долларов.

3)



- A. Точка $(1250, 5)$ показывает, что для потребления 1250 калорий вам необходимо выпить 5 газированных напитков.
- B. Точка $(5, 1250)$ показывает, что употребление газированных напитков 5 будет означать, что вы израсходовали 1250 калорий.
- C. Точка $(1000, 4)$ показывает, что употребление газированных напитков 4 будет означать, что вы израсходовали 1000 калорий.
- D. Точка $(3, 750)$ показывает, что для потребления 750 калорий вам необходимо выпить 3 газированных напитков.