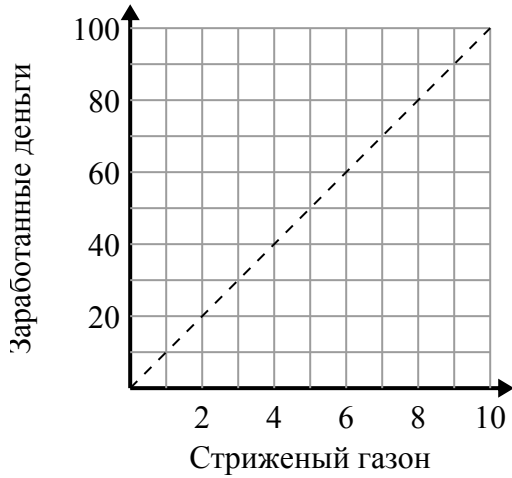




Определите, какие утверждения о графике верны.

ОТВЕТЫ

1)



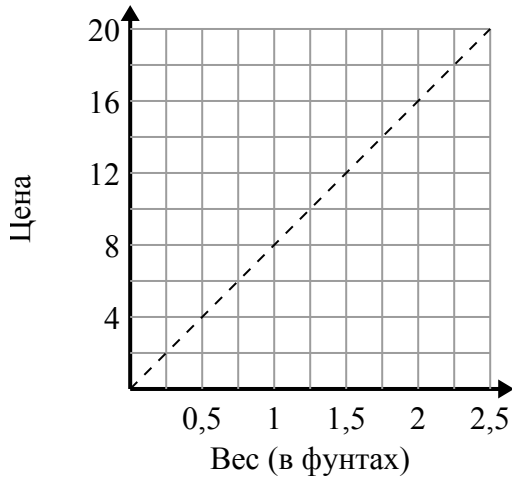
- A. Точка (90 , 9) означает, что за покос газонов 9 вы заработаете 90 долларов.
- B. Точка (10 , 1) означает, что вы заработаете 10 долларов за стрижку 1 газонов.
- C. Точка (8 , 80) означает, что за покос газонов 8 вы заработаете 80 долларов.
- D. Точка (1 , 10) означает, что за покос газонов 1 вы заработаете 10 долларов.

1. _____

2. _____

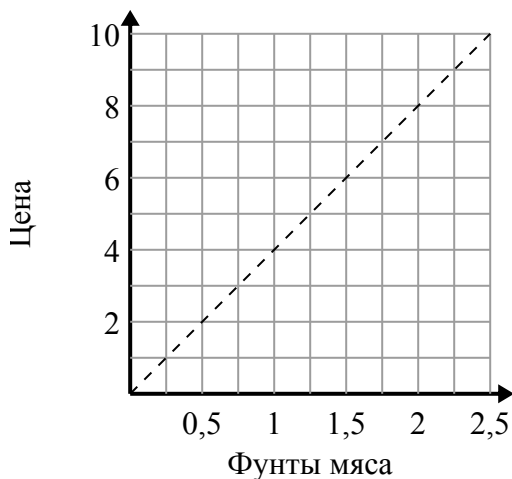
3. _____

2)



- A. Точка (1.75 , 14) показывает, что это будет стоить 14 долларов за 1.75 фунтов.
- B. Точка (2 , 16) показывает, что 2 фунтов будет стоить 16 долл. США.
- C. Точка (4 , 0.5) показывает, что 0.5 фунтов будет стоить 4 долл. США.
- D. Точка (6 , 0.75) показывает, что это будет стоить 6 долларов за 0.75 фунтов.

3)



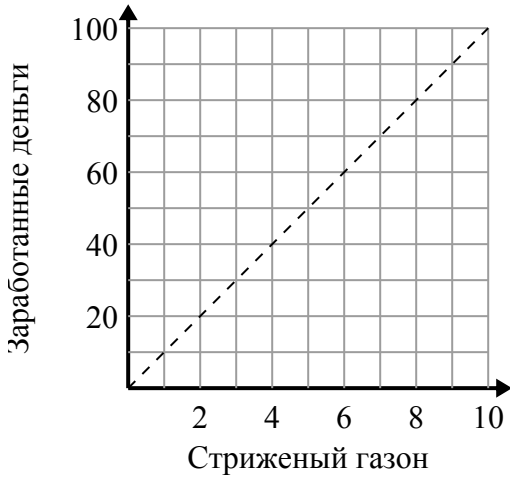
- A. Точка (8 , 2) означает, что на \$ 8 вы купите 2 фунтов мяса.
- B. Точка (4 , 1) показывает, что покупка 1 фунтов мяса будет стоить 4 долларов.
- C. Точка (3 , 0.75) показывает, что покупка 0.75 фунтов мяса будет стоить 3 долларов.
- D. Точка (0.75 , 3) означает, что на \$ 3 вы купите 0.75 фунтов мяса.



Определите, какие утверждения о графике верны.

ОТВЕТЫ

1)



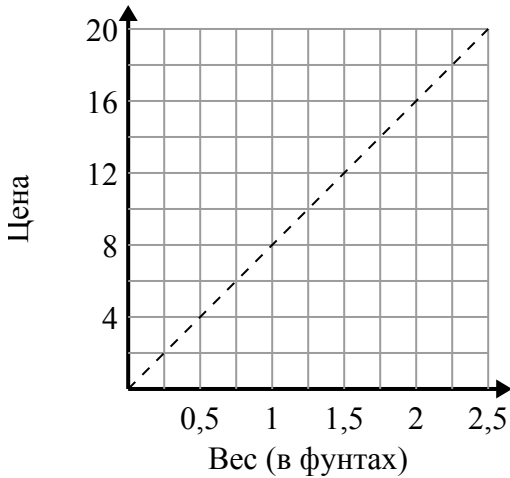
- A. Точка (90 , 9) означает, что за покос газонов 9 вы заработаете 90 долларов.
- B. Точка (10 , 1) означает, что вы заработаете 10 долларов за стрижку 1 газонов.
- C. Точка (8 , 80) означает, что за покос газонов 8 вы заработаете 80 долларов.
- D. Точка (1 , 10) означает, что за покос газонов 1 вы заработаете 10 долларов.

1. **C,D**

2. **A,B**

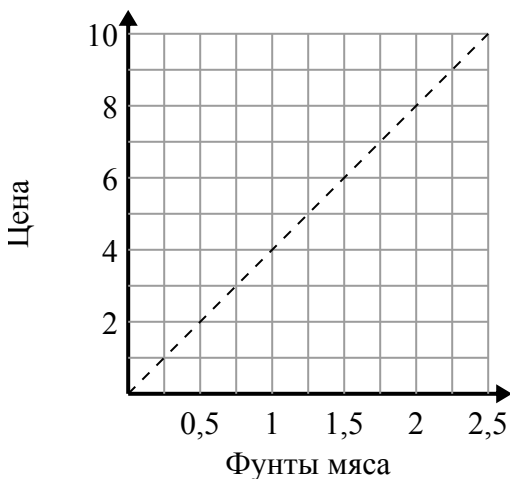
3. **D**

2)



- A. Точка (1.75 , 14) показывает, что это будет стоить 14 долларов за 1.75 фунтов.
- B. Точка (2 , 16) показывает, что 2 фунтов будет стоить 16 долл. США.
- C. Точка (4 , 0.5) показывает, что 0.5 фунтов будет стоить 4 долл. США.
- D. Точка (6 , 0.75) показывает, что это будет стоить 6 долларов за 0.75 фунтов.

3)



- A. Точка (8 , 2) означает, что на \$ 8 вы купите 2 фунтов мяса.
- B. Точка (4 , 1) показывает, что покупка 1 фунтов мяса будет стоить 4 долларов.
- C. Точка (3 , 0.75) показывает, что покупка 0.75 фунтов мяса будет стоить 3 долларов.
- D. Точка (0.75 , 3) означает, что на \$ 3 вы купите 0.75 фунтов мяса.