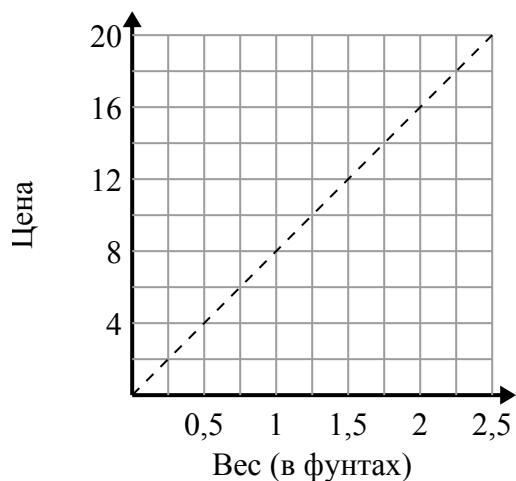




Определите, какие утверждения о графике верны.

ОТВЕТЫ

1)



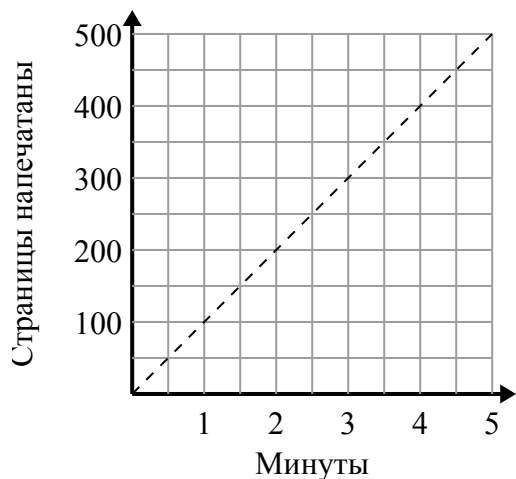
- A. Точка $(0.75, 6)$ показывает, что 0.75 фунтов будет стоить 6 долл. США.
- B. Точка $(0.25, 2)$ показывает, что это будет стоить 2 доллара за 0.25 фунтов.
- C. Точка $(6, 0.75)$ показывает, что это будет стоить 6 долларов за 0.75 фунтов.
- D. Точка $(12, 1.5)$ показывает, что это будет стоить 12 долларов за 1.5 фунтов.

1. _____

2. _____

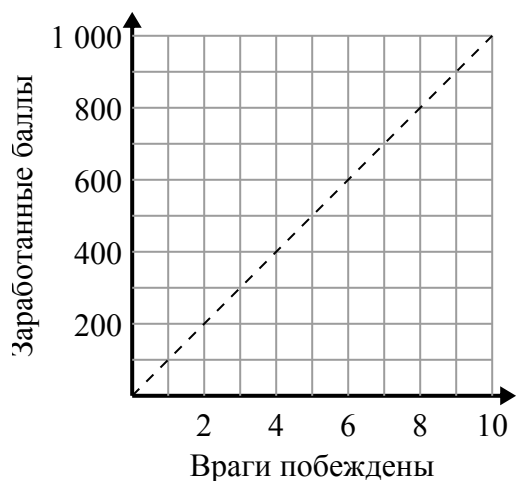
3. _____

2)



- A. Точка $(150, 1.5)$ показывает, что для печати 150 страниц требуется 1.5 минут.
- B. Точка $(450, 4.5)$ показывает, что печать страниц 450 займет 4.5 минут.
- C. Точка $(1, 100)$ показывает, что печать страниц 100 займет 1 минут.
- D. Точка $(1.5, 150)$ показывает, что печать страниц 150 займет 1.5 минут.

3)



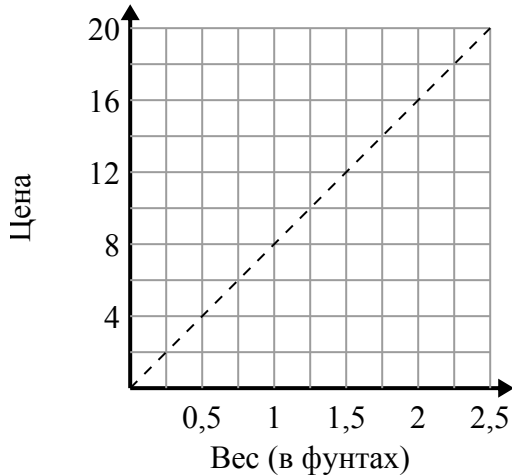
- A. Точка $(600, 6)$ показывает, что победа над 6 противниками принесет вам 600 очков.
- B. Точка $(6, 600)$ показывает, что вы заработаете 600 очков за победу над 6 врагами.
- C. Точка $(500, 5)$ показывает, что вы заработаете 500 очков за победу над 5 врагами.
- D. Точка $(9, 900)$ показывает, что победа над 9 противниками принесет вам 900 очков.



Определите, какие утверждения о графике верны.

ОТВЕТЫ

1)



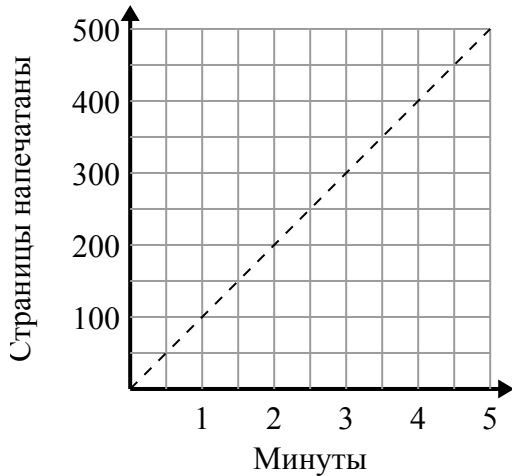
- A. Точка (0.75 , 6) показывает, что 0.75 фунтов будет стоить 6 долл. США.
- B. Точка (0.25 , 2) показывает, что это будет стоить 2 долларов за 0.25 фунтов.
- C. Точка (6 , 0.75) показывает, что это будет стоить 6 долларов за 0.75 фунтов.
- D. Точка (12 , 1.5) показывает, что это будет стоить 12 долларов за 1.5 фунтов.

1. **A,B**

2. **C,D**

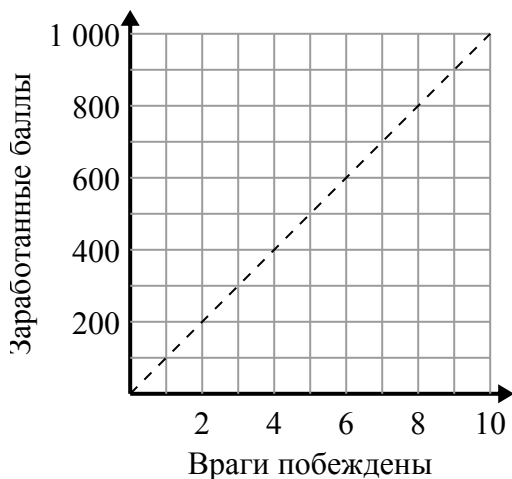
3. **B,D**

2)



- A. Точка (150 , 1.5) показывает, что для печати 150 страниц требуется 1.5 минут.
- B. Точка (450 , 4.5) показывает, что печать страниц 450 займет 4.5 минут.
- C. Точка (1 , 100) показывает, что печать страниц 100 займет 1 минут.
- D. Точка (1.5 , 150) показывает, что печать страниц 150 займет 1.5 минут.

3)



- A. Точка (600 , 6) показывает, что победа над 6 противниками принесет вам 600 очков.
- B. Точка (6 , 600) показывает, что вы заработаете 600 очков за победу над 6 врагами.
- C. Точка (500 , 5) показывает, что вы заработаете 500 очков за победу над 5 врагами.
- D. Точка (9 , 900) показывает, что победа над 9 противниками принесет вам 900 очков.