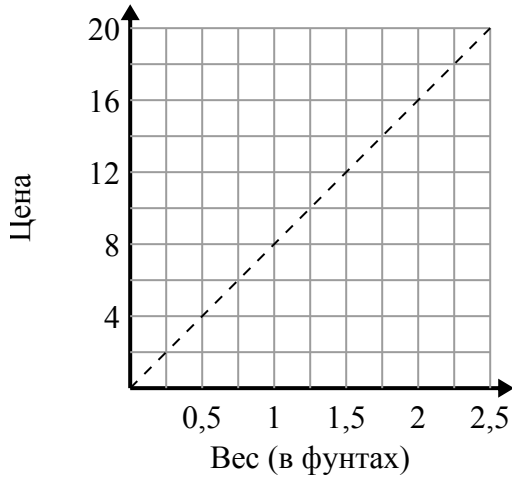




Определите, какие утверждения о графике верны.

Ответы

1)



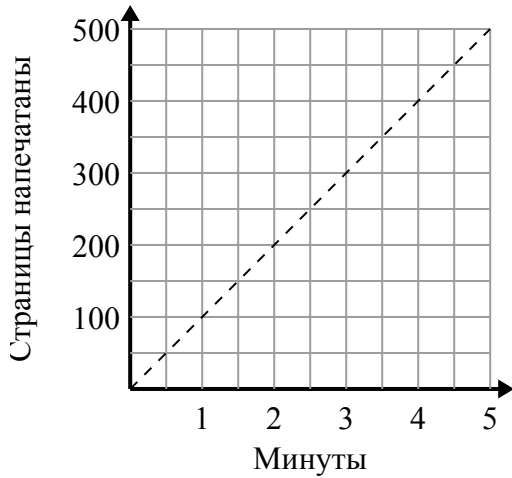
- A. Точка (1, 8) показывает, что 1 фунтов будет стоить 8 долл. США.
- B. Точка (0.5, 4) показывает, что 0.5 фунтов будет стоить 4 долл. США.
- C. Точка (14, 1.75) показывает, что 1.75 фунтов будет стоить 14 долл. США.
- D. Точка (1.5, 12) показывает, что 1.5 фунтов будет стоить 12 долл. США.

1. _____

2. _____

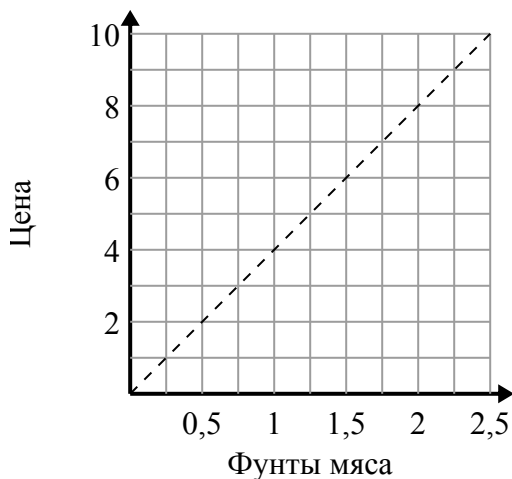
3. _____

2)



- A. Точка (200, 2) показывает, что для печати 200 страниц требуется 2 минут.
- B. Точка (4.5, 450) показывает, что печать страниц 450 займет 4.5 минут.
- C. Точка (150, 1.5) показывает, что печать страниц 150 займет 1.5 минут.
- D. Точка (350, 3.5) показывает, что печать страниц 350 займет 3.5 минут.

3)



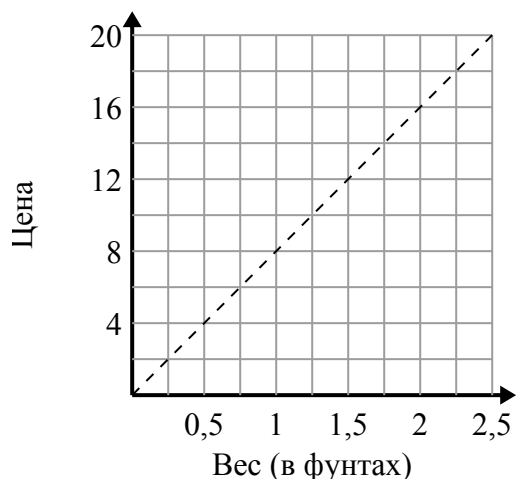
- A. Точка (1.5, 6) означает, что на \$ 6 вы купите 1.5 фунтов мяса.
- B. Точка (2, 0.5) показывает, что покупка 0.5 фунтов мяса будет стоить 2 долларов.
- C. Точка (2.25, 9) показывает, что покупка 2.25 фунтов мяса будет стоить 9 долларов.
- D. Точка (4, 1) означает, что на \$ 4 вы купите 1 фунтов мяса.



Определите, какие утверждения о графике верны.

Ответы

1)



A. Точка (1, 8) показывает, что 1 фунтов будет стоить 8 долл. США.

B. Точка (0.5, 4) показывает, что 0.5 фунтов будет стоить 4 долл. США.

C. Точка (14, 1.75) показывает, что 1.75 фунтов будет стоить 14 долл. США.

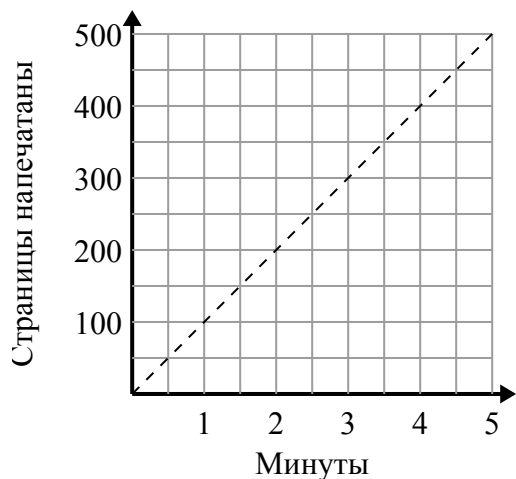
D. Точка (1.5, 12) показывает, что 1.5 фунтов будет стоить 12 долл. США.

1. **A,B,D**

2. **B**

3. **A,C**

2)



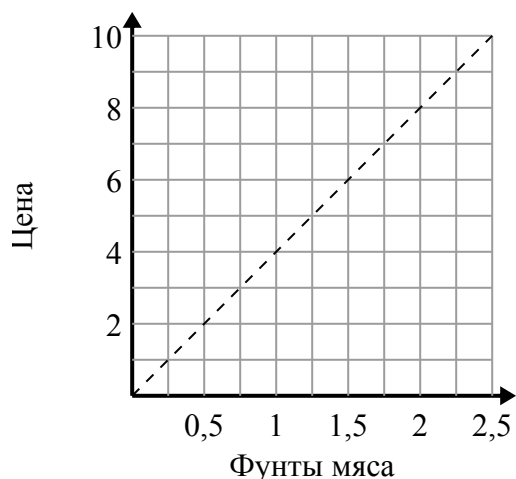
A. Точка (200, 2) показывает, что для печати 200 страниц требуется 2 минут.

B. Точка (4.5, 450) показывает, что печать страниц 450 займет 4.5 минут.

C. Точка (150, 1.5) показывает, что печать страниц 150 займет 1.5 минут.

D. Точка (350, 3.5) показывает, что печать страниц 350 займет 3.5 минут.

3)



A. Точка (1.5, 6) означает, что на \$ 6 вы купите 1.5 фунтов мяса.

B. Точка (2, 0.5) показывает, что покупка 0.5 фунтов мяса будет стоить 2 долларов.

C. Точка (2.25, 9) показывает, что покупка 2.25 фунтов мяса будет стоить 9 долларов.

D. Точка (4, 1) означает, что на \$ 4 вы купите 1 фунтов мяса.