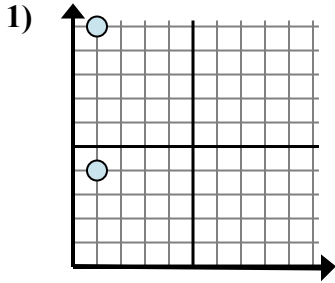


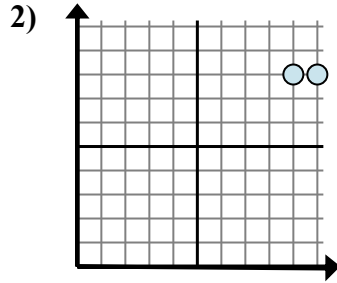


Определите, какое выражение лучше всего показывает расстояние между двумя точками.

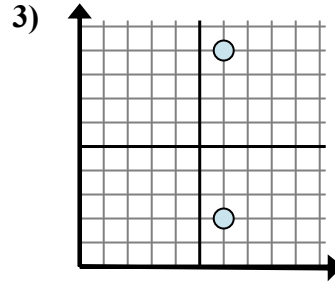
ОТВЕТЫ



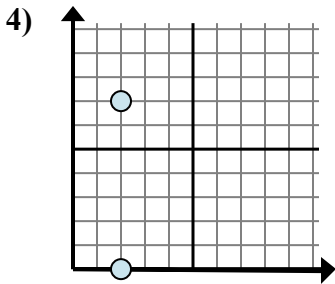
- A. $10 - 1$
- B. $10 - 4$
- C. $4 - 10$
- D. $1 - 10$



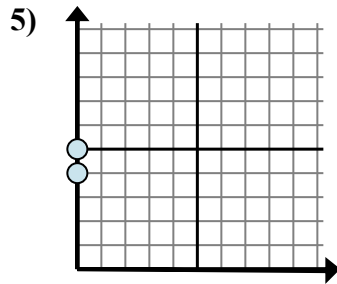
- A. $9 - 10$
- B. $8 - 10$
- C. $8 - 10$
- D. $10 - 9$



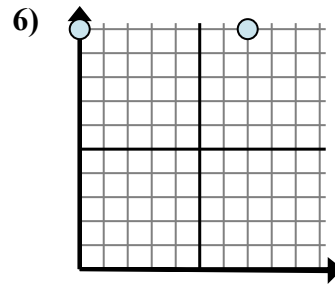
- A. $2 - 9$
- B. $9 - 2$
- C. $9 - 6$
- D. $6 - 6$



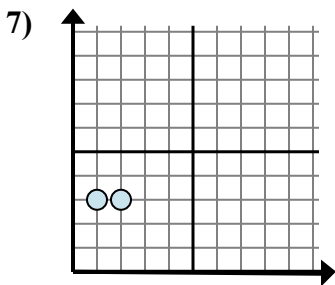
- A. $2 - 2$
- B. $2 - 0$
- C. $2 - 2$
- D. $7 - 0$



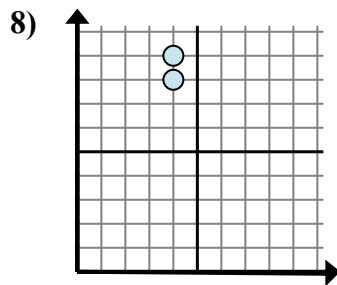
- A. $5 - 4$
- B. $5 - 0$
- C. $0 - 4$
- D. $0 - 0$



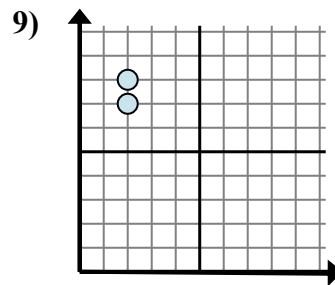
- A. $7 - 0$
- B. $10 - 10$
- C. $0 - 7$
- D. $10 - 10$



- A. $1 - 2$
- B. $2 - 3$
- C. $1 - 3$
- D. $2 - 1$



- A. $9 - 4$
- B. $9 - 8$
- C. $4 - 4$
- D. $8 - 4$

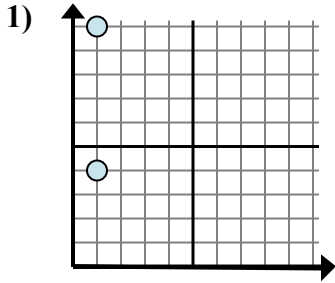


- A. $2 - 2$
- B. $8 - 2$
- C. $8 - 7$
- D. $7 - 8$

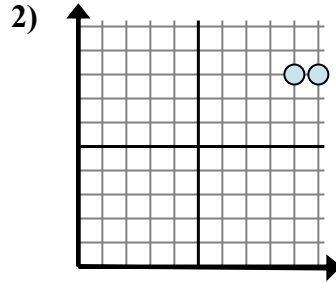
- 1. _____
- 2. _____
- 3. _____
- 4. _____
- 5. _____
- 6. _____
- 7. _____
- 8. _____
- 9. _____



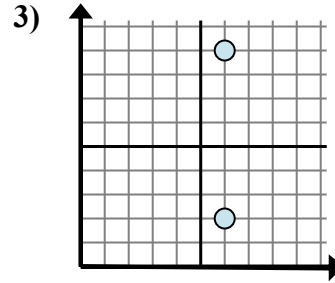
Определите, какое выражение лучше всего показывает расстояние между двумя точками.



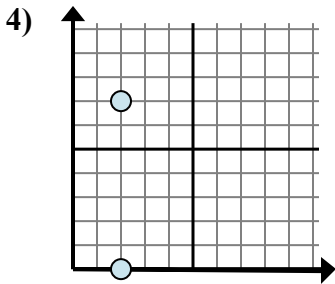
- A. $10 - 1$
- B. $10 - 4$
- C. $4 - 10$
- D. $1 - 10$



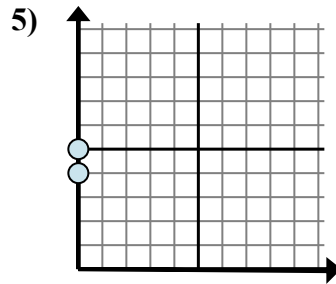
- A. $9 - 10$
- B. $8 - 10$
- C. $8 - 10$
- D. $10 - 9$



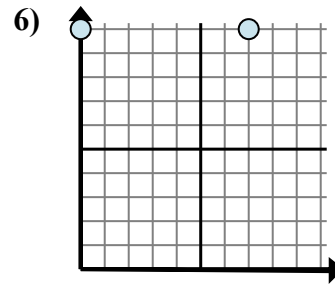
- A. $2 - 9$
- B. $9 - 2$
- C. $9 - 6$
- D. $6 - 6$



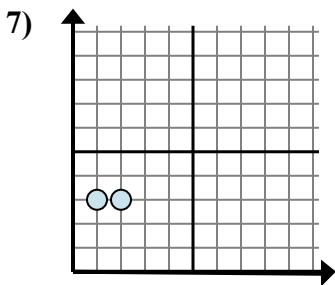
- A. $2 - 2$
- B. $2 - 0$
- C. $2 - 2$
- D. $7 - 0$



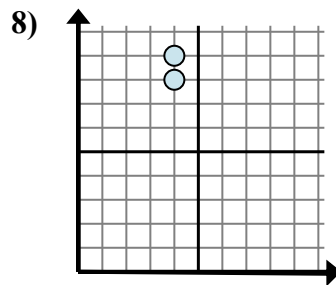
- A. $5 - 4$
- B. $5 - 0$
- C. $0 - 4$
- D. $0 - 0$



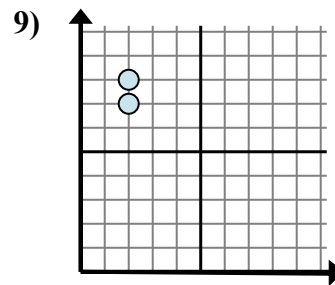
- A. $7 - 0$
- B. $10 - 10$
- C. $0 - 7$
- D. $10 - 10$



- A. $1 - 2$
- B. $2 - 3$
- C. $1 - 3$
- D. $2 - 1$



- A. $9 - 4$
- B. $9 - 8$
- C. $4 - 4$
- D. $8 - 4$



- A. $2 - 2$
- B. $8 - 2$
- C. $8 - 7$
- D. $7 - 8$

ОТВЕТЫ

- 1. **B**
- 2. **D**
- 3. **B**
- 4. **D**
- 5. **A**
- 6. **A**
- 7. **D**
- 8. **B**
- 9. **C**