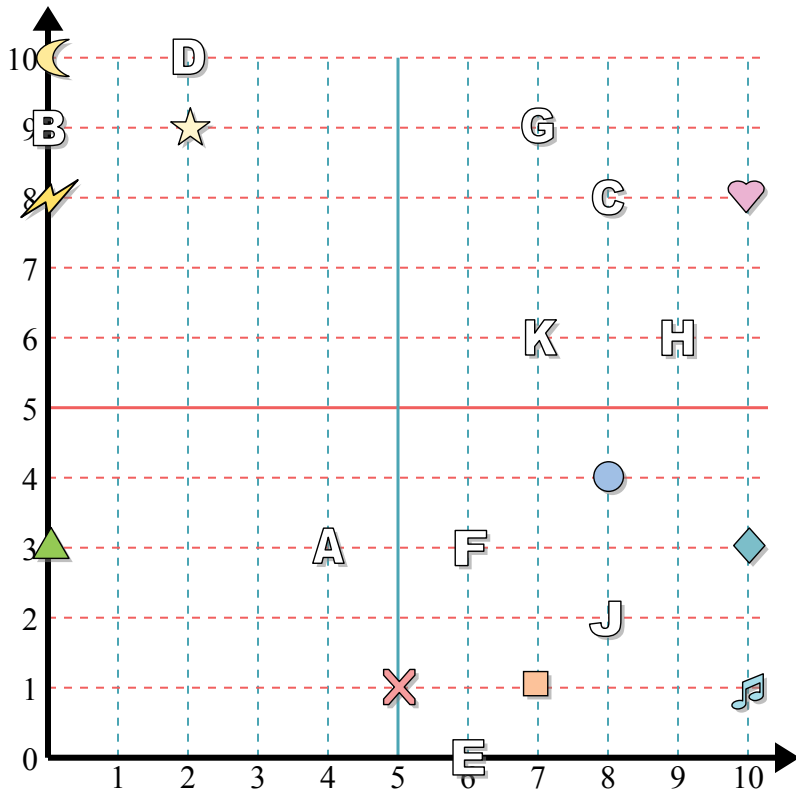




Отвeты



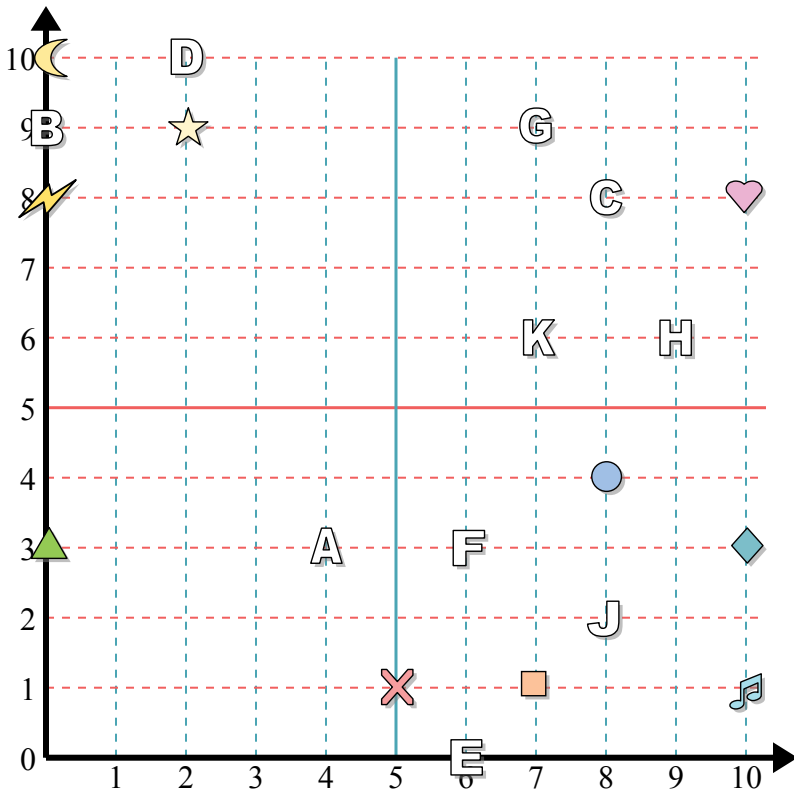
Определите координаты каждой фигуры.

- | | |
|------------|-----------------|
| 1) нота | 2) круг |
| 3) молния | 4) крест |
| 5) Луна | 6) алмаз |
| 7) звезда | 8) сердце |
| 9) квадрат | 10) треугольник |

Определите какая буква под какой координатой.

- | | |
|------------|-----------|
| 11) (6 0) | 12) (7 9) |
| 13) (2 10) | 14) (9 6) |
| 15) (8 2) | 16) (4 3) |
| 17) (8 8) | 18) (0 9) |
| 19) (7 6) | 20) (6 3) |

1. _____
2. _____
3. _____
4. _____
5. _____
6. _____
7. _____
8. _____
9. _____
10. _____
11. _____
12. _____
13. _____
14. _____
15. _____
16. _____
17. _____
18. _____
19. _____
20. _____



Определите координаты каждой фигуры.

- | | |
|------------|-----------------|
| 1) нота | 2) круг |
| 3) молния | 4) крест |
| 5) Луна | 6) алмаз |
| 7) звезда | 8) сердце |
| 9) квадрат | 10) треугольник |

Определите какая буква под какой координатой.

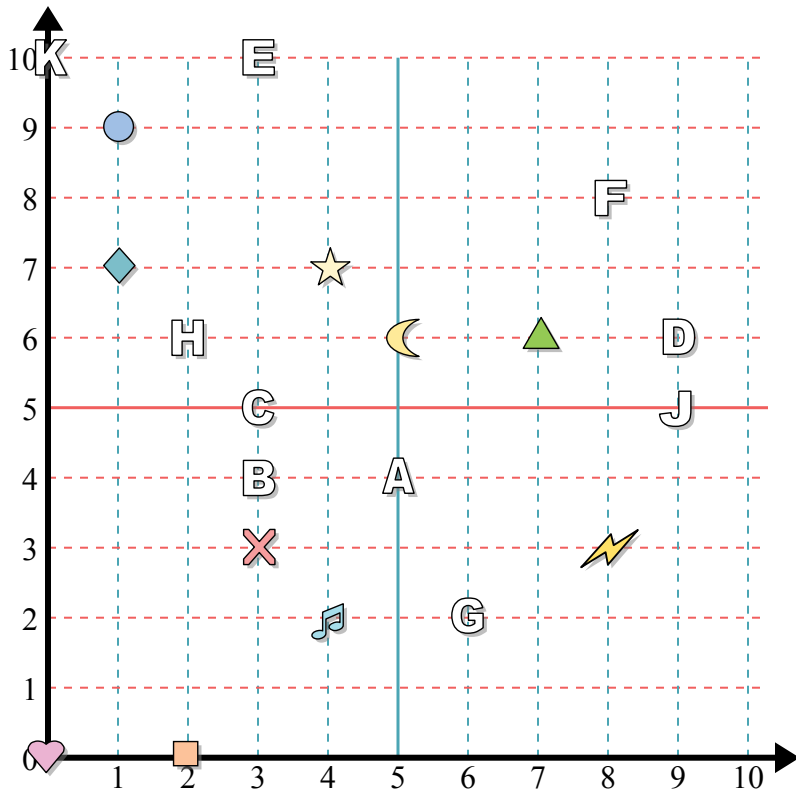
- | | |
|------------|-----------|
| 11) (6 0) | 12) (7 9) |
| 13) (2 10) | 14) (9 6) |
| 15) (8 2) | 16) (4 3) |
| 17) (8 8) | 18) (0 9) |
| 19) (7 6) | 20) (6 3) |

ОТВЕТЫ

1. (10 1)
2. (8 4)
3. (0 8)
4. (5 1)
5. (0 10)
6. (10 3)
7. (2 9)
8. (10 8)
9. (7 1)
10. (0 3)
11. E
12. G
13. D
14. H
15. J
16. A
17. C
18. B
19. K
20. F



Отвeты



Определите координаты каждой фигуры.

- | | |
|----------------|------------|
| 1) круг | 2) алмаз |
| 3) квадрат | 4) сердце |
| 5) нота | 6) крест |
| 7) молния | 8) Луна |
| 9) треугольник | 10) звезда |

Определите какая буква под какой координатой.

- | | |
|------------|------------|
| 11) (9 6) | 12) (2 6) |
| 13) (3 10) | 14) (3 5) |
| 15) (3 4) | 16) (0 10) |
| 17) (5 4) | 18) (6 2) |
| 19) (9 5) | 20) (8 8) |

1. _____

2. _____

3. _____

4. _____

5. _____

6. _____

7. _____

8. _____

9. _____

10. _____

11. _____

12. _____

13. _____

14. _____

15. _____

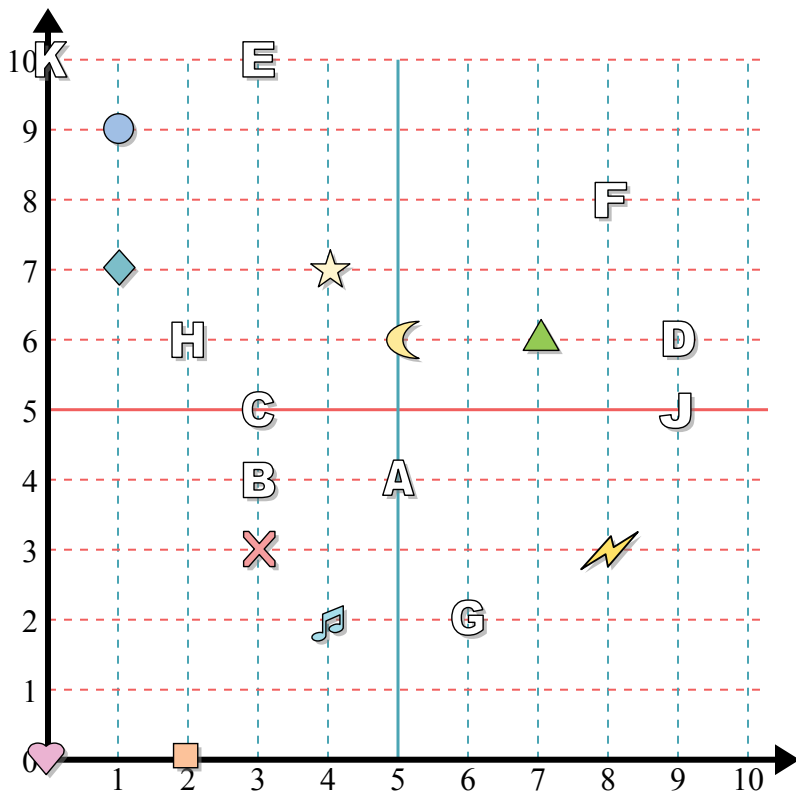
16. _____

17. _____

18. _____

19. _____

20. _____



Определите координаты каждой фигуры.

- | | |
|----------------|------------|
| 1) круг | 2) алмаз |
| 3) квадрат | 4) сердце |
| 5) нота | 6) крест |
| 7) молния | 8) Луна |
| 9) треугольник | 10) звезда |

Определите какая буква под какой координатой.

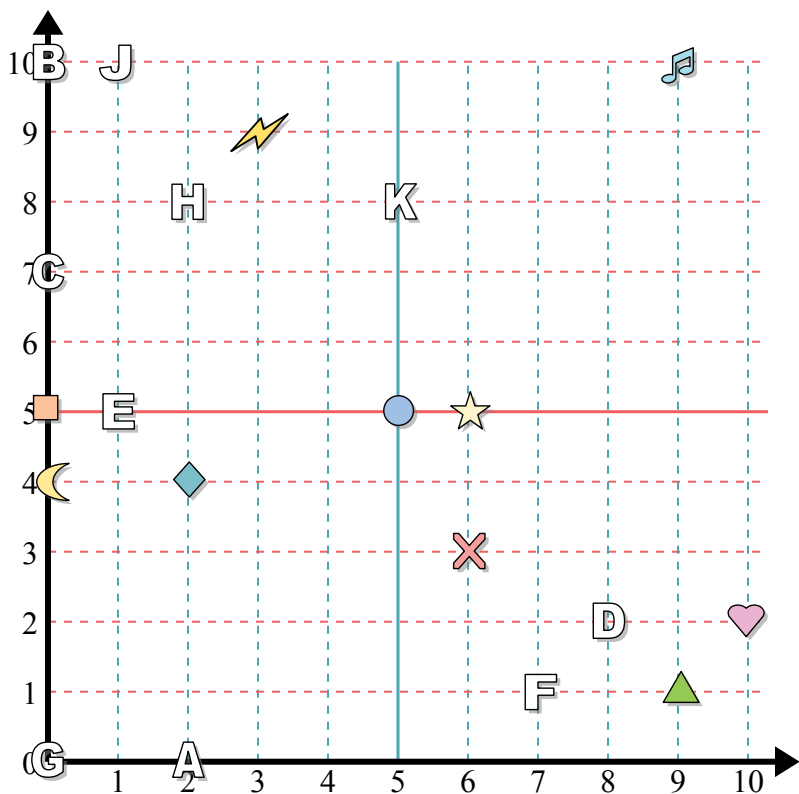
- | | |
|------------|------------|
| 11) (9 6) | 12) (2 6) |
| 13) (3 10) | 14) (3 5) |
| 15) (3 4) | 16) (0 10) |
| 17) (5 4) | 18) (6 2) |
| 19) (9 5) | 20) (8 8) |

Ответы

1. (1 9)
2. (1 7)
3. (2 0)
4. (0 0)
5. (4 2)
6. (3 3)
7. (8 3)
8. (5 6)
9. (7 6)
10. (4 7)
11. D
12. H
13. E
14. C
15. B
16. K
17. A
18. G
19. J
20. F



Отвeты



Определите координаты каждой фигуры.

- | | |
|----------------|-----------|
| 1) треугольник | 2) Луна |
| 3) квадрат | 4) сердце |
| 5) звезда | 6) круг |
| 7) нота | 8) молния |
| 9) крест | 10) алмаз |

Определите какая буква под какой координатой.

- | | |
|------------|-----------|
| 11) (1 10) | 12) (2 8) |
| 13) (0 7) | 14) (5 8) |
| 15) (2 0) | 16) (7 1) |
| 17) (0 0) | 18) (8 2) |
| 19) (0 10) | 20) (1 5) |

1. _____

2. _____

3. _____

4. _____

5. _____

6. _____

7. _____

8. _____

9. _____

10. _____

11. _____

12. _____

13. _____

14. _____

15. _____

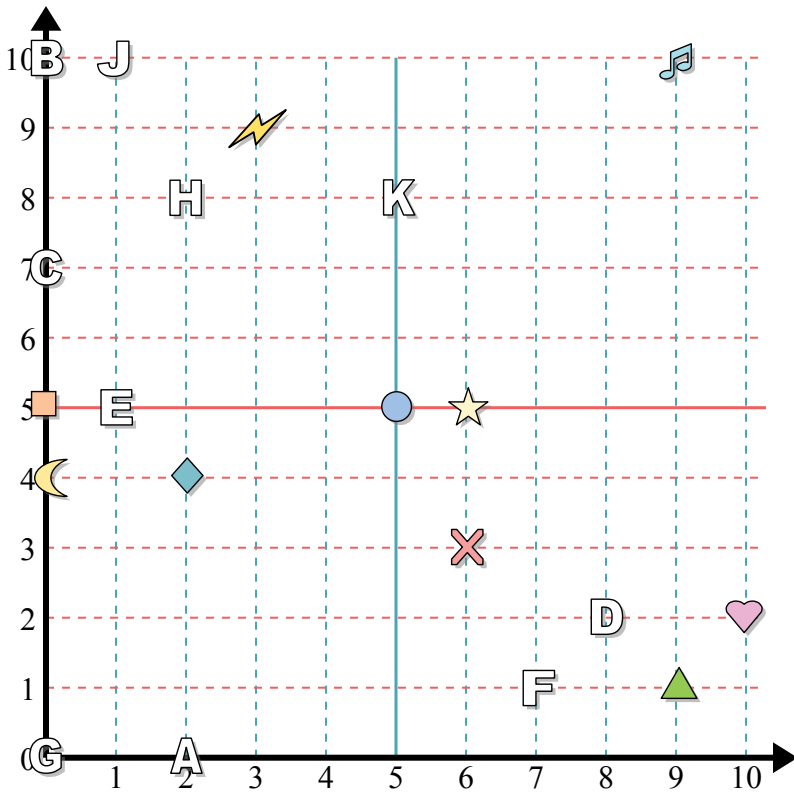
16. _____

17. _____

18. _____

19. _____

20. _____



Определите координаты каждой фигуры.

- 1) треугольник
- 2) Луна
- 3) квадрат
- 4) сердце
- 5) звезда
- 6) круг
- 7) нота
- 8) молния
- 9) крест
- 10) алмаз

Определите какая буква под какой координатой.

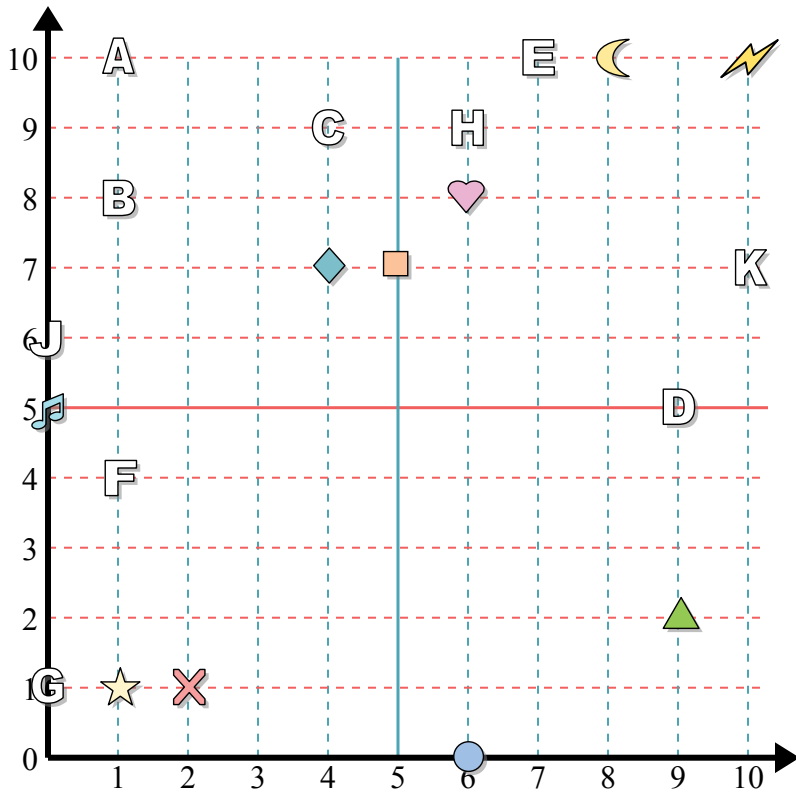
- 11) (1 10)
- 12) (2 8)
- 13) (0 7)
- 14) (5 8)
- 15) (2 0)
- 16) (7 1)
- 17) (0 0)
- 18) (8 2)
- 19) (0 10)
- 20) (1 5)

Ответы

- 1. (9 1)
- 2. (0 4)
- 3. (0 5)
- 4. (10 2)
- 5. (6 5)
- 6. (5 5)
- 7. (9 10)
- 8. (3 9)
- 9. (6 3)
- 10. (2 4)
- 11. J
- 12. H
- 13. C
- 14. K
- 15. A
- 16. F
- 17. G
- 18. D
- 19. B
- 20. E



Отвeты



Определите координаты каждой фигуры.

- | | |
|------------|-----------------|
| 1) крест | 2) нота |
| 3) звезда | 4) круг |
| 5) квадрат | 6) сердце |
| 7) алмаз | 8) молния |
| 9) Луна | 10) треугольник |

Определите какая буква под какой координатой.

- | | |
|------------|------------|
| 11) (1 10) | 12) (0 6) |
| 13) (6 9) | 14) (7 10) |
| 15) (10 7) | 16) (4 9) |
| 17) (1 8) | 18) (0 1) |
| 19) (1 4) | 20) (9 5) |

1. _____

2. _____

3. _____

4. _____

5. _____

6. _____

7. _____

8. _____

9. _____

10. _____

11. _____

12. _____

13. _____

14. _____

15. _____

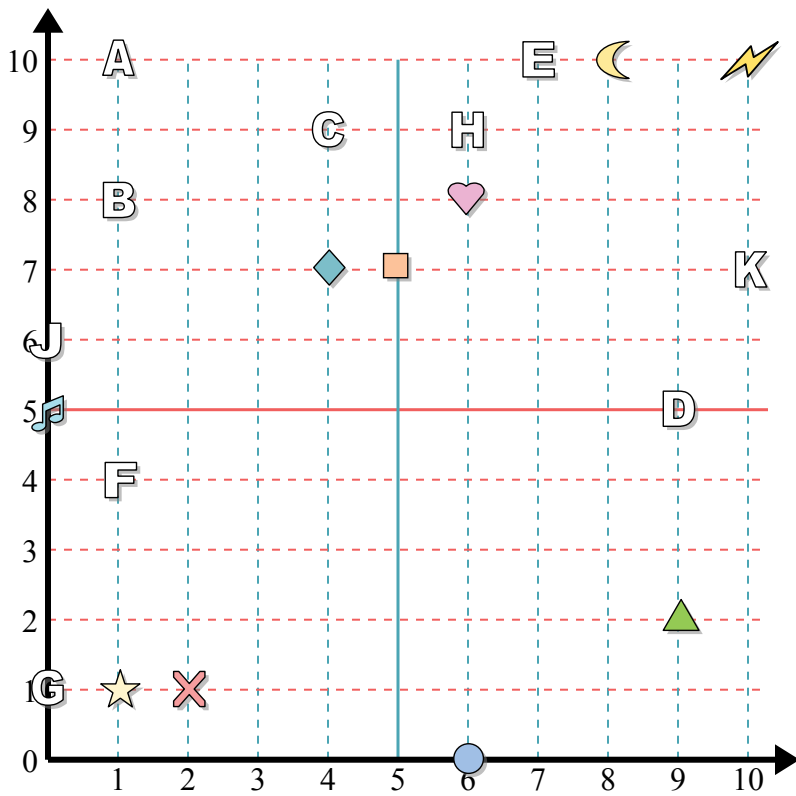
16. _____

17. _____

18. _____

19. _____

20. _____



Определите координаты каждой фигуры.

- | | |
|------------|-----------------|
| 1) крест | 2) нота |
| 3) звезда | 4) круг |
| 5) квадрат | 6) сердце |
| 7) алмаз | 8) молния |
| 9) Луна | 10) треугольник |

Определите какая буква под какой координатой.

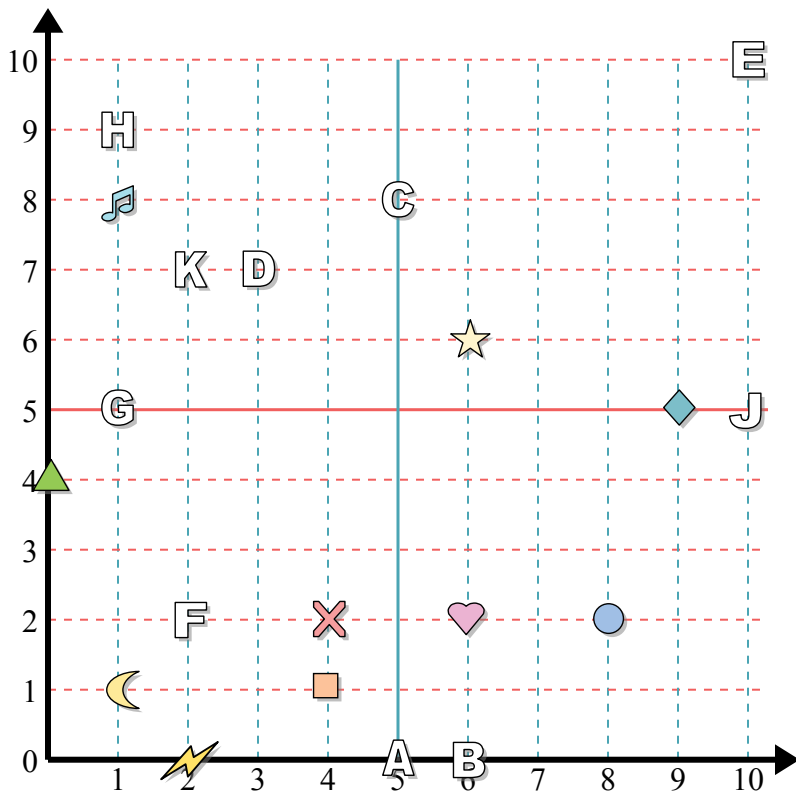
- | | |
|------------|------------|
| 11) (1 10) | 12) (0 6) |
| 13) (6 9) | 14) (7 10) |
| 15) (10 7) | 16) (4 9) |
| 17) (1 8) | 18) (0 1) |
| 19) (1 4) | 20) (9 5) |

ОТВЕТЫ

1. (2 1)
2. (0 5)
3. (1 1)
4. (6 0)
5. (5 7)
6. (6 8)
7. (4 7)
8. (10 10)
9. (8 10)
10. (9 2)
11. A
12. J
13. H
14. E
15. K
16. C
17. B
18. G
19. F
20. D



Отвeты



Определите координаты каждой фигуры.

- | | |
|----------------|------------|
| 1) крест | 2) квадрат |
| 3) нота | 4) Луна |
| 5) круг | 6) сердце |
| 7) треугольник | 8) молния |
| 9) алмаз | 10) звезда |

Определите какая буква под какой координатой.

- | | |
|-----------|-------------|
| 11) (6 0) | 12) (10 5) |
| 13) (5 8) | 14) (1 5) |
| 15) (1 9) | 16) (10 10) |
| 17) (5 0) | 18) (3 7) |
| 19) (2 2) | 20) (2 7) |

1. _____

2. _____

3. _____

4. _____

5. _____

6. _____

7. _____

8. _____

9. _____

10. _____

11. _____

12. _____

13. _____

14. _____

15. _____

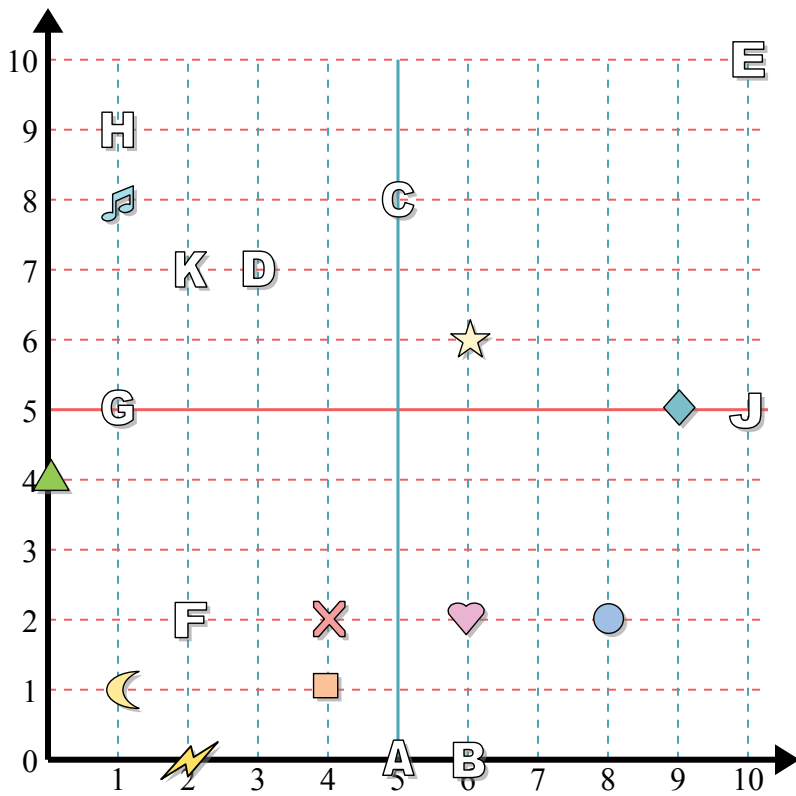
16. _____

17. _____

18. _____

19. _____

20. _____



Определите координаты каждой фигуры.

- | | |
|----------------|------------|
| 1) крест | 2) квадрат |
| 3) нота | 4) Луна |
| 5) круг | 6) сердце |
| 7) треугольник | 8) молния |
| 9) алмаз | 10) звезда |

Определите какая буква под какой координатой.

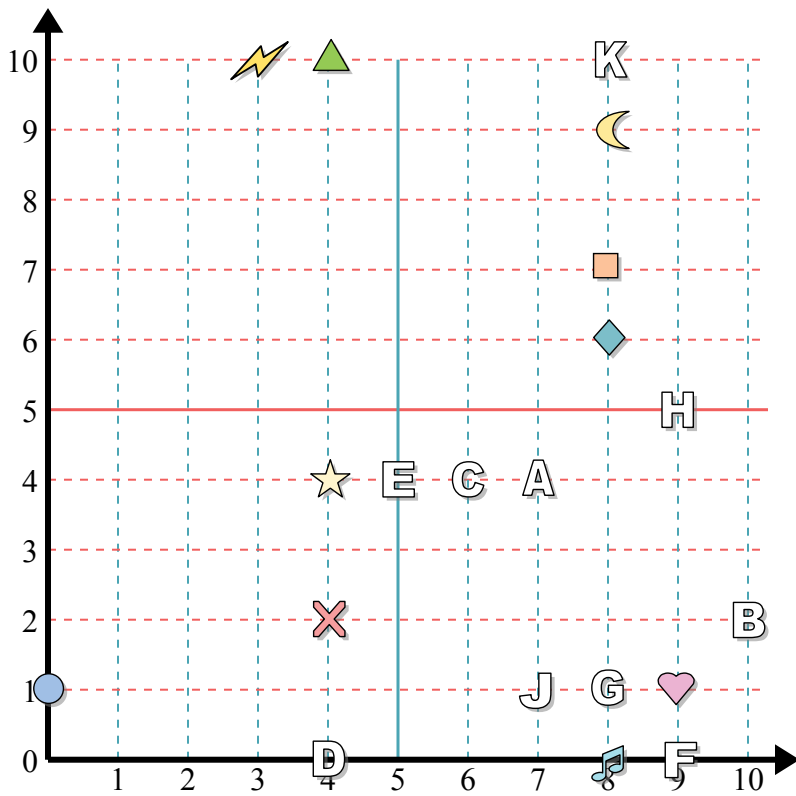
- | | |
|-----------|-------------|
| 11) (6 0) | 12) (10 5) |
| 13) (5 8) | 14) (1 5) |
| 15) (1 9) | 16) (10 10) |
| 17) (5 0) | 18) (3 7) |
| 19) (2 2) | 20) (2 7) |

Отвeты

1. (4 2)
2. (4 1)
3. (1 8)
4. (1 1)
5. (8 2)
6. (6 2)
7. (0 4)
8. (2 0)
9. (9 5)
10. (6 6)
11. В
12. Ж
13. С
14. Г
15. И
16. Е
17. А
18. Д
19. Ф
20. К



Отвѣты



Определите координаты каждой фигуры.

- | | |
|------------|----------------|
| 1) звезда | 2) Луна |
| 3) сердце | 4) алмаз |
| 5) молния | 6) треугольник |
| 7) круг | 8) нота |
| 9) квадрат | 10) крест |

Определите какая буква под какой координатой.

- | | |
|------------|------------|
| 11) (9 5) | 12) (8 10) |
| 13) (8 1) | 14) (9 0) |
| 15) (7 4) | 16) (6 4) |
| 17) (4 0) | 18) (7 1) |
| 19) (10 2) | 20) (5 4) |

1. _____

2. _____

3. _____

4. _____

5. _____

6. _____

7. _____

8. _____

9. _____

10. _____

11. _____

12. _____

13. _____

14. _____

15. _____

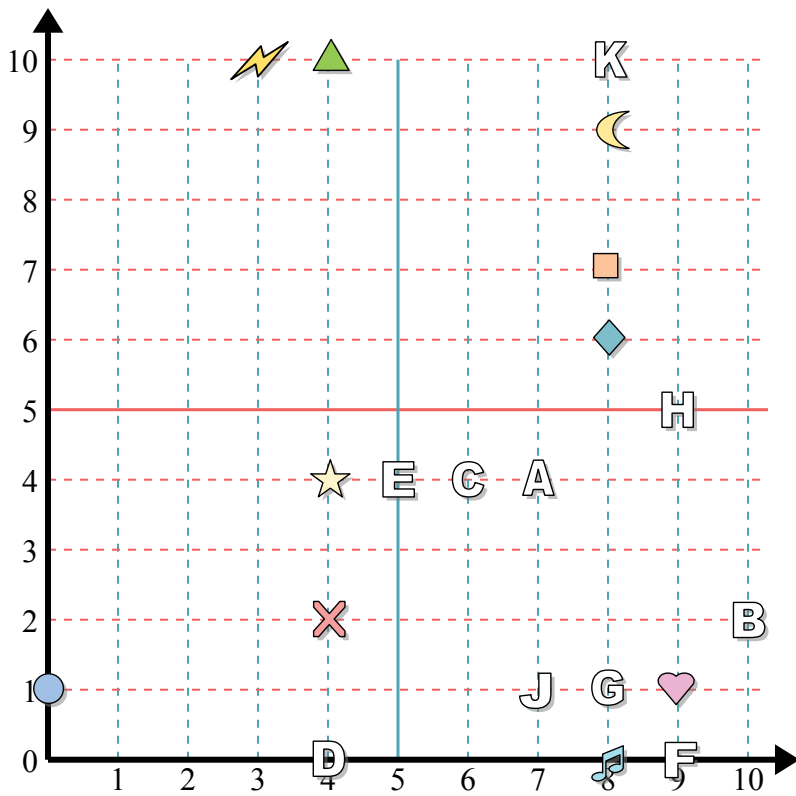
16. _____

17. _____

18. _____

19. _____

20. _____



Определите координаты каждой фигуры.

- 1) звезда
- 2) Луна
- 3) сердце
- 4) алмаз
- 5) молния
- 6) треугольник
- 7) круг
- 8) нота
- 9) квадрат
- 10) крест

Определите какая буква под какой координатой.

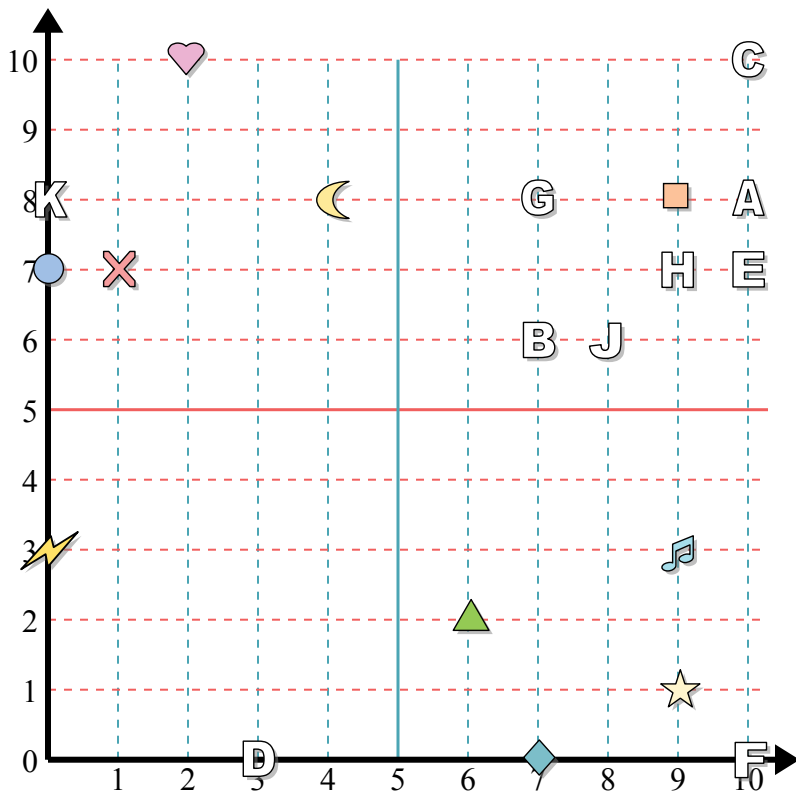
- 11) (9 5)
- 12) (8 10)
- 13) (8 1)
- 14) (9 0)
- 15) (7 4)
- 16) (6 4)
- 17) (4 0)
- 18) (7 1)
- 19) (10 2)
- 20) (5 4)

ОТВЕТЫ

- 1. (4 4)
- 2. (8 9)
- 3. (9 1)
- 4. (8 6)
- 5. (3 10)
- 6. (4 10)
- 7. (0 1)
- 8. (8 0)
- 9. (8 7)
- 10. (4 2)
- 11. Н
- 12. К
- 13. G
- 14. F
- 15. A
- 16. C
- 17. D
- 18. J
- 19. B
- 20. E



Отвeты



Определите координаты каждой фигуры.

- | | |
|----------------|-----------|
| 1) алмаз | 2) звезда |
| 3) треугольник | 4) Луна |
| 5) нота | 6) молния |
| 7) квадрат | 8) сердце |
| 9) круг | 10) крест |

Определите какая буква под какой координатой.

- | | |
|-------------|------------|
| 11) (10 8) | 12) (10 0) |
| 13) (9 7) | 14) (10 7) |
| 15) (8 6) | 16) (7 8) |
| 17) (0 8) | 18) (7 6) |
| 19) (10 10) | 20) (3 0) |

1. _____

2. _____

3. _____

4. _____

5. _____

6. _____

7. _____

8. _____

9. _____

10. _____

11. _____

12. _____

13. _____

14. _____

15. _____

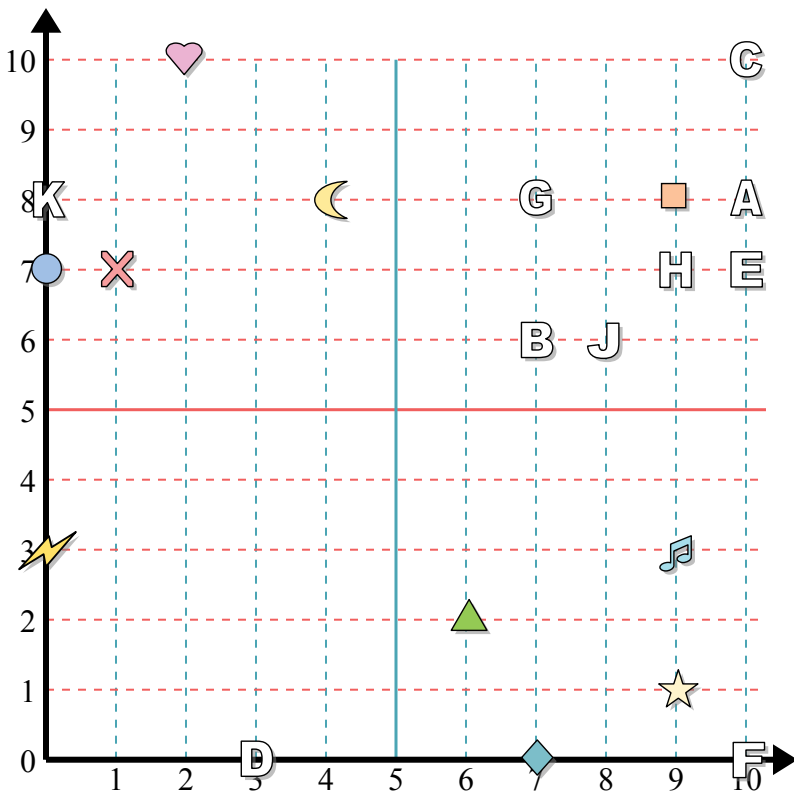
16. _____

17. _____

18. _____

19. _____

20. _____



Определите координаты каждой фигуры.

- | | |
|----------------|-----------|
| 1) алмаз | 2) звезда |
| 3) треугольник | 4) Луна |
| 5) нота | 6) молния |
| 7) квадрат | 8) сердце |
| 9) круг | 10) крест |

Определите какая буква под какой координатой.

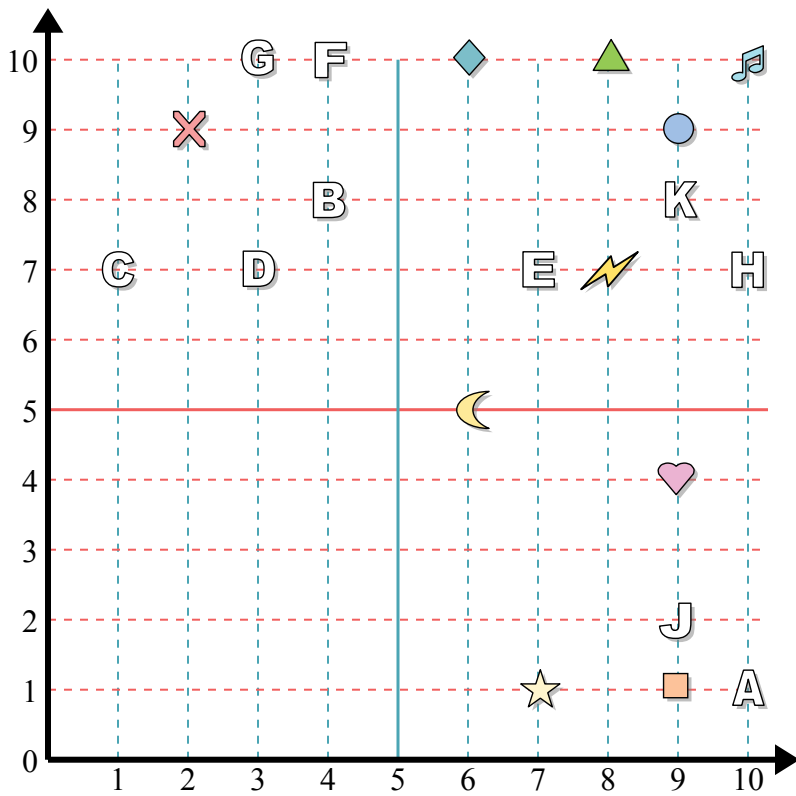
- | | |
|-------------|------------|
| 11) (10 8) | 12) (10 0) |
| 13) (9 7) | 14) (10 7) |
| 15) (8 6) | 16) (7 8) |
| 17) (0 8) | 18) (7 6) |
| 19) (10 10) | 20) (3 0) |

Ответы

1. (7 0)
2. (9 1)
3. (6 2)
4. (4 8)
5. (9 3)
6. (0 3)
7. (9 8)
8. (2 10)
9. (0 7)
10. (1 7)
11. A
12. F
13. H
14. E
15. J
16. G
17. K
18. B
19. C
20. D



Отвeты



Определите координаты каждой фигуры.

- | | |
|----------------|------------|
| 1) звезда | 2) крест |
| 3) нота | 4) квадрат |
| 5) молния | 6) Луна |
| 7) круг | 8) сердце |
| 9) треугольник | 10) алмаз |

Определите какая буква под какой координатой.

- | | |
|------------|------------|
| 11) (10 1) | 12) (4 10) |
| 13) (9 8) | 14) (10 7) |
| 15) (9 2) | 16) (3 7) |
| 17) (1 7) | 18) (4 8) |
| 19) (7 7) | 20) (3 10) |

1. _____

2. _____

3. _____

4. _____

5. _____

6. _____

7. _____

8. _____

9. _____

10. _____

11. _____

12. _____

13. _____

14. _____

15. _____

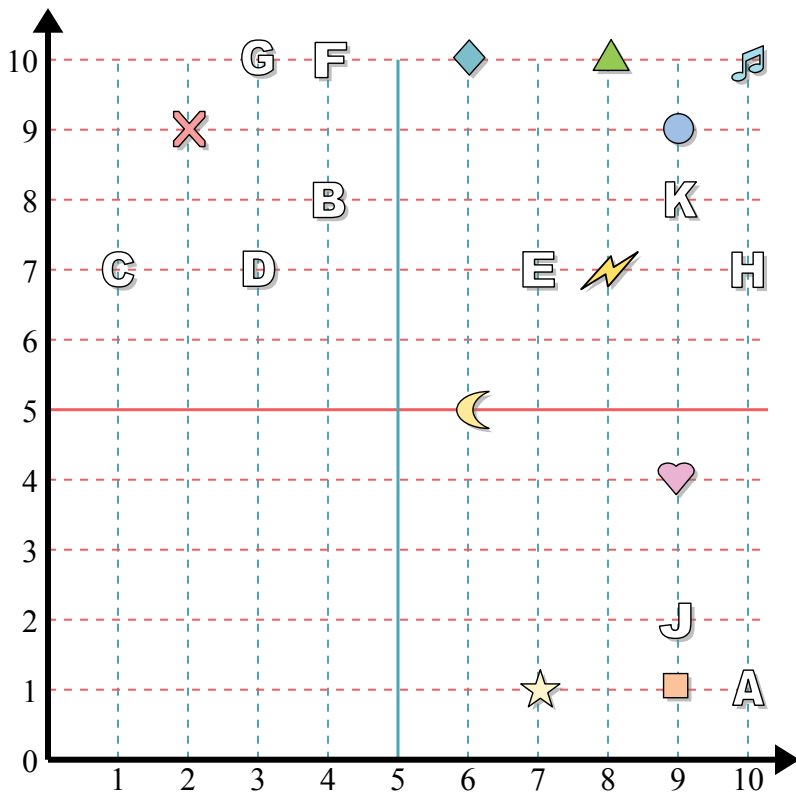
16. _____

17. _____

18. _____

19. _____

20. _____



Определите координаты каждой фигуры.

- 1) звезда
- 2) крест
- 3) нота
- 4) квадрат
- 5) молния
- 6) Луна
- 7) круг
- 8) сердце
- 9) треугольник
- 10) алмаз

Определите какая буква под какой координатой.

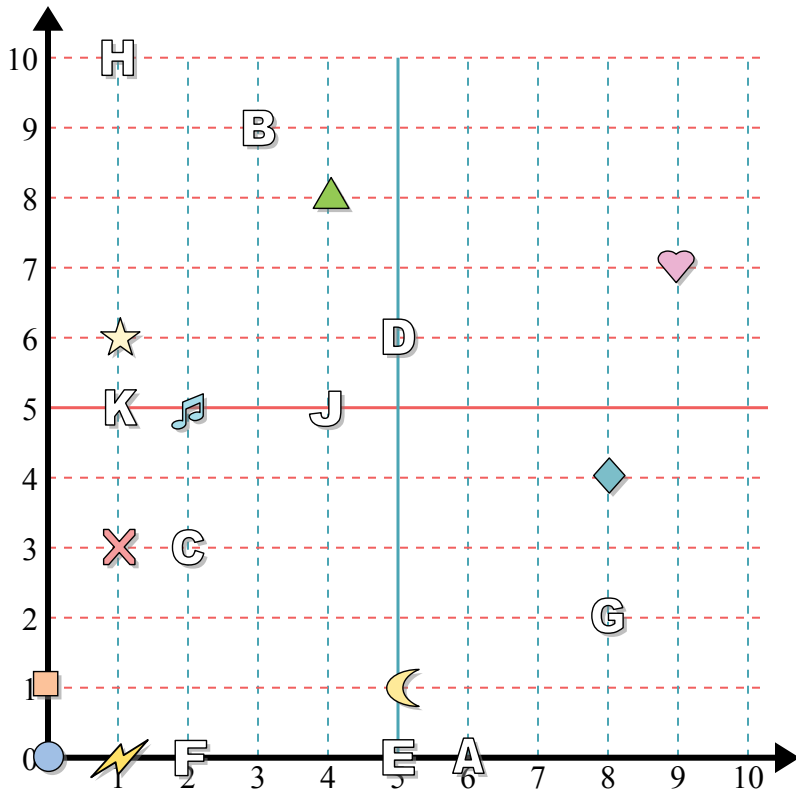
- 11) (10 1)
- 12) (4 10)
- 13) (9 8)
- 14) (10 7)
- 15) (9 2)
- 16) (3 7)
- 17) (1 7)
- 18) (4 8)
- 19) (7 7)
- 20) (3 10)

Ответы

- 1. (7 1)
- 2. (2 9)
- 3. (10 10)
- 4. (9 1)
- 5. (8 7)
- 6. (6 5)
- 7. (9 9)
- 8. (9 4)
- 9. (8 10)
- 10. (6 10)
- 11. A
- 12. F
- 13. K
- 14. H
- 15. J
- 16. D
- 17. C
- 18. B
- 19. E
- 20. G



Отвeты



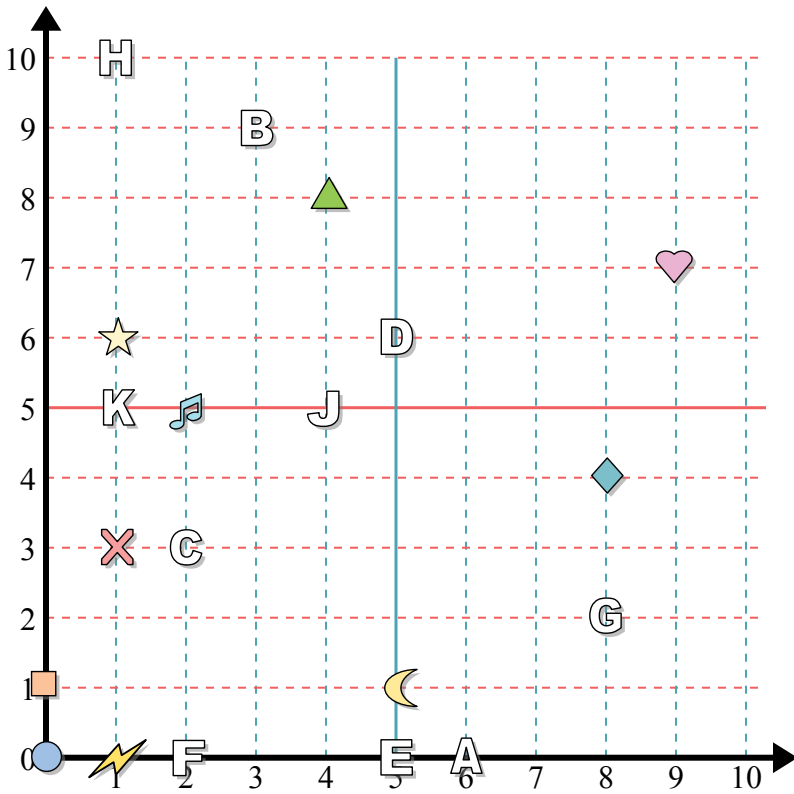
Определите координаты каждой фигуры.

- | | |
|-----------|----------------|
| 1) нота | 2) треугольник |
| 3) крест | 4) сердце |
| 5) молния | 6) квадрат |
| 7) круг | 8) алмаз |
| 9) Луна | 10) звезда |

Определите какая буква под какой координатой.

- | | |
|-----------|------------|
| 11) (8 2) | 12) (1 5) |
| 13) (4 5) | 14) (5 0) |
| 15) (5 6) | 16) (6 0) |
| 17) (3 9) | 18) (2 3) |
| 19) (2 0) | 20) (1 10) |

1. _____
2. _____
3. _____
4. _____
5. _____
6. _____
7. _____
8. _____
9. _____
10. _____
11. _____
12. _____
13. _____
14. _____
15. _____
16. _____
17. _____
18. _____
19. _____
20. _____



Определите координаты каждой фигуры.

- | | |
|-----------|----------------|
| 1) нота | 2) треугольник |
| 3) крест | 4) сердце |
| 5) молния | 6) квадрат |
| 7) круг | 8) алмаз |
| 9) Луна | 10) звезда |

Определите какая буква под какой координатой.

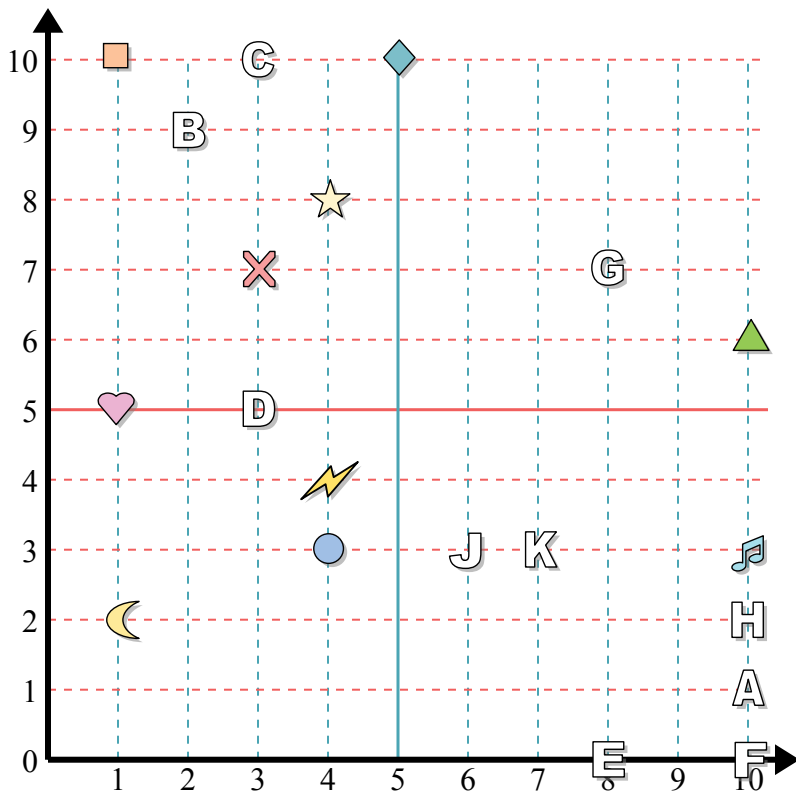
- | | |
|-----------|------------|
| 11) (8 2) | 12) (1 5) |
| 13) (4 5) | 14) (5 0) |
| 15) (5 6) | 16) (6 0) |
| 17) (3 9) | 18) (2 3) |
| 19) (2 0) | 20) (1 10) |

ОТВЕТЫ

1. (2 5)
2. (4 8)
3. (1 3)
4. (9 7)
5. (1 0)
6. (0 1)
7. (0 0)
8. (8 4)
9. (5 1)
10. (1 6)
11. G
12. K
13. J
14. E
15. D
16. A
17. B
18. C
19. F
20. H



Отвeты



Определите координаты каждой фигуры.

- | | |
|----------------|------------|
| 1) Луна | 2) нота |
| 3) треугольник | 4) квадрат |
| 5) круг | 6) крест |
| 7) сердце | 8) алмаз |
| 9) звезда | 10) молния |

Определите какая буква под какой координатой.

- | | |
|------------|------------|
| 11) (2 9) | 12) (3 5) |
| 13) (8 0) | 14) (6 3) |
| 15) (8 7) | 16) (10 2) |
| 17) (10 0) | 18) (7 3) |
| 19) (10 1) | 20) (3 10) |

1. _____

2. _____

3. _____

4. _____

5. _____

6. _____

7. _____

8. _____

9. _____

10. _____

11. _____

12. _____

13. _____

14. _____

15. _____

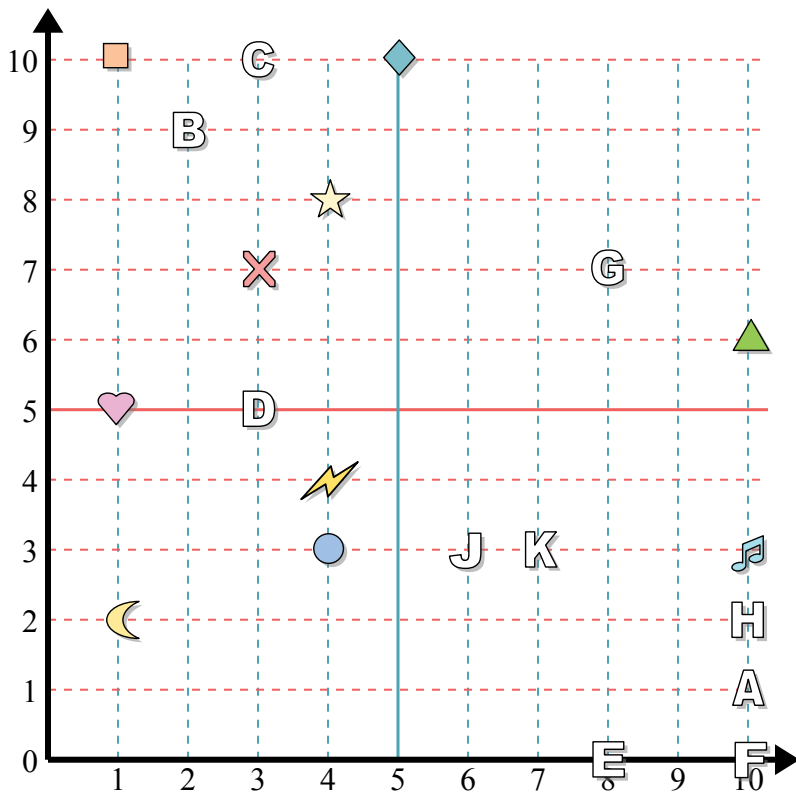
16. _____

17. _____

18. _____

19. _____

20. _____



Определите координаты каждой фигуры.

- 1) Луна
- 2) нота
- 3) треугольник
- 4) квадрат
- 5) круг
- 6) крест
- 7) сердце
- 8) алмаз
- 9) звезда
- 10) молния

Определите какая буква под какой координатой.

- 11) (2 9)
- 12) (3 5)
- 13) (8 0)
- 14) (6 3)
- 15) (8 7)
- 16) (10 2)
- 17) (10 0)
- 18) (7 3)
- 19) (10 1)
- 20) (3 10)

ОТВЕТЫ

- 1. (1 2)
- 2. (10 3)
- 3. (10 6)
- 4. (1 10)
- 5. (4 3)
- 6. (3 7)
- 7. (1 5)
- 8. (5 10)
- 9. (4 8)
- 10. (4 4)
- 11. B
- 12. D
- 13. E
- 14. J
- 15. G
- 16. H
- 17. F
- 18. K
- 19. A
- 20. C