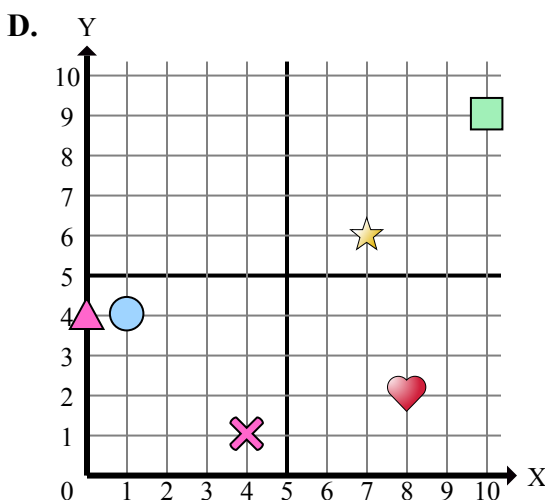
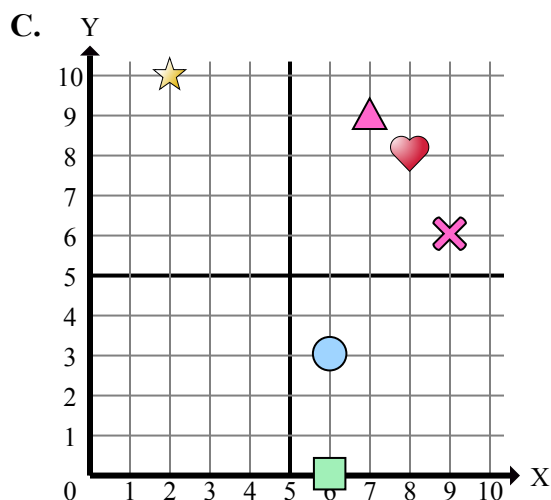
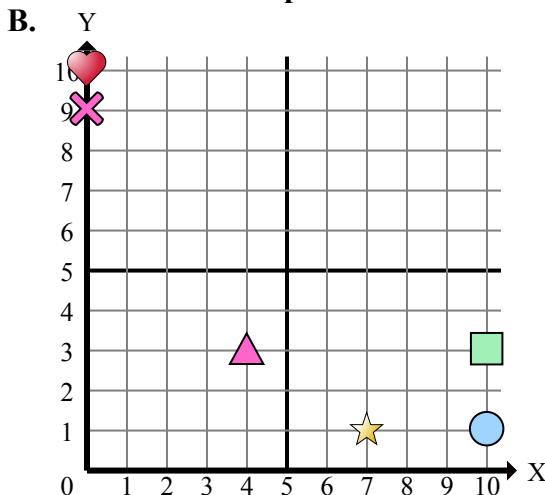
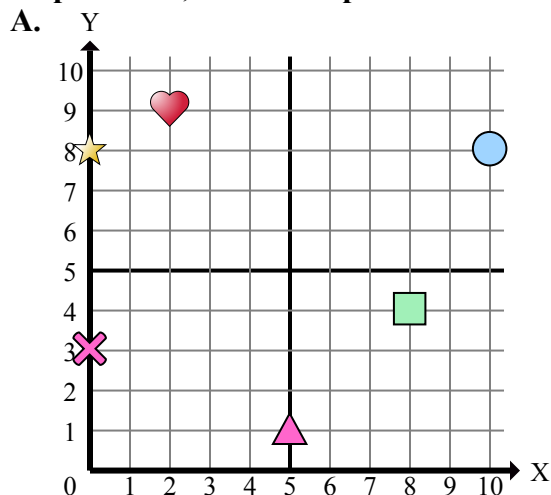




Определите, какая координатная плоскость отвечает всем требованиям.



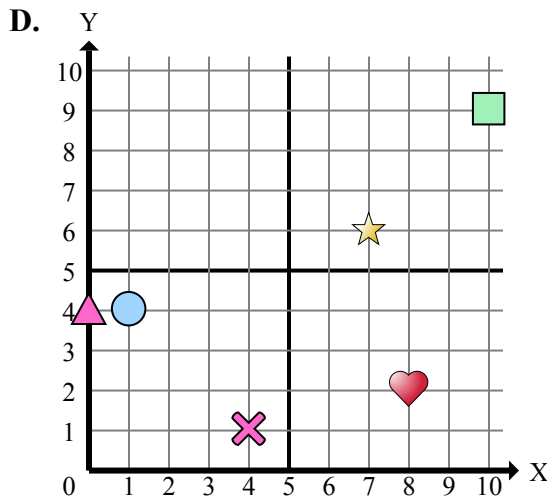
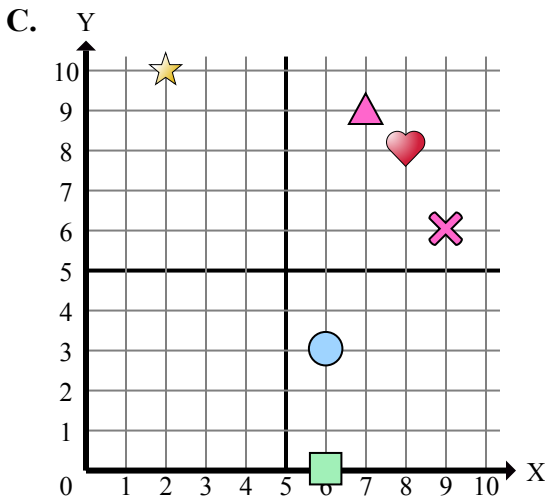
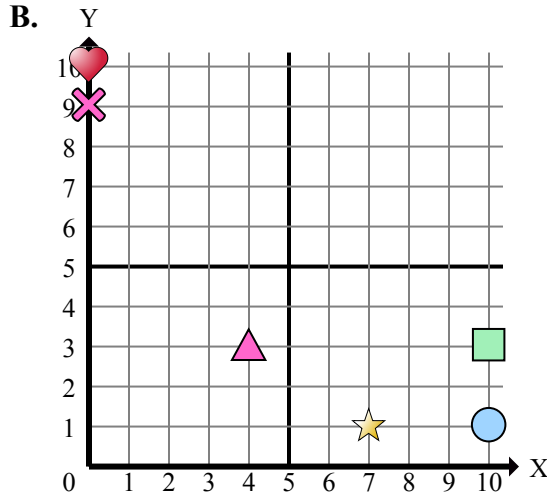
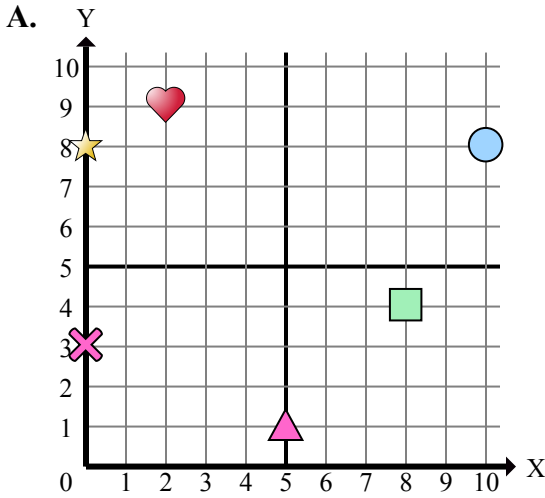
**Отвeты**

1. \_\_\_\_\_
2. \_\_\_\_\_
3. \_\_\_\_\_
4. \_\_\_\_\_
5. \_\_\_\_\_
6. \_\_\_\_\_
7. \_\_\_\_\_
8. \_\_\_\_\_
9. \_\_\_\_\_
10. \_\_\_\_\_
11. \_\_\_\_\_
12. \_\_\_\_\_
13. \_\_\_\_\_
14. \_\_\_\_\_
15. \_\_\_\_\_

- 1) Какая координатная плоскость имеет фигуру в (7 , 6)?
- 2) Какая координатная плоскость имеет фигуру в (8 , 4)?
- 3) Какая координатная плоскость имеет фигуру в (0 , 10)?
- 4) Какая координатная плоскость имеет фигуру в (6 , 3)?
- 5) Какая координатная плоскость имеет фигуру в (2 , 9)?
- 6) Какая координатная плоскость имеет фигуру в (8 , 2)?
- 7) Какая координатная плоскость имеет фигуру в (0 , 4)?
- 8) Какая координатная плоскость имеет фигуру в (1 , 4)?
- 9) Какая координатная плоскость имеет фигуру в (0 , 8)?
- 10) Какая координатная плоскость имеет фигуру в (4 , 3)?
- 11) Какая координатная плоскость имеет фигуру в (0 , 3)?
- 12) Какая координатная плоскость имеет фигуру в (6 , 0)?
- 13) Какая координатная плоскость имеет фигуру в (7 , 1)?
- 14) Какая координатная плоскость имеет фигуру в (2 , 10)?
- 15) Какая координатная плоскость имеет фигуру в (10 , 9)?



Определите, какая координатная плоскость отвечает всем требованиям.



- 1) Какая координатная плоскость имеет фигуру в (7 , 6)?
- 2) Какая координатная плоскость имеет фигуру в (8 , 4)?
- 3) Какая координатная плоскость имеет фигуру в (0 , 10)?
- 4) Какая координатная плоскость имеет фигуру в (6 , 3)?
- 5) Какая координатная плоскость имеет фигуру в (2 , 9)?
- 6) Какая координатная плоскость имеет фигуру в (8 , 2)?
- 7) Какая координатная плоскость имеет фигуру в (0 , 4)?
- 8) Какая координатная плоскость имеет фигуру в (1 , 4)?
- 9) Какая координатная плоскость имеет фигуру в (0 , 8)?
- 10) Какая координатная плоскость имеет фигуру в (4 , 3)?
- 11) Какая координатная плоскость имеет фигуру в (0 , 3)?
- 12) Какая координатная плоскость имеет фигуру в (6 , 0)?
- 13) Какая координатная плоскость имеет фигуру в (7 , 1)?
- 14) Какая координатная плоскость имеет фигуру в (2 , 10)?
- 15) Какая координатная плоскость имеет фигуру в (10 , 9)?

**ОТВЕТЫ**

1.         D
2.         A
3.         B
4.         C
5.         A
6.         D
7.         D
8.         D
9.         A
10.         B
11.         A
12.         C
13.         B
14.         C
15.         D