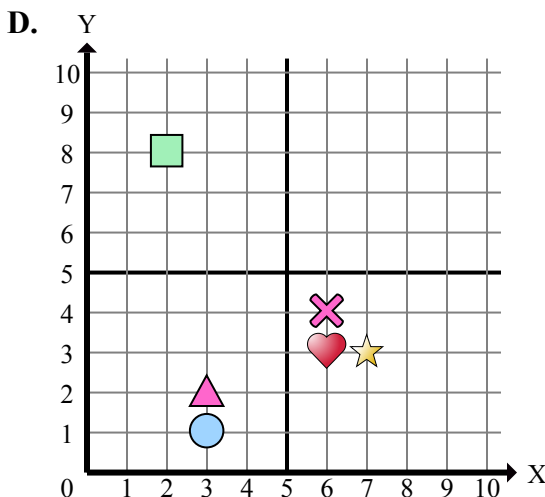
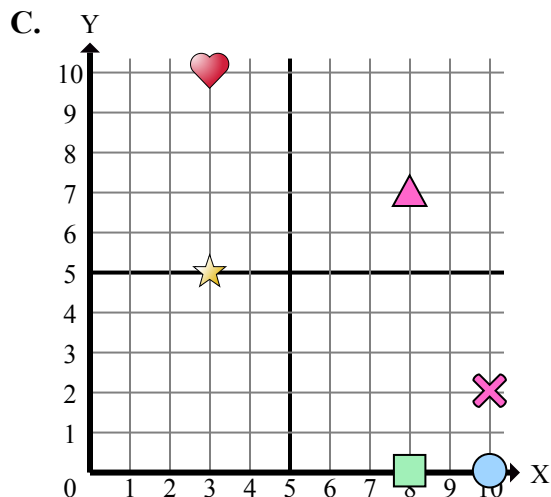
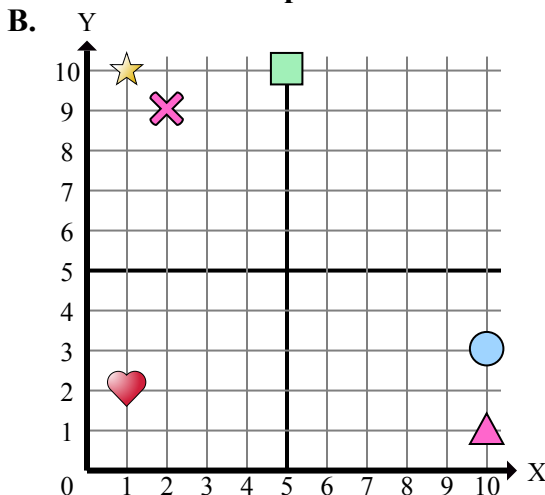
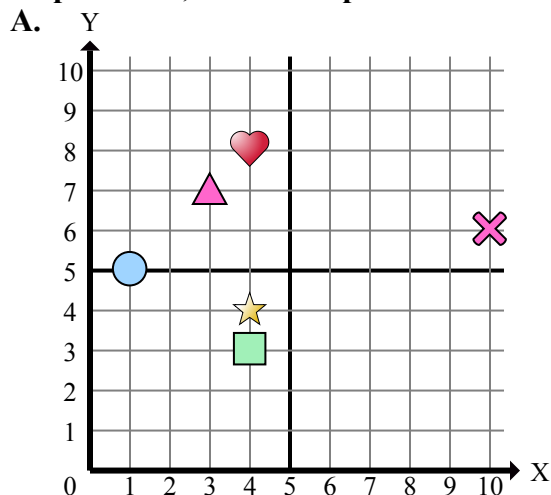




Определите, какая координатная плоскость отвечает всем требованиям.



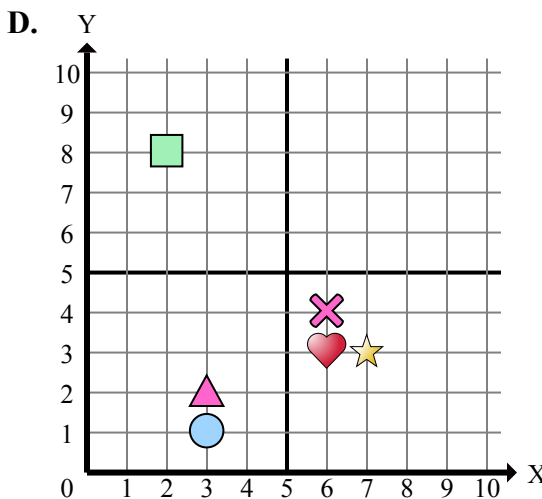
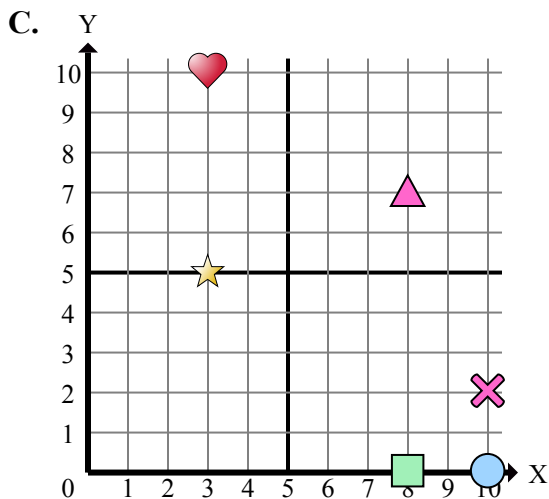
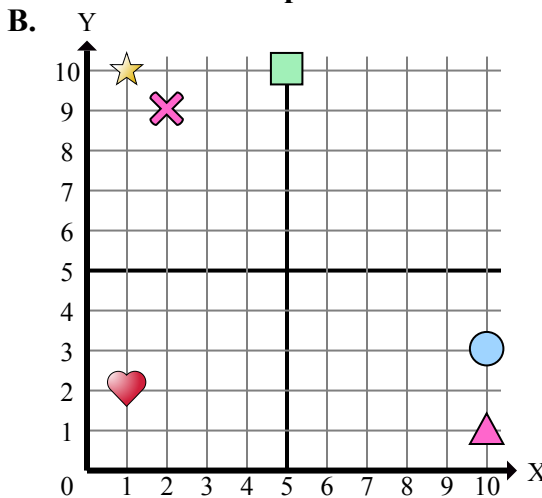
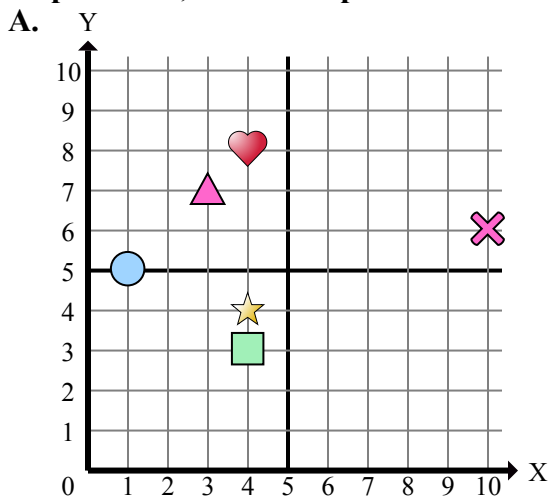
- 1) Какая координатная плоскость имеет фигуру в (2 , 8)?
- 2) Какая координатная плоскость имеет фигуру в (7 , 3)?
- 3) Какая координатная плоскость имеет фигуру в (8 , 7)?
- 4) Какая координатная плоскость имеет фигуру в (3 , 7)?
- 5) Какая координатная плоскость имеет фигуру в (6 , 4)?
- 6) Какая координатная плоскость имеет фигуру в (3 , 2)?
- 7) Какая координатная плоскость имеет фигуру в (4 , 3)?
- 8) Какая координатная плоскость имеет фигуру в (3 , 10)?
- 9) Какая координатная плоскость имеет фигуру в (4 , 8)?
- 10) Какая координатная плоскость имеет фигуру в (10 , 3)?
- 11) Какая координатная плоскость имеет фигуру в (1 , 5)?
- 12) Какая координатная плоскость имеет фигуру в (5 , 10)?
- 13) Какая координатная плоскость имеет фигуру в (2 , 9)?
- 14) Какая координатная плоскость имеет фигуру в (10 , 1)?
- 15) Какая координатная плоскость имеет фигуру в (6 , 3)?

**Ответы**

1. \_\_\_\_\_
2. \_\_\_\_\_
3. \_\_\_\_\_
4. \_\_\_\_\_
5. \_\_\_\_\_
6. \_\_\_\_\_
7. \_\_\_\_\_
8. \_\_\_\_\_
9. \_\_\_\_\_
10. \_\_\_\_\_
11. \_\_\_\_\_
12. \_\_\_\_\_
13. \_\_\_\_\_
14. \_\_\_\_\_
15. \_\_\_\_\_



Определите, какая координатная плоскость отвечает всем требованиям.



- 1) Какая координатная плоскость имеет фигуру в (2 , 8)?
- 2) Какая координатная плоскость имеет фигуру в (7 , 3)?
- 3) Какая координатная плоскость имеет фигуру в (8 , 7)?
- 4) Какая координатная плоскость имеет фигуру в (3 , 7)?
- 5) Какая координатная плоскость имеет фигуру в (6 , 4)?
- 6) Какая координатная плоскость имеет фигуру в (3 , 2)?
- 7) Какая координатная плоскость имеет фигуру в (4 , 3)?
- 8) Какая координатная плоскость имеет фигуру в (3 , 10)?
- 9) Какая координатная плоскость имеет фигуру в (4 , 8)?
- 10) Какая координатная плоскость имеет фигуру в (10 , 3)?
- 11) Какая координатная плоскость имеет фигуру в (1 , 5)?
- 12) Какая координатная плоскость имеет фигуру в (5 , 10)?
- 13) Какая координатная плоскость имеет фигуру в (2 , 9)?
- 14) Какая координатная плоскость имеет фигуру в (10 , 1)?
- 15) Какая координатная плоскость имеет фигуру в (6 , 3)?

**ОТВЕТЫ**

1.         D
2.         D
3.         C
4.         A
5.         D
6.         D
7.         A
8.         C
9.         A
10.         B
11.         A
12.         B
13.         B
14.         B
15.         D