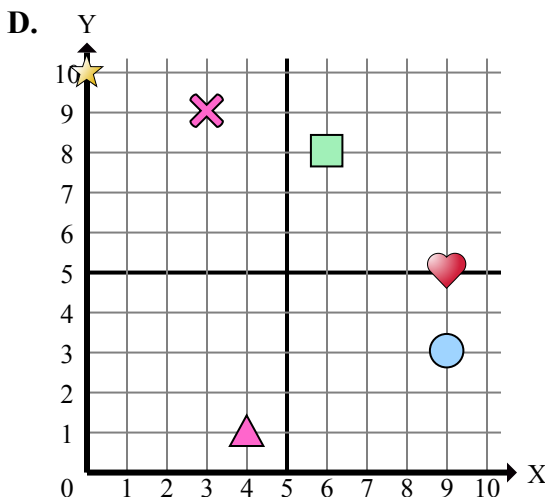
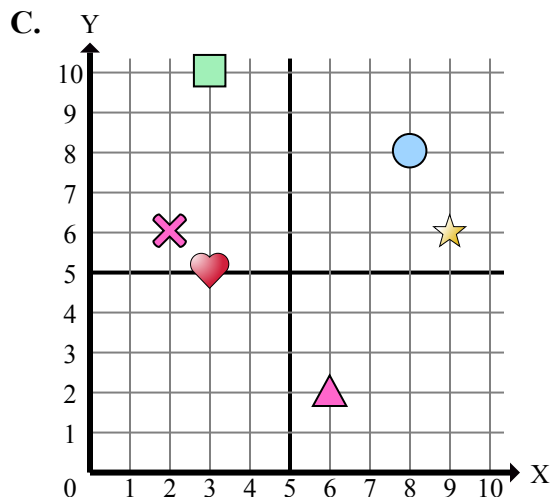
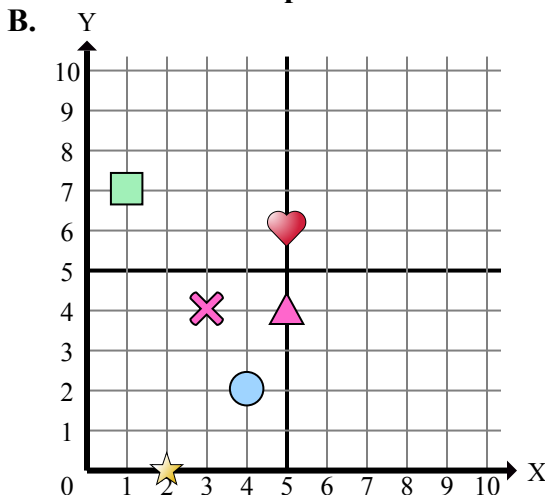
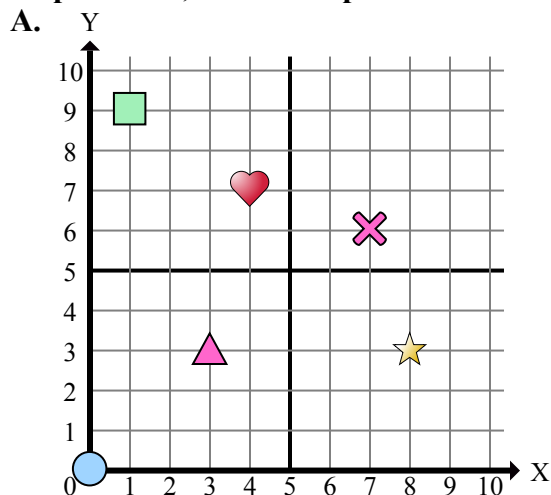




Определите, какая координатная плоскость отвечает всем требованиям.



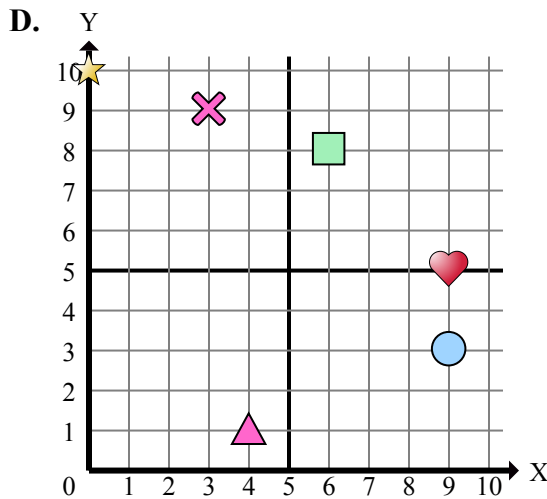
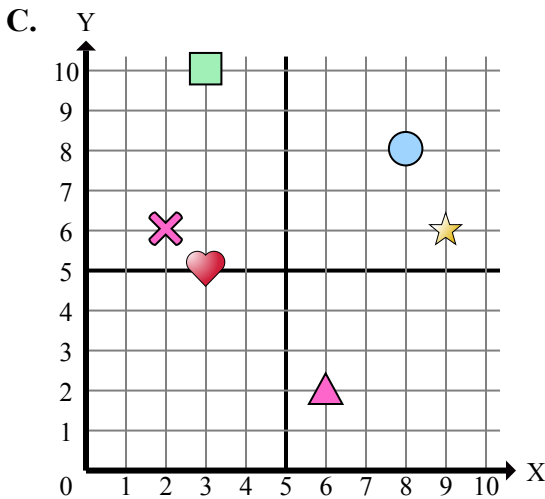
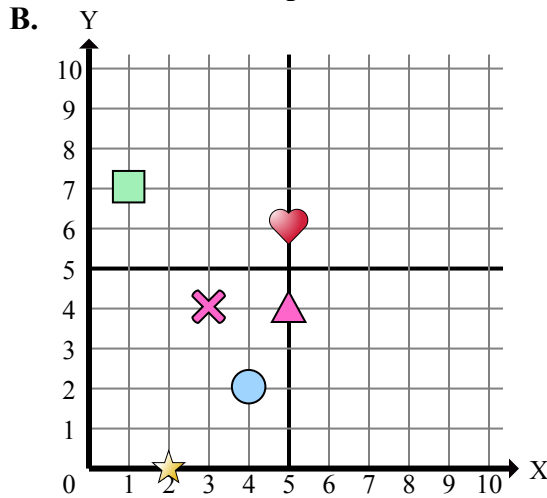
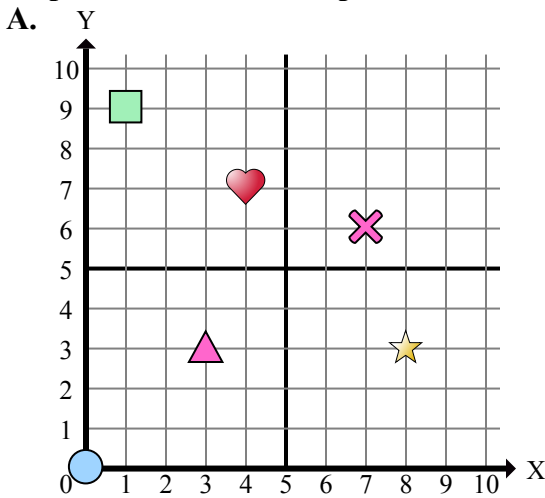
- 1) Какая координатная плоскость имеет фигуру в (5 , 4)?
- 2) Какая координатная плоскость имеет фигуру в (3 , 10)?
- 3) Какая координатная плоскость имеет фигуру в (2 , 0)?
- 4) Какая координатная плоскость имеет фигуру в (8 , 8)?
- 5) Какая координатная плоскость имеет фигуру в (9 , 6)?
- 6) Какая координатная плоскость имеет фигуру в (0 , 10)?
- 7) Какая координатная плоскость имеет фигуру в (3 , 4)?
- 8) Какая координатная плоскость имеет фигуру в (3 , 5)?
- 9) Какая координатная плоскость имеет фигуру в (7 , 6)?
- 10) Какая координатная плоскость имеет фигуру в (4 , 7)?
- 11) Какая координатная плоскость имеет фигуру в (6 , 8)?
- 12) Какая координатная плоскость имеет фигуру в (3 , 3)?
- 13) Какая координатная плоскость имеет фигуру в (4 , 1)?
- 14) Какая координатная плоскость имеет фигуру в (6 , 2)?
- 15) Какая координатная плоскость имеет фигуру в (0 , 0)?

Ответы

1. _____
2. _____
3. _____
4. _____
5. _____
6. _____
7. _____
8. _____
9. _____
10. _____
11. _____
12. _____
13. _____
14. _____
15. _____



Определите, какая координатная плоскость отвечает всем требованиям.



- 1) Какая координатная плоскость имеет фигуру в (5 , 4)?
- 2) Какая координатная плоскость имеет фигуру в (3 , 10)?
- 3) Какая координатная плоскость имеет фигуру в (2 , 0)?
- 4) Какая координатная плоскость имеет фигуру в (8 , 8)?
- 5) Какая координатная плоскость имеет фигуру в (9 , 6)?
- 6) Какая координатная плоскость имеет фигуру в (0 , 10)?
- 7) Какая координатная плоскость имеет фигуру в (3 , 4)?
- 8) Какая координатная плоскость имеет фигуру в (3 , 5)?
- 9) Какая координатная плоскость имеет фигуру в (7 , 6)?
- 10) Какая координатная плоскость имеет фигуру в (4 , 7)?
- 11) Какая координатная плоскость имеет фигуру в (6 , 8)?
- 12) Какая координатная плоскость имеет фигуру в (3 , 3)?
- 13) Какая координатная плоскость имеет фигуру в (4 , 1)?
- 14) Какая координатная плоскость имеет фигуру в (6 , 2)?
- 15) Какая координатная плоскость имеет фигуру в (0 , 0)?

ОТВЕТЫ

1. **B**
2. **C**
3. **B**
4. **C**
5. **C**
6. **D**
7. **B**
8. **C**
9. **A**
10. **A**
11. **D**
12. **A**
13. **D**
14. **C**
15. **A**