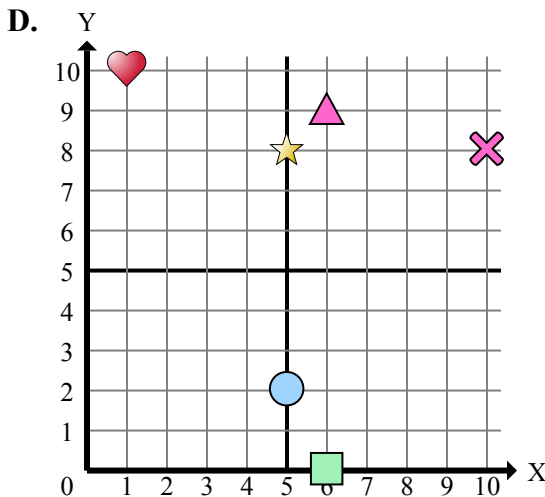
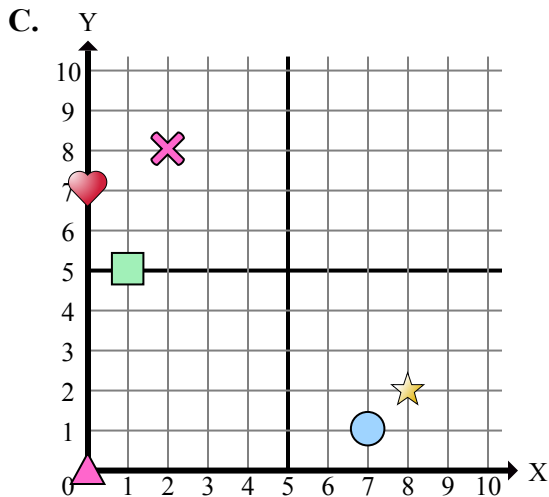
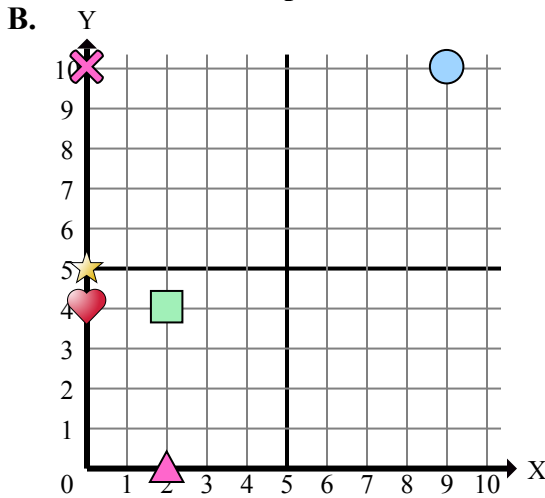
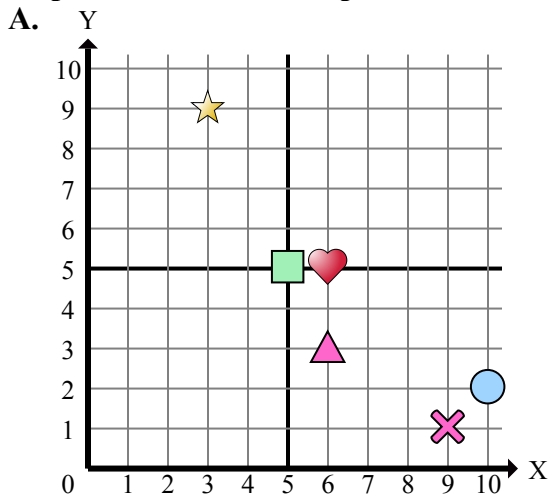




Определите, какая координатная плоскость отвечает всем требованиям.



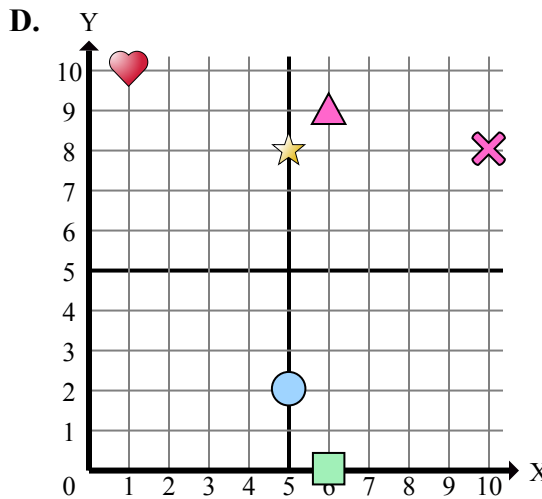
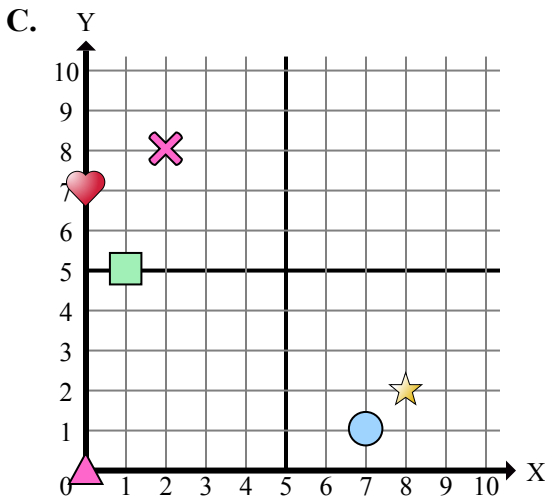
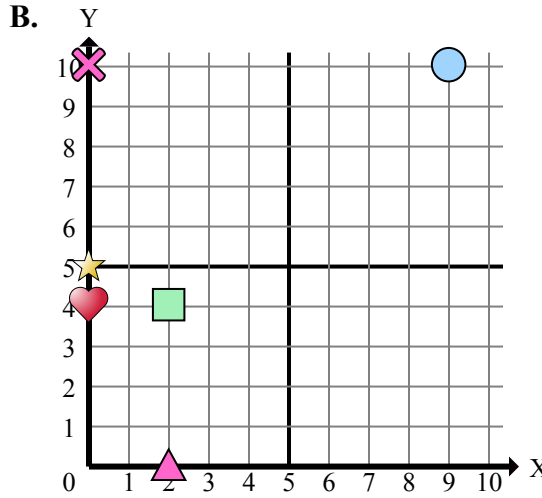
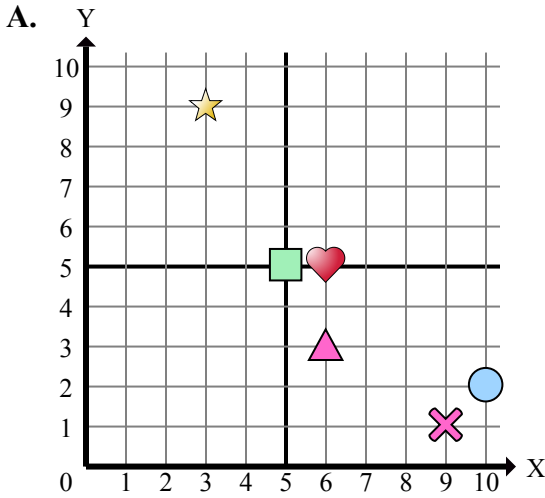
**Отвeты**

1. \_\_\_\_\_
2. \_\_\_\_\_
3. \_\_\_\_\_
4. \_\_\_\_\_
5. \_\_\_\_\_
6. \_\_\_\_\_
7. \_\_\_\_\_
8. \_\_\_\_\_
9. \_\_\_\_\_
10. \_\_\_\_\_
11. \_\_\_\_\_
12. \_\_\_\_\_
13. \_\_\_\_\_
14. \_\_\_\_\_
15. \_\_\_\_\_

- 1) Какая координатная плоскость имеет фигуру в (0 , 5)?
- 2) Какая координатная плоскость имеет фигуру в (2 , 0)?
- 3) Какая координатная плоскость имеет фигуру в (5 , 5)?
- 4) Какая координатная плоскость имеет фигуру в (3 , 9)?
- 5) Какая координатная плоскость имеет фигуру в (0 , 7)?
- 6) Какая координатная плоскость имеет фигуру в (6 , 9)?
- 7) Какая координатная плоскость имеет фигуру в (6 , 5)?
- 8) Какая координатная плоскость имеет фигуру в (8 , 2)?
- 9) Какая координатная плоскость имеет фигуру в (5 , 8)?
- 10) Какая координатная плоскость имеет фигуру в (9 , 10)?
- 11) Какая координатная плоскость имеет фигуру в (0 , 0)?
- 12) Какая координатная плоскость имеет фигуру в (2 , 4)?
- 13) Какая координатная плоскость имеет фигуру в (0 , 10)?
- 14) Какая координатная плоскость имеет фигуру в (6 , 0)?
- 15) Какая координатная плоскость имеет фигуру в (10 , 8)?



Определите, какая координатная плоскость отвечает всем требованиям.



- 1) Какая координатная плоскость имеет фигуру в (0 , 5)?
- 2) Какая координатная плоскость имеет фигуру в (2 , 0)?
- 3) Какая координатная плоскость имеет фигуру в (5 , 5)?
- 4) Какая координатная плоскость имеет фигуру в (3 , 9)?
- 5) Какая координатная плоскость имеет фигуру в (0 , 7)?
- 6) Какая координатная плоскость имеет фигуру в (6 , 9)?
- 7) Какая координатная плоскость имеет фигуру в (6 , 5)?
- 8) Какая координатная плоскость имеет фигуру в (8 , 2)?
- 9) Какая координатная плоскость имеет фигуру в (5 , 8)?
- 10) Какая координатная плоскость имеет фигуру в (9 , 10)?
- 11) Какая координатная плоскость имеет фигуру в (0 , 0)?
- 12) Какая координатная плоскость имеет фигуру в (2 , 4)?
- 13) Какая координатная плоскость имеет фигуру в (0 , 10)?
- 14) Какая координатная плоскость имеет фигуру в (6 , 0)?
- 15) Какая координатная плоскость имеет фигуру в (10 , 8)?

**ОТВЕТЫ**

1.          **B**
2.          **B**
3.          **A**
4.          **A**
5.          **C**
6.          **D**
7.          **A**
8.          **C**
9.          **D**
10.          **B**
11.          **C**
12.          **B**
13.          **B**
14.          **D**
15.          **D**