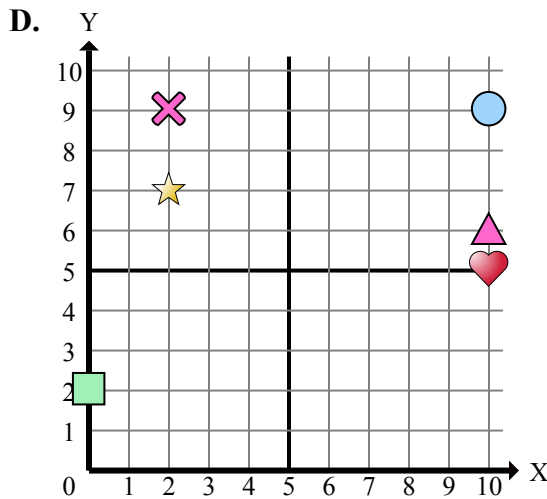
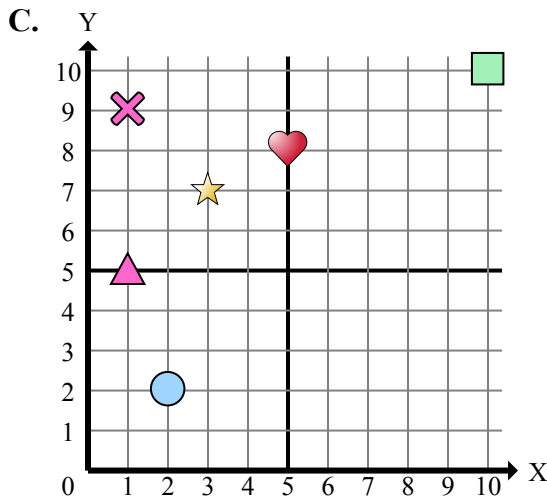
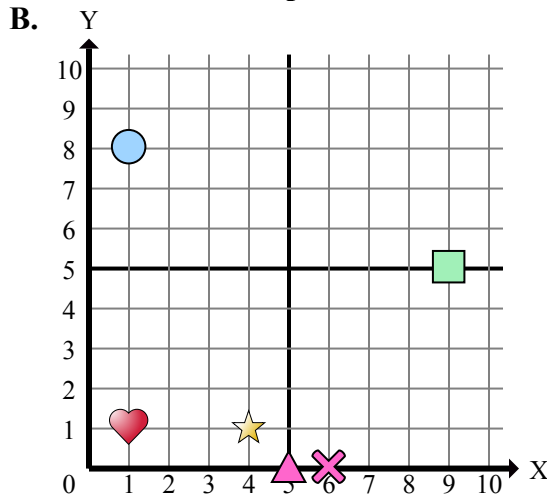
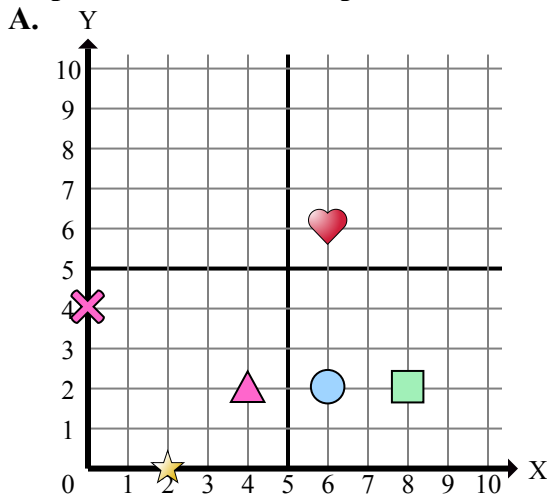




Определите, какая координатная плоскость отвечает всем требованиям.



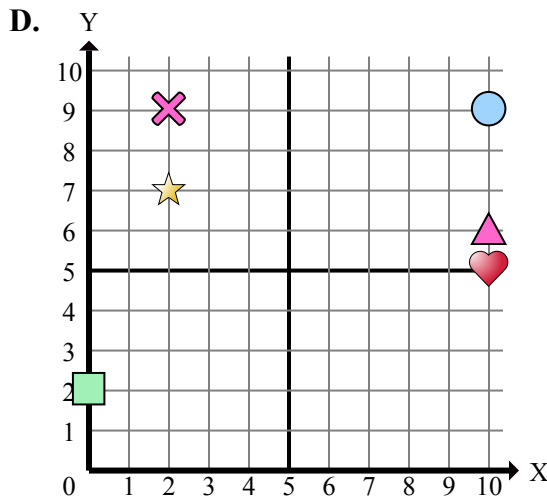
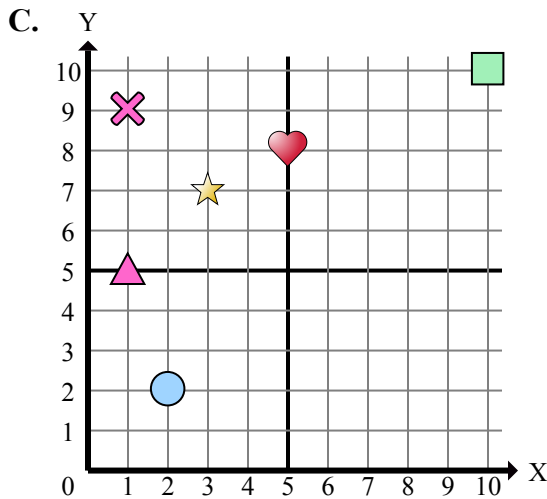
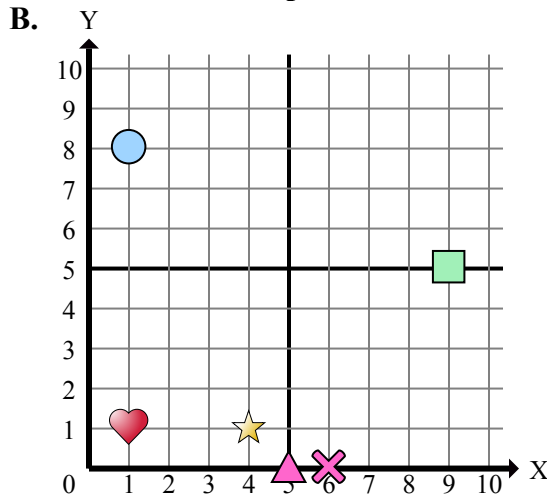
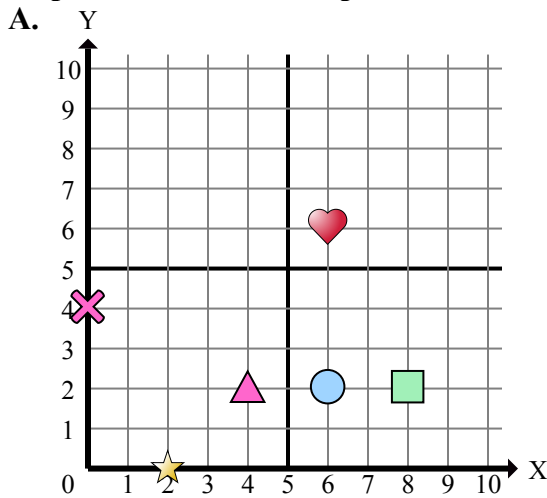
Ответы

1. _____
2. _____
3. _____
4. _____
5. _____
6. _____
7. _____
8. _____
9. _____
10. _____
11. _____
12. _____
13. _____
14. _____
15. _____

- 1) Какая координатная плоскость имеет фигуру в (1 , 8)?
- 2) Какая координатная плоскость имеет фигуру в (0 , 4)?
- 3) Какая координатная плоскость имеет фигуру в (1 , 1)?
- 4) Какая координатная плоскость имеет фигуру в (6 , 0)?
- 5) Какая координатная плоскость имеет фигуру в (10 , 5)?
- 6) Какая координатная плоскость имеет фигуру в (9 , 5)?
- 7) Какая координатная плоскость имеет фигуру в (2 , 0)?
- 8) Какая координатная плоскость имеет фигуру в (6 , 2)?
- 9) Какая координатная плоскость имеет фигуру в (4 , 2)?
- 10) Какая координатная плоскость имеет фигуру в (10 , 10)?
- 11) Какая координатная плоскость имеет фигуру в (8 , 2)?
- 12) Какая координатная плоскость имеет фигуру в (2 , 7)?
- 13) Какая координатная плоскость имеет фигуру в (1 , 5)?
- 14) Какая координатная плоскость имеет фигуру в (6 , 6)?
- 15) Какая координатная плоскость имеет фигуру в (3 , 7)?



Определите, какая координатная плоскость отвечает всем требованиям.



- 1) Какая координатная плоскость имеет фигуру в (1 , 8)?
- 2) Какая координатная плоскость имеет фигуру в (0 , 4)?
- 3) Какая координатная плоскость имеет фигуру в (1 , 1)?
- 4) Какая координатная плоскость имеет фигуру в (6 , 0)?
- 5) Какая координатная плоскость имеет фигуру в (10 , 5)?
- 6) Какая координатная плоскость имеет фигуру в (9 , 5)?
- 7) Какая координатная плоскость имеет фигуру в (2 , 0)?
- 8) Какая координатная плоскость имеет фигуру в (6 , 2)?
- 9) Какая координатная плоскость имеет фигуру в (4 , 2)?
- 10) Какая координатная плоскость имеет фигуру в (10 , 10)?
- 11) Какая координатная плоскость имеет фигуру в (8 , 2)?
- 12) Какая координатная плоскость имеет фигуру в (2 , 7)?
- 13) Какая координатная плоскость имеет фигуру в (1 , 5)?
- 14) Какая координатная плоскость имеет фигуру в (6 , 6)?
- 15) Какая координатная плоскость имеет фигуру в (3 , 7)?

ОТВЕТЫ

1. **B**
2. **A**
3. **B**
4. **B**
5. **D**
6. **B**
7. **A**
8. **A**
9. **A**
10. **C**
11. **A**
12. **D**
13. **C**
14. **A**
15. **C**