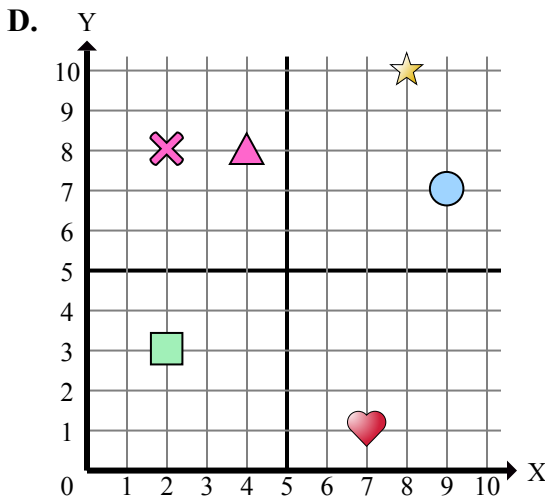
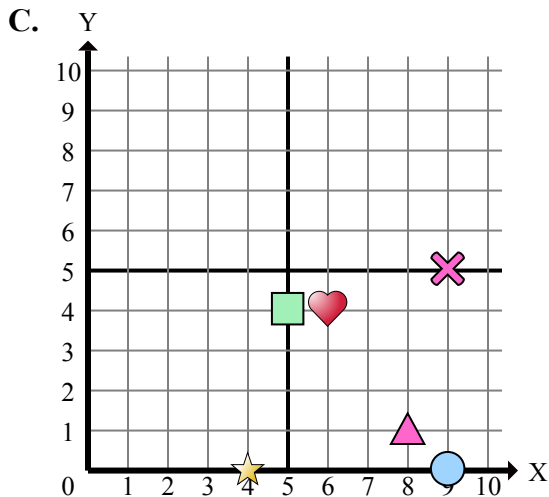
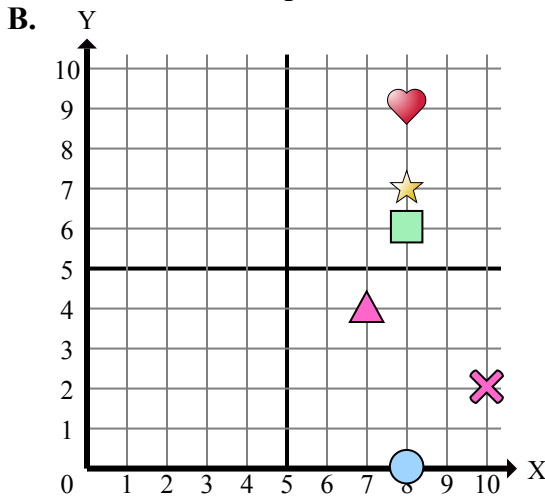
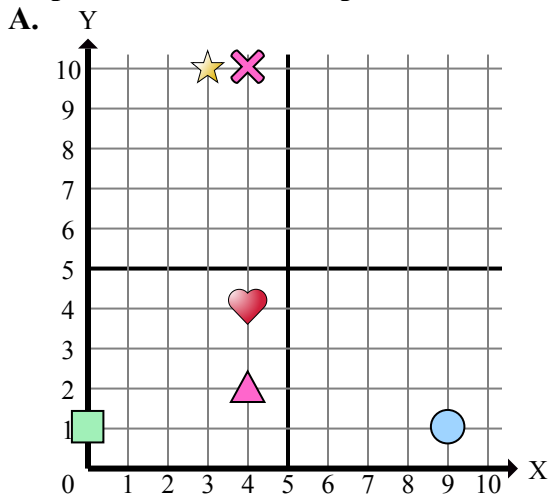




Определите, какая координатная плоскость отвечает всем требованиям.



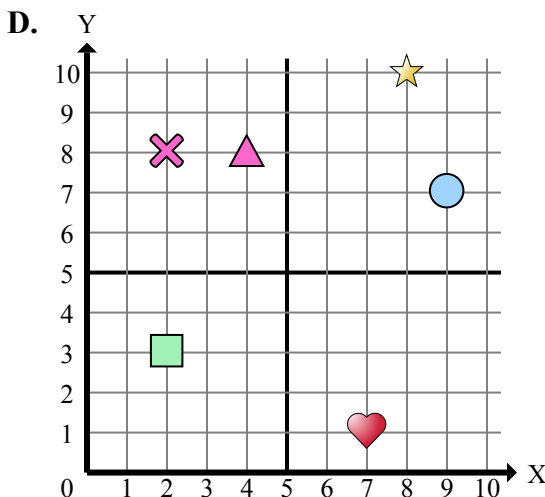
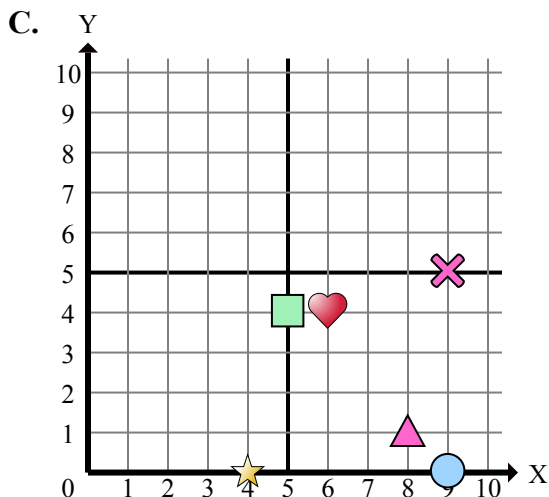
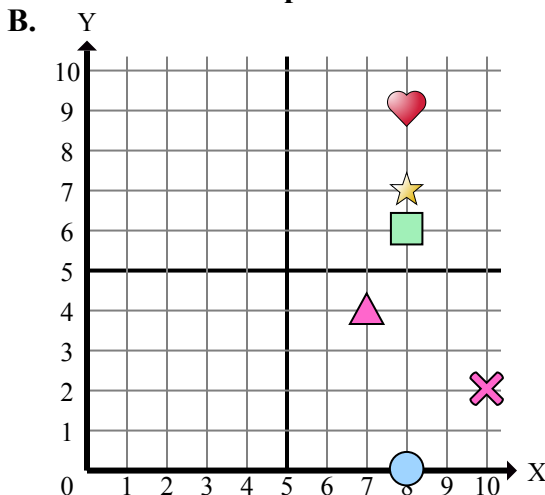
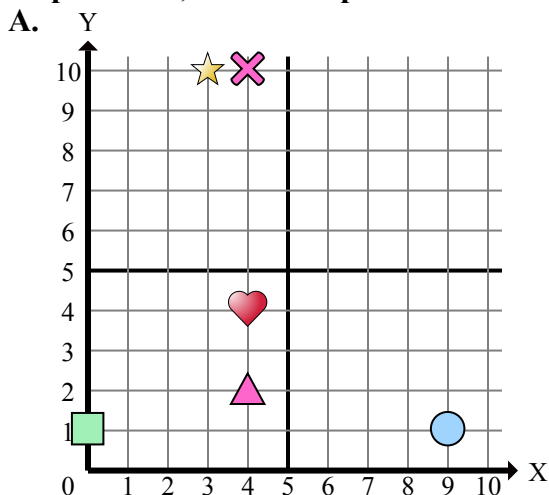
Ответы

1. _____
2. _____
3. _____
4. _____
5. _____
6. _____
7. _____
8. _____
9. _____
10. _____
11. _____
12. _____
13. _____
14. _____
15. _____

- 1) Какая координатная плоскость имеет фигуру в $(4, 0)$?
- 2) Какая координатная плоскость имеет фигуру в $(3, 10)$?
- 3) Какая координатная плоскость имеет фигуру в $(4, 8)$?
- 4) Какая координатная плоскость имеет фигуру в $(4, 4)$?
- 5) Какая координатная плоскость имеет фигуру в $(10, 2)$?
- 6) Какая координатная плоскость имеет фигуру в $(8, 6)$?
- 7) Какая координатная плоскость имеет фигуру в $(4, 2)$?
- 8) Какая координатная плоскость имеет фигуру в $(4, 10)$?
- 9) Какая координатная плоскость имеет фигуру в $(8, 0)$?
- 10) Какая координатная плоскость имеет фигуру в $(8, 1)$?
- 11) Какая координатная плоскость имеет фигуру в $(2, 3)$?
- 12) Какая координатная плоскость имеет фигуру в $(8, 10)$?
- 13) Какая координатная плоскость имеет фигуру в $(6, 4)$?
- 14) Какая координатная плоскость имеет фигуру в $(9, 0)$?
- 15) Какая координатная плоскость имеет фигуру в $(9, 7)$?



Определите, какая координатная плоскость отвечает всем требованиям.



- 1) Какая координатная плоскость имеет фигуру в $(4, 0)$?
- 2) Какая координатная плоскость имеет фигуру в $(3, 10)$?
- 3) Какая координатная плоскость имеет фигуру в $(4, 8)$?
- 4) Какая координатная плоскость имеет фигуру в $(4, 4)$?
- 5) Какая координатная плоскость имеет фигуру в $(10, 2)$?
- 6) Какая координатная плоскость имеет фигуру в $(8, 6)$?
- 7) Какая координатная плоскость имеет фигуру в $(4, 2)$?
- 8) Какая координатная плоскость имеет фигуру в $(4, 10)$?
- 9) Какая координатная плоскость имеет фигуру в $(8, 0)$?
- 10) Какая координатная плоскость имеет фигуру в $(8, 1)$?
- 11) Какая координатная плоскость имеет фигуру в $(2, 3)$?
- 12) Какая координатная плоскость имеет фигуру в $(8, 10)$?
- 13) Какая координатная плоскость имеет фигуру в $(6, 4)$?
- 14) Какая координатная плоскость имеет фигуру в $(9, 0)$?
- 15) Какая координатная плоскость имеет фигуру в $(9, 7)$?

Отвѣты

1. **C**
2. **A**
3. **D**
4. **A**
5. **B**
6. **B**
7. **A**
8. **A**
9. **B**
10. **C**
11. **D**
12. **D**
13. **C**
14. **C**
15. **D**