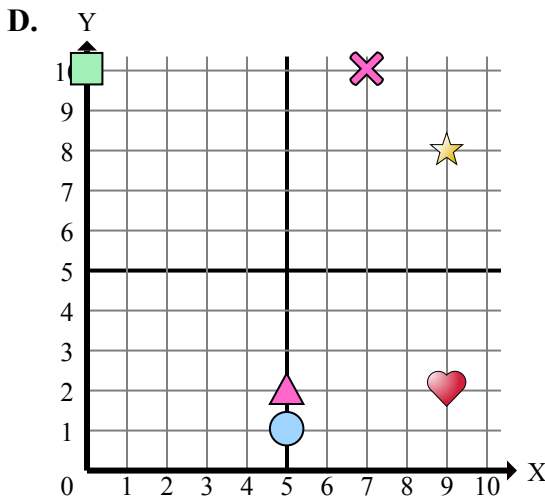
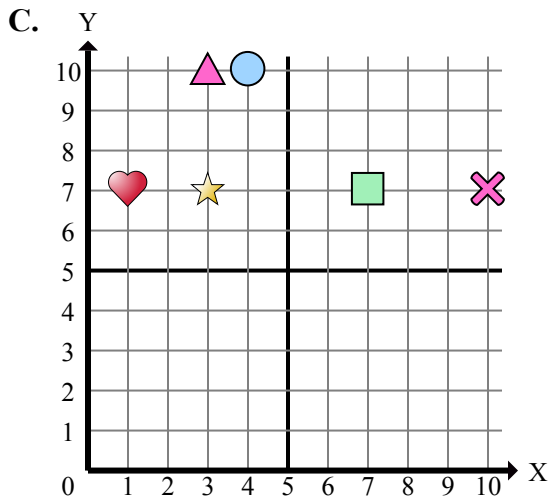
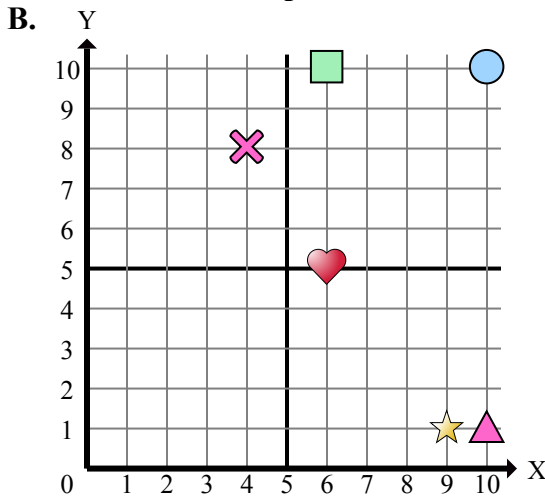
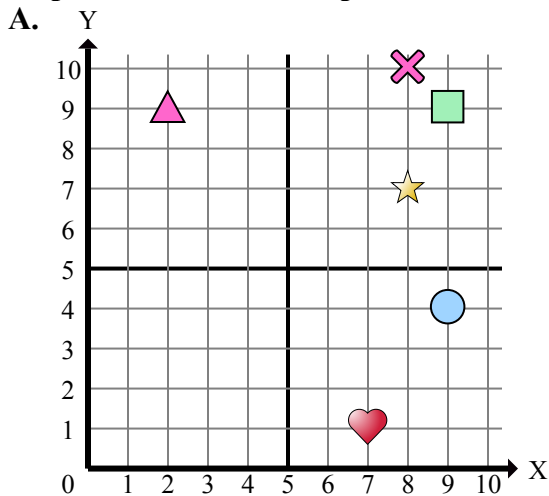




Определите, какая координатная плоскость отвечает всем требованиям.



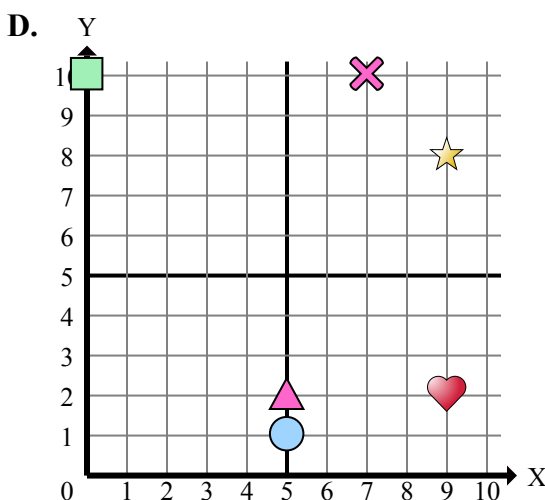
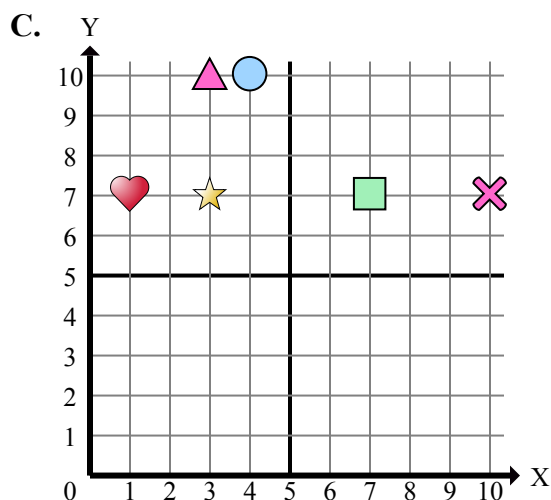
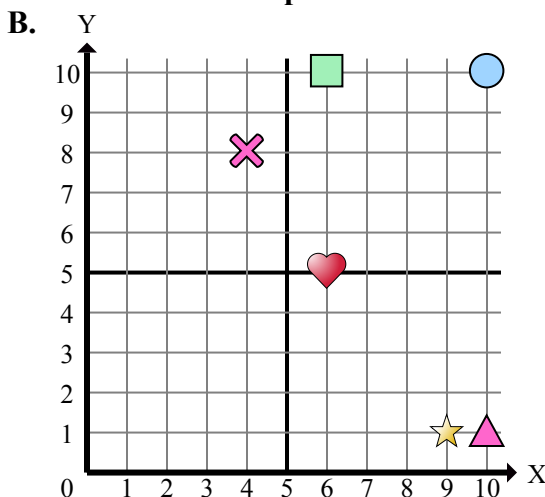
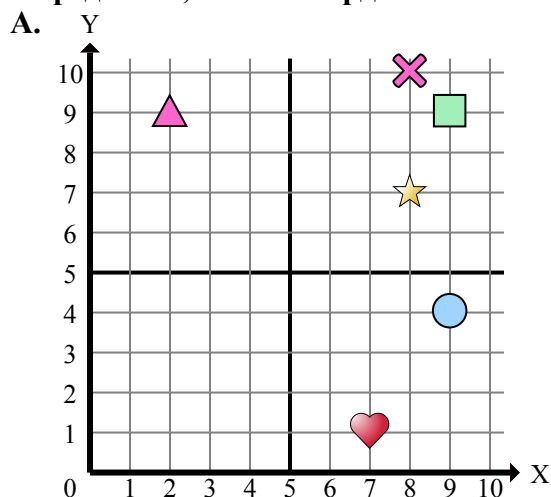
- 1) Какая координатная плоскость имеет фигуру в (9 , 2)?
- 2) Какая координатная плоскость имеет фигуру в (10 , 7)?
- 3) Какая координатная плоскость имеет фигуру в (7 , 7)?
- 4) Какая координатная плоскость имеет фигуру в (9 , 4)?
- 5) Какая координатная плоскость имеет фигуру в (6 , 10)?
- 6) Какая координатная плоскость имеет фигуру в (2 , 9)?
- 7) Какая координатная плоскость имеет фигуру в (3 , 7)?
- 8) Какая координатная плоскость имеет фигуру в (7 , 10)?
- 9) Какая координатная плоскость имеет фигуру в (9 , 9)?
- 10) Какая координатная плоскость имеет фигуру в (6 , 5)?
- 11) Какая координатная плоскость имеет фигуру в (5 , 2)?
- 12) Какая координатная плоскость имеет фигуру в (8 , 10)?
- 13) Какая координатная плоскость имеет фигуру в (10 , 1)?
- 14) Какая координатная плоскость имеет фигуру в (5 , 1)?
- 15) Какая координатная плоскость имеет фигуру в (0 , 10)?

Отвeты

1. _____
2. _____
3. _____
4. _____
5. _____
6. _____
7. _____
8. _____
9. _____
10. _____
11. _____
12. _____
13. _____
14. _____
15. _____



Определите, какая координатная плоскость отвечает всем требованиям.



- 1) Какая координатная плоскость имеет фигуру в (9 , 2)?
- 2) Какая координатная плоскость имеет фигуру в (10 , 7)?
- 3) Какая координатная плоскость имеет фигуру в (7 , 7)?
- 4) Какая координатная плоскость имеет фигуру в (9 , 4)?
- 5) Какая координатная плоскость имеет фигуру в (6 , 10)?
- 6) Какая координатная плоскость имеет фигуру в (2 , 9)?
- 7) Какая координатная плоскость имеет фигуру в (3 , 7)?
- 8) Какая координатная плоскость имеет фигуру в (7 , 10)?
- 9) Какая координатная плоскость имеет фигуру в (9 , 9)?
- 10) Какая координатная плоскость имеет фигуру в (6 , 5)?
- 11) Какая координатная плоскость имеет фигуру в (5 , 2)?
- 12) Какая координатная плоскость имеет фигуру в (8 , 10)?
- 13) Какая координатная плоскость имеет фигуру в (10 , 1)?
- 14) Какая координатная плоскость имеет фигуру в (5 , 1)?
- 15) Какая координатная плоскость имеет фигуру в (0 , 10)?

ОТВЕТЫ

1. D
2. C
3. C
4. A
5. B
6. A
7. C
8. D
9. A
10. B
11. D
12. A
13. B
14. D
15. D