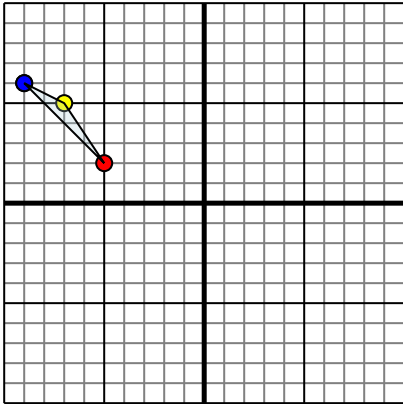




Отразите каждую фигуру на координатной плоскости.

1)



Фигура сверху имеет координаты:

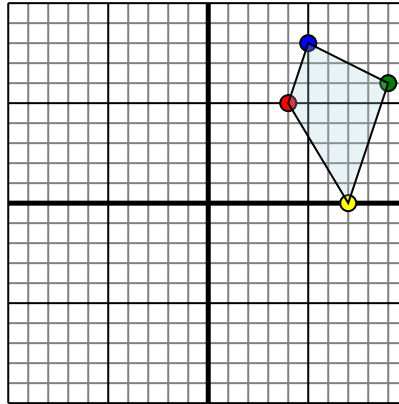
A. (-5,2)

B. (-7,5)

C. (-9,6)

Отразите фигуру относительно оси x.

2)



Фигура сверху имеет координаты:

A. (4,5)

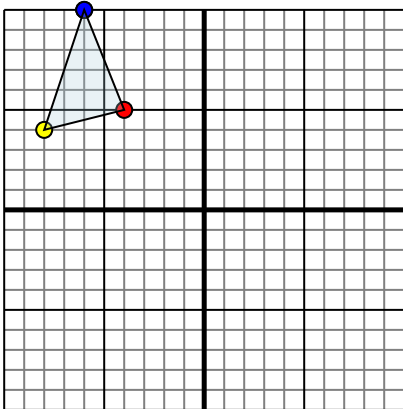
B. (7,0)

C. (9,6)

D. (5,8)

Отразите фигуру относительно оси y.

3)



Фигура сверху имеет координаты:

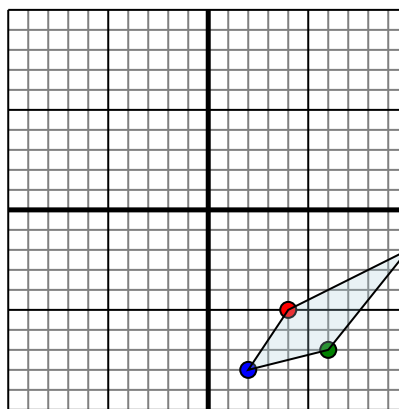
A. (-4,5)

B. (-8,4)

C. (-6,10)

Отразите фигуру относительно оси x.

4)



Фигура сверху имеет координаты:

A. (4,-5)

B. (10,-2)

C. (6,-7)

D. (2,-8)

Отразите фигуру относительно оси x.

Ответы

1. _____

2. _____

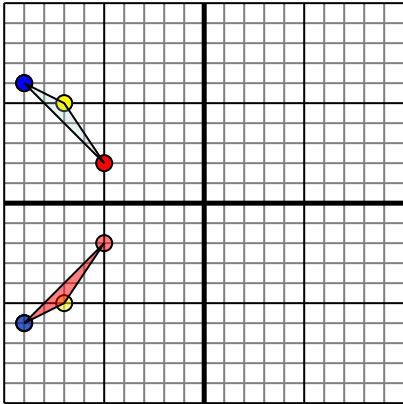
3. _____

4. _____



Отразите каждую фигуру на координатной плоскости.

1)

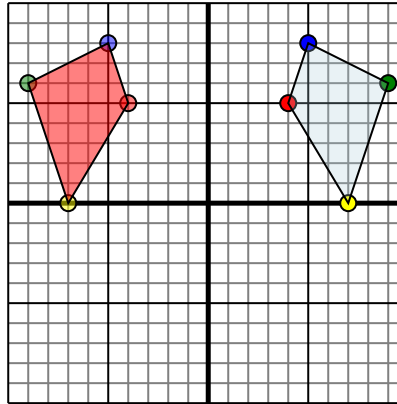


Фигура сверху имеет координаты:

- A. (-5,2)
- B. (-7,5)
- C. (-9,6)

Отразите фигуру относительно оси x.

2)

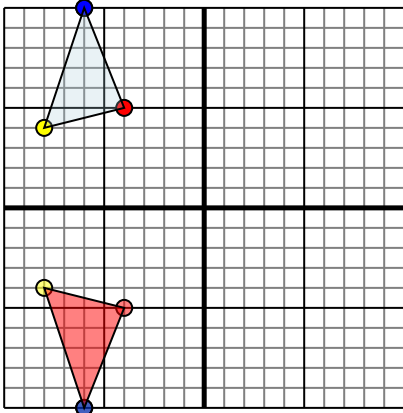


Фигура сверху имеет координаты:

- A. (4,5)
- B. (7,0)
- C. (9,6)
- D. (5,8)

Отразите фигуру относительно оси y.

3)

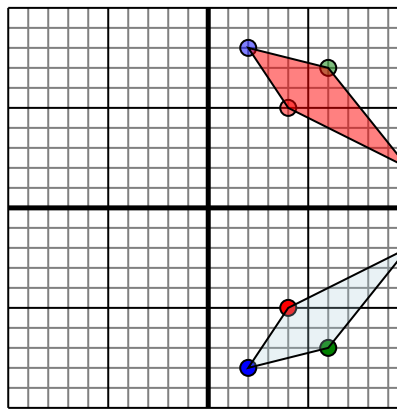


Фигура сверху имеет координаты:

- A. (-4,5)
- B. (-8,4)
- C. (-6,10)

Отразите фигуру относительно оси x.

4)



Фигура сверху имеет координаты:

- A. (4,-5)
- B. (10,-2)
- C. (6,-7)
- D. (2,-8)

Отразите фигуру относительно оси x.

ОТВЕТЫ

1. -5-2 -7-5 -9-6 График
2. -4-5 -7-0 -9-6 -5-8 График
3. -4-5 -8-4 -6-10 График
4. 4-5 10-2 6-7 2-8 График