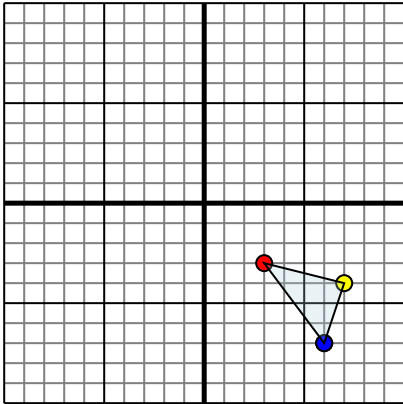




Отразите каждую фигуру на координатной плоскости.

ОТВЕТЫ

1)

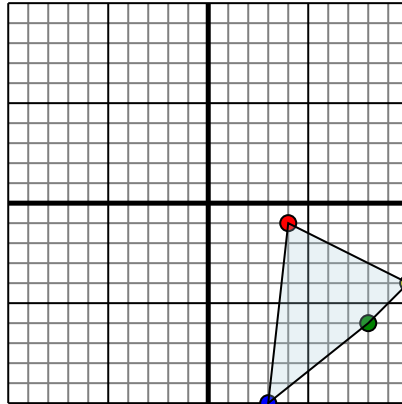


Фигура сверху имеет координаты:

- A. (3,-3)
- B. (7,-4)
- C. (6,-7)

Отразите фигуру относительно оси x.

2)

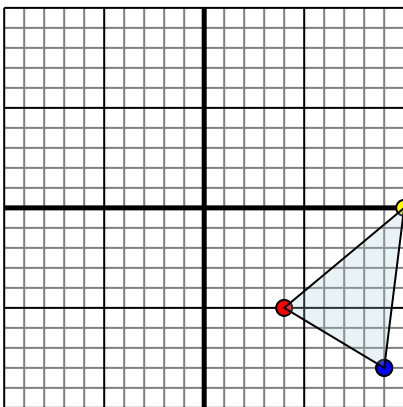


Фигура сверху имеет координаты:

- A. (4,-1)
- B. (10,-4)
- C. (8,-6)
- D. (3,-10)

Отразите фигуру относительно оси x.

3)

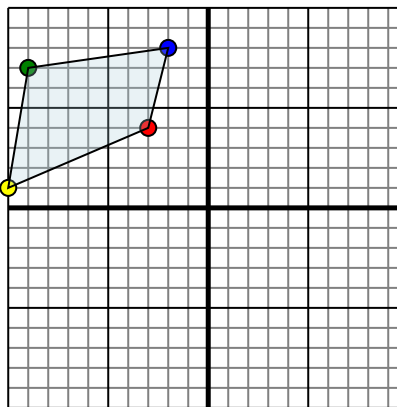


Фигура сверху имеет координаты:

- A. (4,-5)
- B. (10,0)
- C. (9,-8)

Отразите фигуру относительно оси y.

4)



Фигура сверху имеет координаты:

- A. (-3,4)
- B. (-10,1)
- C. (-9,7)
- D. (-2,8)

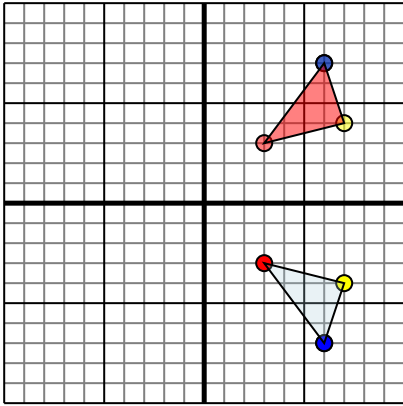
Отразите фигуру относительно оси x.

- 1. _____
- 2. _____
- 3. _____
- 4. _____



Отразите каждую фигуру на координатной плоскости.

1)

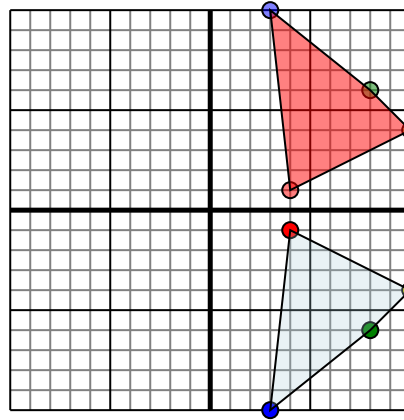


Фигура сверху имеет координаты:

- A. (3,-3)
- B. (7,-4)
- C. (6,-7)

Отразите фигуру относительно оси x.

2)

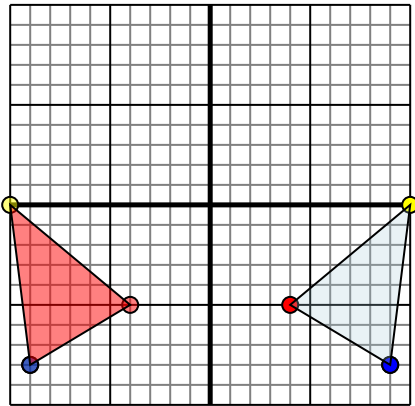


Фигура сверху имеет координаты:

- A. (4,-1)
- B. (10,-4)
- C. (8,-6)
- D. (3,-10)

Отразите фигуру относительно оси x.

3)

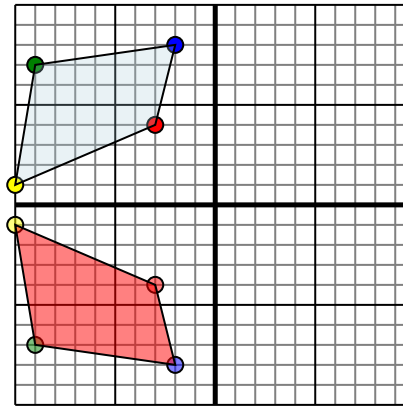


Фигура сверху имеет координаты:

- A. (4,-5)
- B. (10,0)
- C. (9,-8)

Отразите фигуру относительно оси y.

4)



Фигура сверху имеет координаты:

- A. (-3,4)
- B. (-10,1)
- C. (-9,7)
- D. (-2,8)

Отразите фигуру относительно оси x.

Ответы

1. 3 3 7 4 6 7 График
2. 4
3. 1 10 4 8 6 3 10 График
4. -4 -5 -10 0 -9 -8 График
5. -3 -4 -10 -1 -9 -7 -2 -8 График