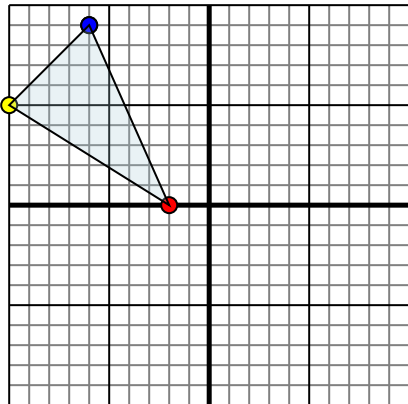




Отразите каждую фигуру на координатной плоскости.

Ответы

1)

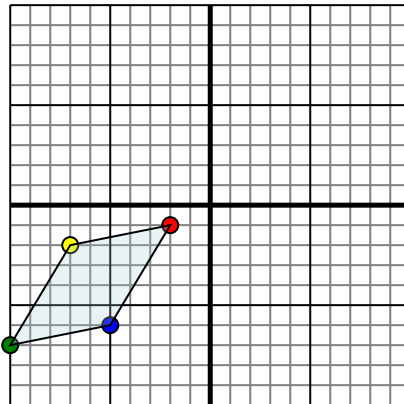


Фигура сверху имеет координаты:

- A. (-2,0)
- B. (-10,5)
- C. (-6,9)

Отразите фигуру относительно оси x.

2)

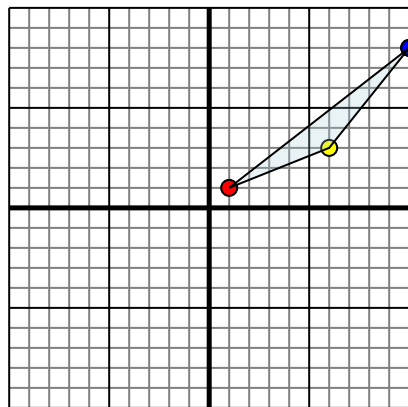


Фигура сверху имеет координаты:

- A. (-2,-1)
- B. (-7,-2)
- C. (-10,-7)
- D. (-5,-6)

Отразите фигуру относительно оси x.

3)

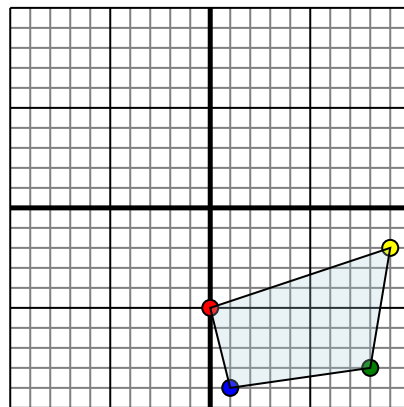


Фигура сверху имеет координаты:

- A. (1,1)
- B. (6,3)
- C. (10,8)

Отразите фигуру относительно оси x.

4)



Фигура сверху имеет координаты:

- A. (0,-5)
- B. (9,-2)
- C. (8,-8)
- D. (1,-9)

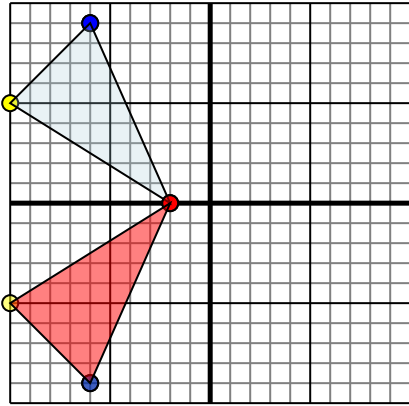
Отразите фигуру относительно оси x.

- 1. _____
- 2. _____
- 3. _____
- 4. _____



Отразите каждую фигуру на координатной плоскости.

1)

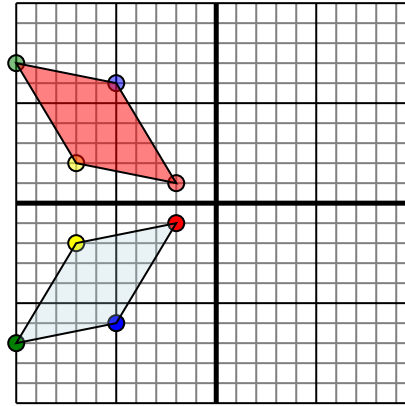


Фигура сверху имеет координаты:

- A. (-2,0)
- B. (-10,5)
- C. (-6,9)

Отразите фигуру относительно оси x.

2)

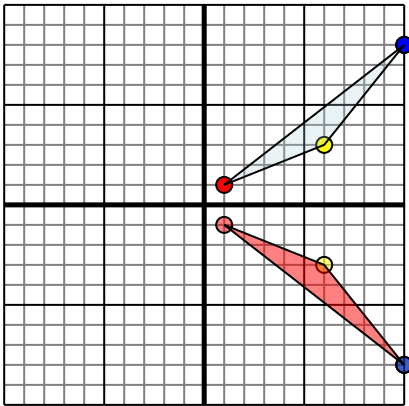


Фигура сверху имеет координаты:

- A. (-2,-1)
- B. (-7,-2)
- C. (-10,-7)
- D. (-5,-6)

Отразите фигуру относительно оси x.

3)

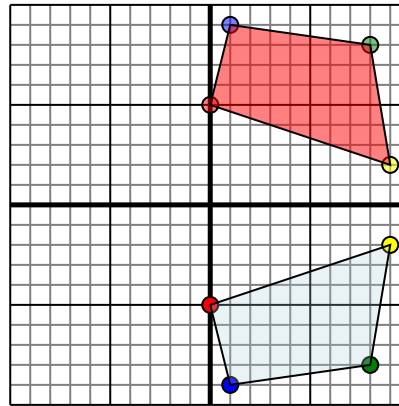


Фигура сверху имеет координаты:

- A. (1,1)
- B. (6,3)
- C. (10,8)

Отразите фигуру относительно оси x.

4)



Фигура сверху имеет координаты:

- A. (0,-5)
- B. (9,-2)
- C. (8,-8)
- D. (1,-9)

Отразите фигуру относительно оси x.

ОТВЕТЫ

1. -2 0 -10 -5 -6 -9 1 График
2. -2 1 -7 2 -10 7 -5 6 График
3. 1 -1 6 -3 10 -8 1 График
4. 0 5 9 2 8 8 9 График