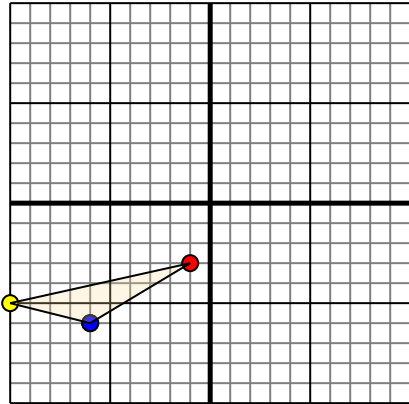




Переведите каждую фигуру как описано.

Отвeты

1)

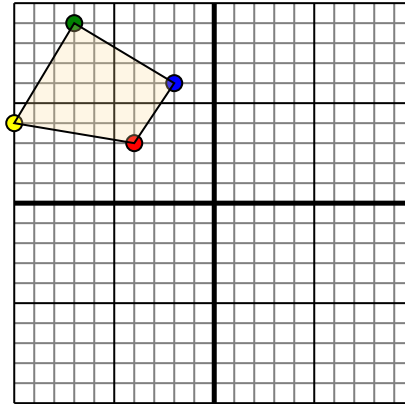


Фигура сверху имеет следующие координаты:

- A. (-1,-3)
- B. (-10,-5)
- C. (-6,-6)

Переместите фигуру на 5 единицу прямой и 2 единицу вверх.

2)

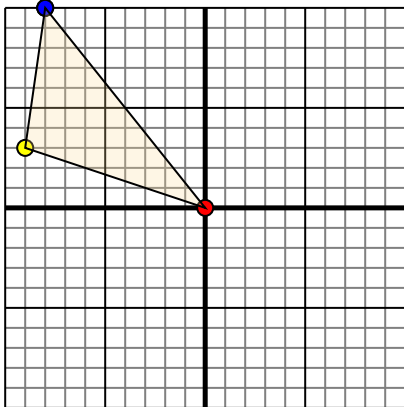


Фигура сверху имеет следующие координаты:

- A. (-4,3)
- B. (-10,4)
- C. (-7,9)
- D. (-2,6)

Переместите фигуру на 10 единицу прямой и 4 единицу вниз.

3)

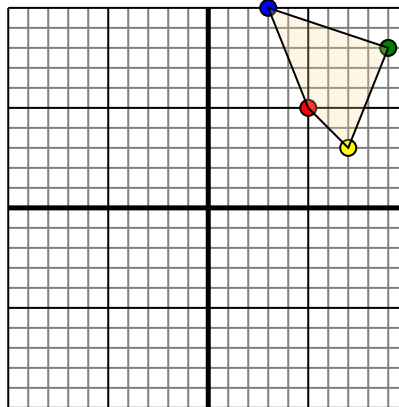


Фигура сверху имеет следующие координаты:

- A. (0,0)
- B. (-9,3)
- C. (-8,10)

Переместите фигуру на 7 единицу прямой и 5 единицу вниз.

4)



Фигура сверху имеет следующие координаты:

- A. (5,5)
- B. (7,3)
- C. (9,8)
- D. (3,10)

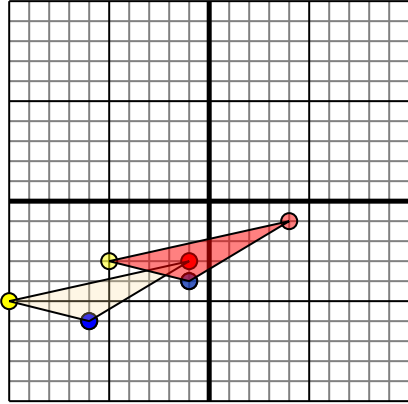
Переместите фигуру на 8 единицу влево и 4 единицу вниз.

1. _____ График
2. _____ График
3. _____ График
4. _____ График



Переведите каждую фигуру как описано.

1)

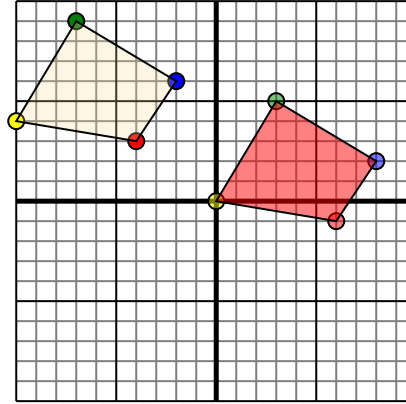


Фигура сверху имеет следующие координаты:

- A. (-1,-3)
- B. (-10,-5)
- C. (-6,-6)

Переместите фигуру на 5 единиц прямой и 2 единицу вверх.

2)

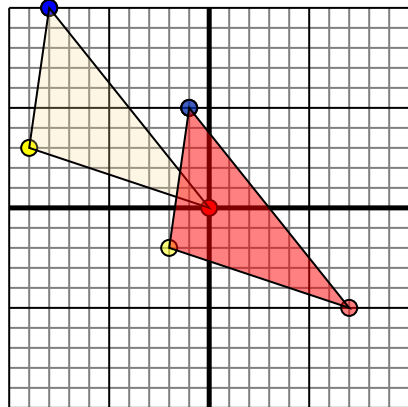


Фигура сверху имеет следующие координаты:

- A. (-4,3)
- B. (-10,4)
- C. (-7,9)
- D. (-2,6)

Переместите фигуру на 10 единиц прямой и 4 единицу вниз.

3)

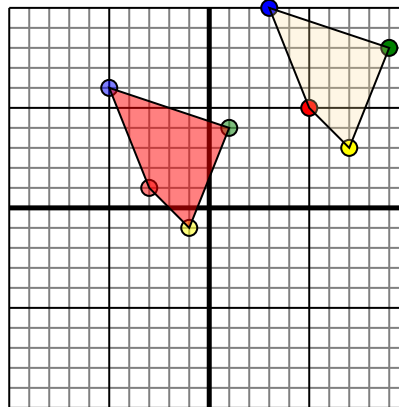


Фигура сверху имеет следующие координаты:

- A. (0,0)
- B. (-9,3)
- C. (-8,10)

Переместите фигуру на 7 единиц прямой и 5 единицу вниз.

4)



Фигура сверху имеет следующие координаты:

- A. (5,5)
- B. (7,3)
- C. (9,8)
- D. (3,10)

Переместите фигуру на 8 единицу влево и 4 единицу вниз.

Ответы

1. 4 -1 -5 -3 -1 -4 [График](#)
2. 6 -1 0 0 3 5 8 2 [График](#)
3. 7 -5 -2 -2 -1 5 [График](#)
4. -3 1 -1 -1 4 -5 -6 [График](#)