

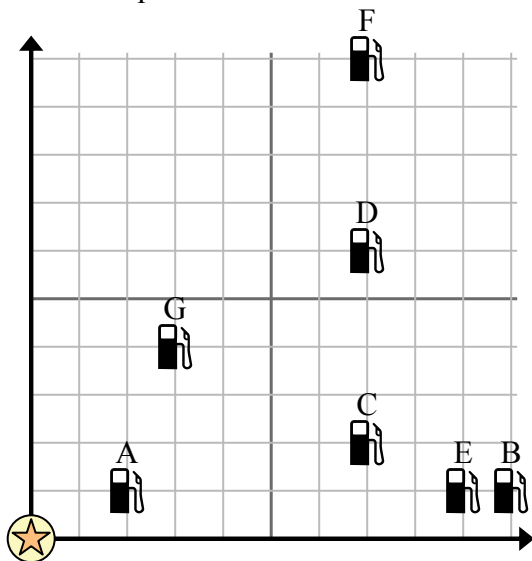


Используйте сетку для решения каждой проблемы.

= Бензоколонка

= Торговый центр

= 1 Square Миля



- 1) Инвесторы хотели построить новую заправочную станцию, но хотели убедиться, что она находится на расстоянии не менее 2 миль от ранее существовавшей. Следует ли им построить заправочную станцию в 5 милях к востоку и 3 милях к северу от торгового центра?
- 2) Какая заправка находится ближе всего к ТЦ?
- 3) Какая заправка находится дальше всего от торгового центра?
- 4) Какая заправка находится дальше west? Станция С или станция Е?
- 5) Если бы вы отправились на 7 миль на восток и 10 миль на север от торгового центра, на какой заправочной станции вы оказались бы?

Отвeты

1. _____
2. _____
3. _____
4. _____
5. _____
6. _____
7. _____
8. _____
9. _____
10. _____

6) Новое судно хотело ловить рыбу, но капитан хотел убедиться, что они находятся как минимум в 2 милях от другого корабля. Если бы он проплыл 5 миль к востоку и 8 миль к северу, подойдет ли ему это место?

7) Какой корабль ближе всего к бую?

8) Какой корабль дальше всего от бую?

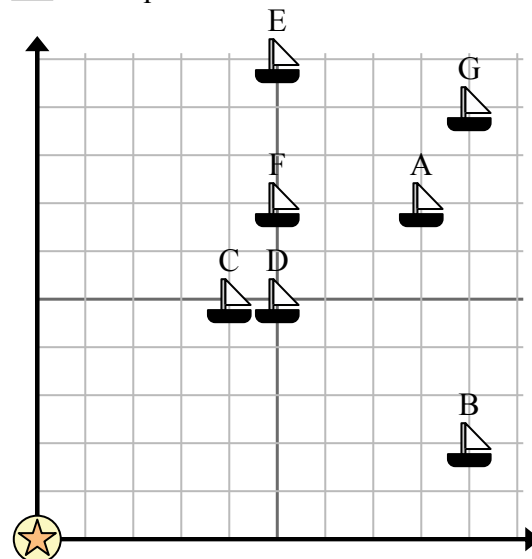
9) Какой корабль дальше east? Отправить D или отправить A?

10) Какой корабль находится в 5 милях к востоку и 7 милях к северу от бую?

= Корабль

= Буй

= 1 Square Миля



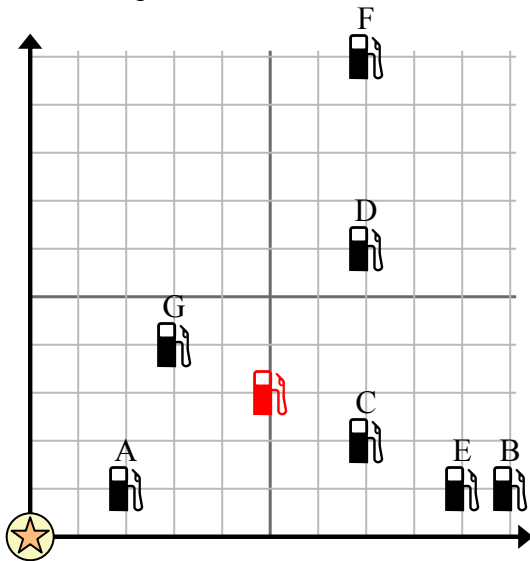


Используйте сетку для решения каждой проблемы.

= Бензоколонка

= Торговый центр

= 1 Square Миля



- 1) Инвесторы хотели построить новую заправочную станцию, но хотели убедиться, что она находится на расстоянии не менее 2 миль от ранее существовавшей. Следует ли им построить заправочную станцию в 5 милях к востоку и 3 милях к северу от торгового центра?
- 2) Какая заправка находится ближе всего к ТЦ?
- 3) Какая заправка находится дальше всего от торгового центра?
- 4) Какая заправка находится дальше west? Станция С или станция Е?
- 5) Если бы вы отправились на 7 миль на восток и 10 миль на север от торгового центра, на какой заправочной станции вы оказались бы?

Ответы

1. **да**
2. **A**
3. **F**
4. **C**
5. **F**
6. **нет**
7. **C**
8. **G**
9. **A**
10. **F**

- 6) Новое судно хотело ловить рыбу, но капитан хотел убедиться, что они находятся как минимум в 2 милях от другого корабля. Если бы он проплыл 5 миль к востоку и 8 миль к северу, подойдет ли ему это место?

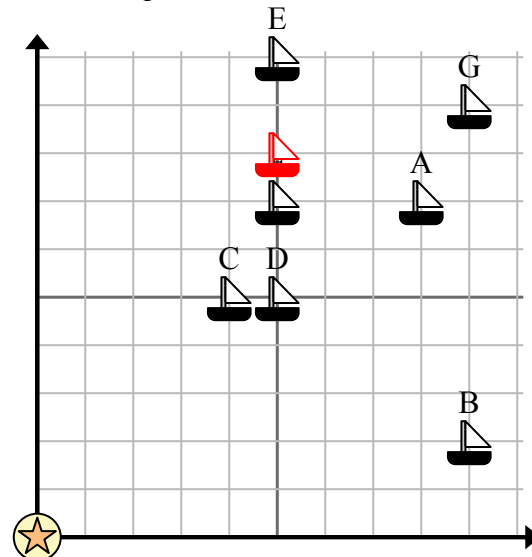
= Корабль

= Буй

= 1 Square Миля

- 7) Какой корабль ближе всего к бую?

- 8) Какой корабль дальше всего от бую?



- 9) Какой корабль дальше east? Отправить D или отправить A?

- 10) Какой корабль находится в 5 милях к востоку и 7 милях к северу от бую?