


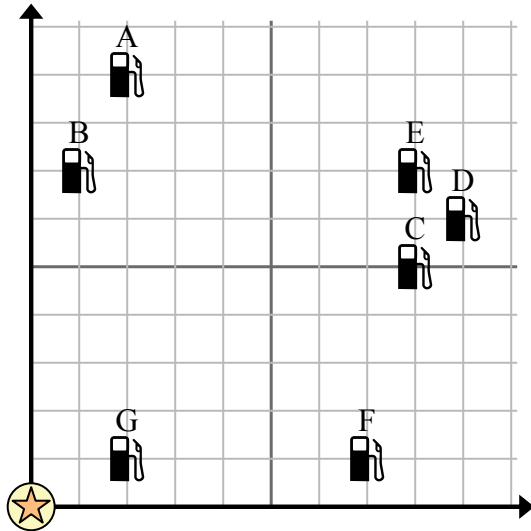




Используйте сетку для решения каждой проблемы.

-  = Бензоколонка
-  = Торговый центр
-  = 1 Square Миля






- 1) Инвесторы хотели построить новую заправочную станцию, но хотели убедиться, что она находится на расстоянии не менее 2 миль от ранее существовавшей. Следует ли им построить заправочную станцию в 8 милях к востоку и 4 милях к северу от торгового центра?
- 2) Какая заправка находится ближе всего к ТЦ?
- 3) Какая заправка находится дальше всего от торгового центра?
- 4) Какая заправка находится дальше east? Станция С или станция В?
- 5) Если бы вы отправились на 8 миль на восток и 5 миль на север от торгового центра, на какой заправочной станции вы оказались бы?

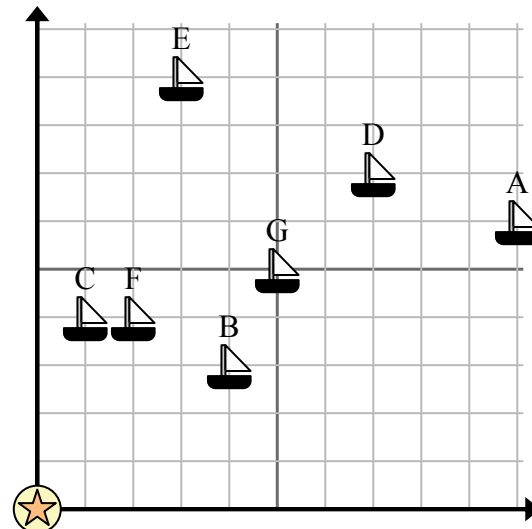
**Отвeты**

1. \_\_\_\_\_
2. \_\_\_\_\_
3. \_\_\_\_\_
4. \_\_\_\_\_
5. \_\_\_\_\_
6. \_\_\_\_\_
7. \_\_\_\_\_
8. \_\_\_\_\_
9. \_\_\_\_\_
10. \_\_\_\_\_

- 6) Новое судно хотело ловить рыбу, но капитан хотел убедиться, что они находятся как минимум в 2 милях от другого корабля. Если бы он проплыл 5 миль к востоку и 8 миль к северу, подойдет ли ему это место?

-  = Корабль
-  = Буй
-  = 1 Square Миля

- 7) Какой корабль ближе всего к бую?
- 8) Какой корабль дальше всего от бую?
- 9) Какой корабль дальше south? Отправить G или отправить F?



- 10) Какой корабль находится в 2 милях к востоку и 4 милях к северу от бую?

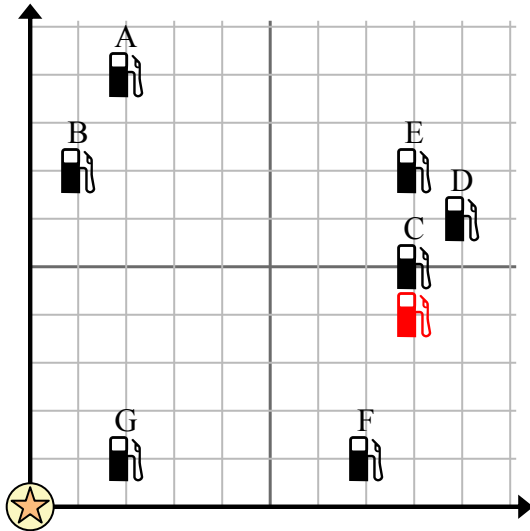


Используйте сетку для решения каждой проблемы.

= Бензоколонка

= Торговый центр

= 1 Square Миля



- 1) Инвесторы хотели построить новую заправочную станцию, но хотели убедиться, что она находится на расстоянии не менее 2 миль от ранее существовавшей. Следует ли им построить заправочную станцию в 8 милях к востоку и 4 милях к северу от торгового центра?
- 2) Какая заправка находится ближе всего к ТЦ?
- 3) Какая заправка находится дальше всего от торгового центра?
- 4) Какая заправка находится дальше east? Станция С или станция В?
- 5) Если бы вы отправились на 8 миль на восток и 5 миль на север от торгового центра, на какой заправочной станции вы оказались бы?

**Ответы**

1. нет
2. G
3. D
4. C
5. C
6. да
7. C
8. A
9. F
10. F

- 6) Новое судно хотело ловить рыбу, но капитан хотел убедиться, что они находятся как минимум в 2 милях от другого корабля. Если бы он проплыл 5 миль к востоку и 8 миль к северу, подойдет ли ему это место?

= Корабль

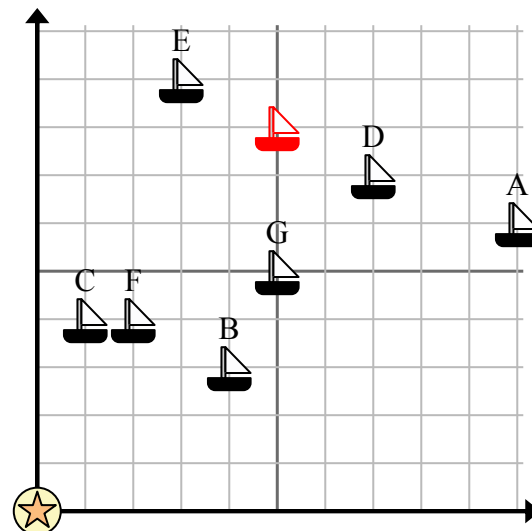
= Буй

= 1 Square Миля

- 7) Какой корабль ближе всего к бую?

- 8) Какой корабль дальше всего от бую?

- 9) Какой корабль дальше south? Отправить G или отправить F?



- 10) Какой корабль находится в 2 милях к востоку и 4 милях к северу от бую?