





Создайте и обозначьте линейный график, используя предоставленный набор чисел.

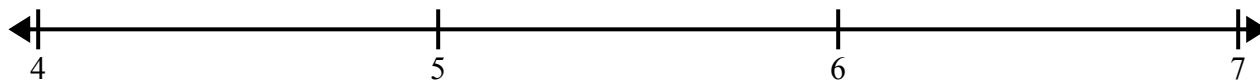
- 1)  $7$     $8\frac{1}{2}$     $8\frac{1}{2}$     $6$     $8$     $6$     $7$     $8\frac{1}{2}$   
 $6$     $7\frac{1}{2}$     $6\frac{1}{2}$     $7\frac{1}{2}$     $6\frac{1}{2}$     $8$     $7\frac{1}{2}$     $6\frac{1}{2}$




- 2)  $7\frac{3}{8}$     $9\frac{1}{8}$     $8\frac{2}{8}$     $8\frac{4}{8}$     $7$     $8\frac{2}{8}$     $8\frac{4}{8}$     $9\frac{7}{8}$   
 $7\frac{5}{8}$     $7$     $8\frac{2}{8}$     $8\frac{4}{8}$     $8\frac{5}{8}$     $8$     $9\frac{5}{8}$     $9\frac{4}{8}$




- 3)  $4\frac{1}{8}$     $5$     $5\frac{4}{8}$     $5$     $6$     $4\frac{7}{8}$     $5\frac{4}{8}$     $6\frac{3}{8}$   
 $5\frac{3}{8}$     $6\frac{3}{8}$     $5\frac{4}{8}$     $5\frac{3}{8}$     $6\frac{4}{8}$     $5\frac{2}{8}$     $6\frac{4}{8}$     $6$



- 4)  $10$     $10$     $8\frac{1}{2}$     $8\frac{1}{2}$     $9$     $9\frac{1}{2}$     $9$     $10\frac{1}{2}$   
 $9\frac{1}{2}$     $8\frac{1}{2}$     $10$     $10\frac{1}{2}$     $9\frac{1}{2}$     $10\frac{1}{2}$     $8$     $9$



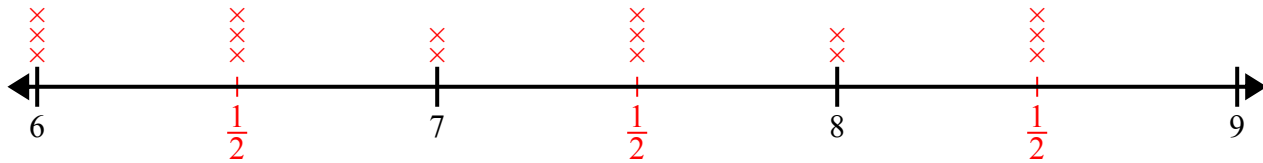
- 5)  $6\frac{3}{4}$     $6\frac{3}{4}$     $6$     $5\frac{1}{4}$     $4\frac{3}{4}$     $5\frac{2}{4}$     $6\frac{2}{4}$     $5\frac{1}{4}$   
 $4\frac{2}{4}$     $4$     $6\frac{1}{4}$     $4\frac{1}{4}$     $6$     $4\frac{2}{4}$     $5$     $4\frac{1}{4}$



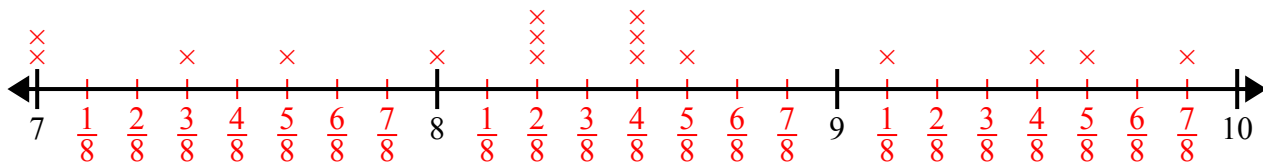


Создайте и обозначьте линейный график, используя предоставленный набор чисел.

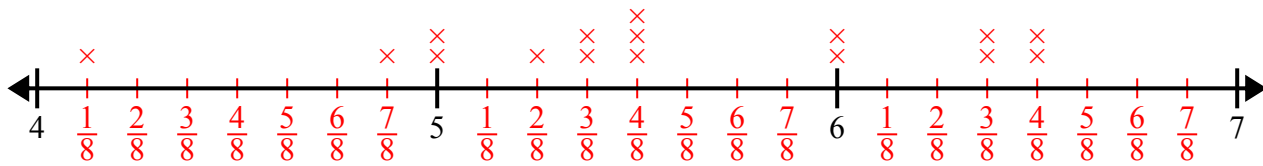
- 1)  $7$     $8\frac{1}{2}$     $8\frac{1}{2}$     $6$     $8$     $6$     $7$     $8\frac{1}{2}$   
 $6$     $7\frac{1}{2}$     $6\frac{1}{2}$     $7\frac{1}{2}$     $6\frac{1}{2}$     $8$     $7\frac{1}{2}$     $6\frac{1}{2}$



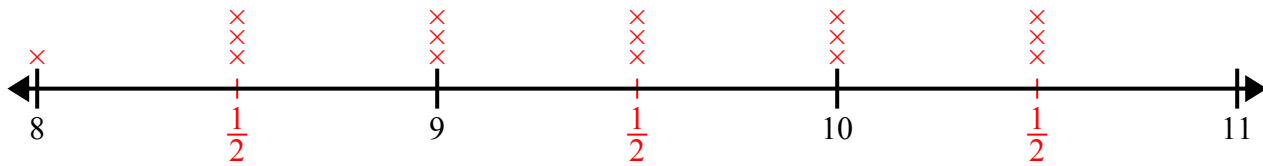
- 2)  $7\frac{3}{8}$     $9\frac{1}{8}$     $8\frac{2}{8}$     $8\frac{4}{8}$     $7$     $8\frac{2}{8}$     $8\frac{4}{8}$     $9\frac{7}{8}$   
 $7\frac{5}{8}$     $7$     $8\frac{2}{8}$     $8\frac{4}{8}$     $8\frac{5}{8}$     $8$     $9\frac{5}{8}$     $9\frac{4}{8}$



- 3)  $4\frac{1}{8}$     $5$     $5\frac{4}{8}$     $5$     $6$     $4\frac{7}{8}$     $5\frac{4}{8}$     $6\frac{3}{8}$   
 $5\frac{3}{8}$     $6\frac{3}{8}$     $5\frac{4}{8}$     $5\frac{3}{8}$     $6\frac{4}{8}$     $5\frac{2}{8}$     $6\frac{4}{8}$     $6$



- 4)  $10$     $10$     $8\frac{1}{2}$     $8\frac{1}{2}$     $9$     $9\frac{1}{2}$     $9$     $10\frac{1}{2}$   
 $9\frac{1}{2}$     $8\frac{1}{2}$     $10$     $10\frac{1}{2}$     $9\frac{1}{2}$     $10\frac{1}{2}$     $8$     $9$



- 5)  $6\frac{3}{4}$     $6\frac{3}{4}$     $6$     $5\frac{1}{4}$     $4\frac{3}{4}$     $5\frac{2}{4}$     $6\frac{2}{4}$     $5\frac{1}{4}$   
 $4\frac{2}{4}$     $4$     $6\frac{1}{4}$     $4\frac{1}{4}$     $6$     $4\frac{2}{4}$     $5$     $4\frac{1}{4}$

