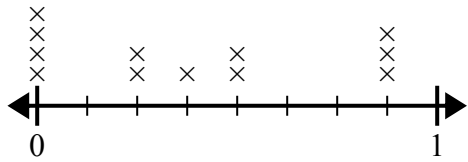




Используйте линейные графики, чтобы ответить на каждый вопрос.

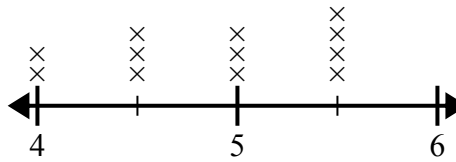
**Отвeты**

- 1) На линейном графике ниже показано количество воды (в галлонах), выпитое учащимися за неделю.



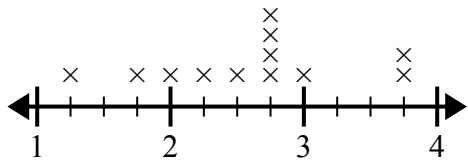
В чем разница между наименьшим количеством воды и наибольшим количеством воды, выпитой учащимися?

- 2) На линейном графике ниже показана высота (в дюймах) телефонов разных производителей.



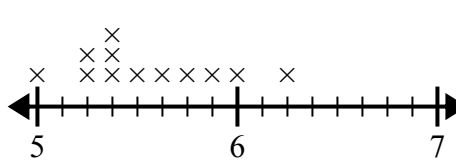
Какая разница в высоте между самым коротким телефоном и самым длинным телефоном?

- 3) Линейный график ниже показывает размер (в дюймах) нескольких разных видов лягушек.



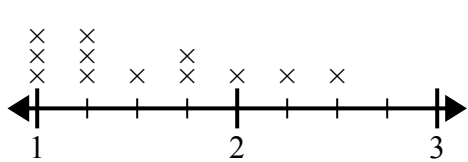
В чем разница в размере между самыми низкими и самыми длинными видами лягушек?

- 4) На линейном графике ниже показано расстояние, на котором учащиеся жили от школы (в милях).



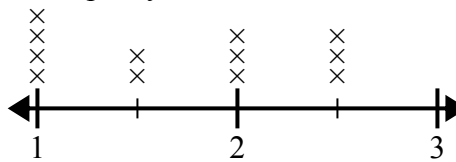
Какая разница в милях между студентами, которые живут ближе всех к другим?

- 5) На линейном графике ниже показано расстояние (в милях), которое проходит ? за день.



Какая разница в расстоянии между наименьшим количеством миль, которые она прошла за день, и наибольшим количеством миль, которые она прошла за день?

- 6) Линейный график ниже показывает длину (в футах) волос девочек в классе мистера Вуда.



Какая разница в длине у девушек с самыми короткими и самыми длинными волосами?

1. \_\_\_\_\_

2. \_\_\_\_\_

3. \_\_\_\_\_

4. \_\_\_\_\_

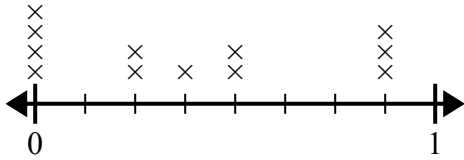
5. \_\_\_\_\_

6. \_\_\_\_\_



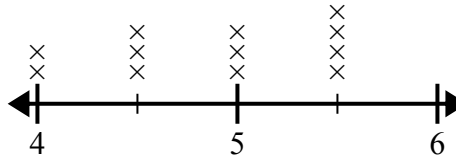
Используйте линейные графики, чтобы ответить на каждый вопрос.

- 1) На линейном графике ниже показано количество воды (в галлонах), выпитое учащимися за неделю.



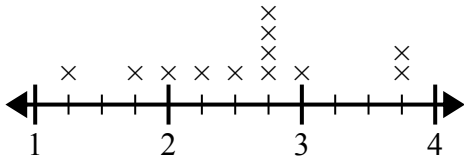
В чем разница между наименьшим количеством воды и наибольшим количеством воды, выпитой учащимися?

- 2) На линейном графике ниже показана высота (в дюймах) телефонов разных производителей.



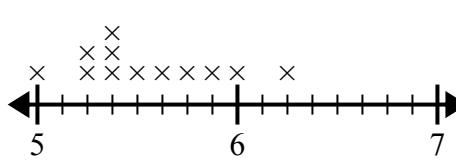
Какая разница в высоте между самым коротким телефоном и самым длинным телефоном?

- 3) Линейный график ниже показывает размер (в дюймах) нескольких разных видов лягушек.



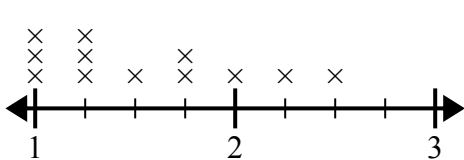
В чем разница в размере между самыми низкими и самыми длинными видами лягушек?

- 4) На линейном графике ниже показано расстояние, на котором учащиеся жили от школы (в милях).



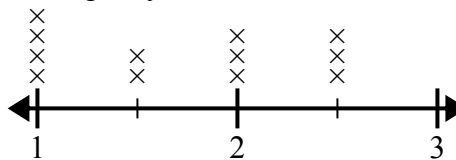
Какая разница в милях между студентами, которые живут ближе всех к другим?

- 5) На линейном графике ниже показано расстояние (в милях), которое проходит ? за день.



Какая разница в расстоянии между наименьшим количеством миль, которые она прошла за день, и наибольшим количеством миль, которые она прошла за день?

- 6) Линейный график ниже показывает длину (в футах) волос девочек в классе мистера Вуда.



Какая разница в длине у девушек с самыми короткими и самыми длинными волосами?

**Ответы**

1. 7/8
2. 1 1/2
3. 2 2/4
4. 1 2/8
5. 1 2/4
6. 1 1/2