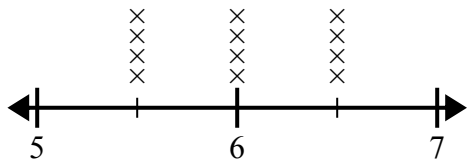




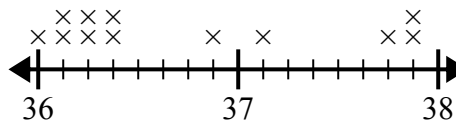
Используйте линейные графики, чтобы ответить на каждый вопрос.

- 1) На линейном графике ниже показано расстояние, на котором учащиеся жили от школы (в милях).



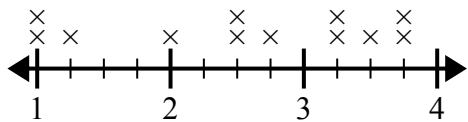
Какая разница в милях между студентами, которые живут ближе всех к другим?

- 2) На линейном графике ниже показан рост разных учеников (в дюймах).



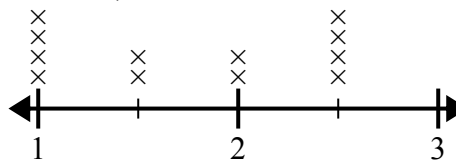
Какая разница в дюймах между самыми высокими и самыми низкими учениками?

- 3) Линейный график ниже показывает размер (в дюймах) нескольких разных видов лягушек.



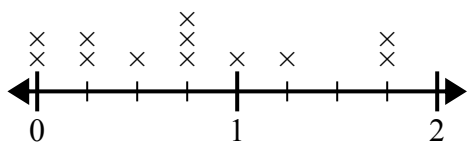
В чем разница в размере между самыми низкими и самыми длинными видами лягушек?

- 4) На линейном графике ниже показаны размеры различных насекомых (в дюймах).



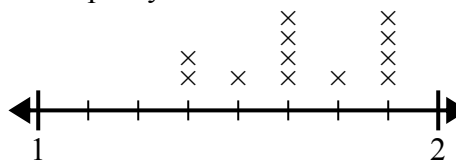
Какая разница в размерах между самым коротким и самым длинным насекомым?

- 5) На линейном графике ниже показано количество воды (в галлонах), выпитое учащимися за неделю.



В чем разница между наименьшим количеством воды и наибольшим количеством воды, выпитой учащимися?

- 6) Линейный график ниже показывает длину (в футах) волос девочек в классе мистера Вуда.



Какая разница в длине у девушек с самыми короткими и самыми длинными волосами?

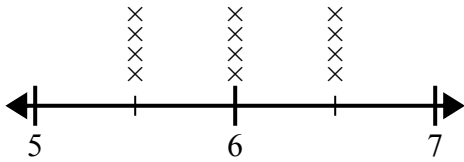
Ответы

1. _____
2. _____
3. _____
4. _____
5. _____
6. _____



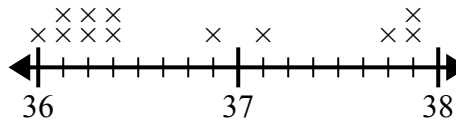
Используйте линейные графики, чтобы ответить на каждый вопрос.

- 1) На линейном графике ниже показано расстояние, на котором учащиеся жили от школы (в милях).



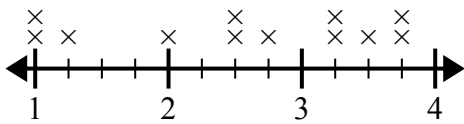
Какая разница в милях между студентами, которые живут ближе всех к другим?

- 2) На линейном графике ниже показан рост разных учеников (в дюймах).



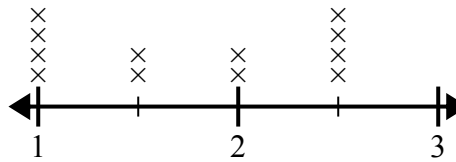
Какая разница в дюймах между самыми высокими и самыми низкими учениками?

- 3) Линейный график ниже показывает размер (в дюймах) нескольких разных видов лягушек.



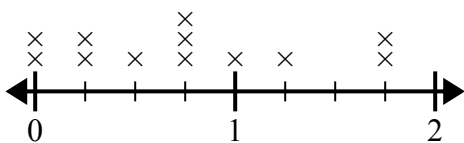
В чем разница в размере между самыми низкими и самыми длинными видами лягушек?

- 4) На линейном графике ниже показаны размеры различных насекомых (в дюймах).



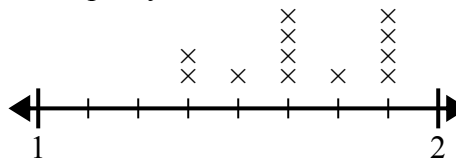
Какая разница в размерах между самым коротким и самым длинным насекомым?

- 5) На линейном графике ниже показано количество воды (в галлонах), выпитое учащимися за неделю.



В чем разница между наименьшим количеством воды и наибольшим количеством воды, выпитой учащимися?

- 6) Линейный график ниже показывает длину (в футах) волос девочек в классе мистера Вуда.



Какая разница в длине у девушек с самыми короткими и самыми длинными волосами?

Ответы

1. $1\frac{0}{2}$
2. $1\frac{7}{8}$
3. $2\frac{3}{4}$
4. $1\frac{1}{2}$
5. $1\frac{3}{4}$
6. $\frac{4}{8}$