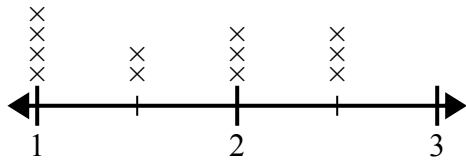




Используйте линейные графики, чтобы ответить на каждый вопрос.

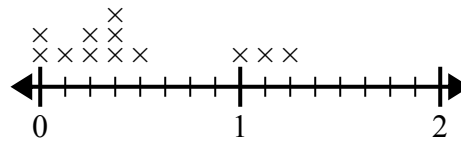
Ответы

- 1) На линейном графике ниже показаны размеры различных насекомых (в дюймах).



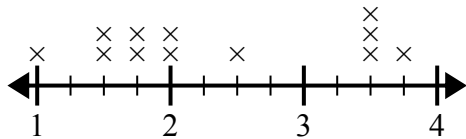
Какая разница в размерах между самым коротким и самым длинным насекомым?

- 2) На линейном графике ниже показано количество воды (в галлонах), выпитое учащимися за неделю.



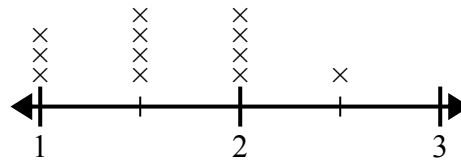
В чем разница между наименьшим количеством воды и наибольшим количеством воды, выпитой учащимися?

- 3) Линейный график ниже показывает длину (в футах) волос девочек в классе мистера Вуда.



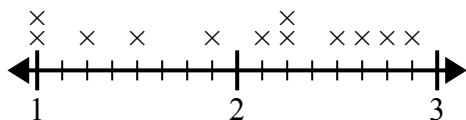
Какая разница в длине у девушек с самыми короткими и самыми длинными волосами?

- 4) На линейном графике ниже показано расстояние (в милях), которое проходит ? за день.



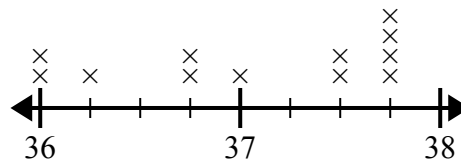
Какая разница в расстоянии между наименьшим количеством миль, которые она прошла за день, и наибольшим количеством миль, которые она прошла за день?

- 5) Линейный график ниже показывает размер (в дюймах) нескольких разных видов лягушек.



В чем разница в размере между самыми низкими и самыми длинными видами лягушек?

- 6) На линейном графике ниже показан рост разных учеников (в дюймах).



Какая разница в дюймах между самыми высокими и самыми низкими учениками?

1. \_\_\_\_\_

2. \_\_\_\_\_

3. \_\_\_\_\_

4. \_\_\_\_\_

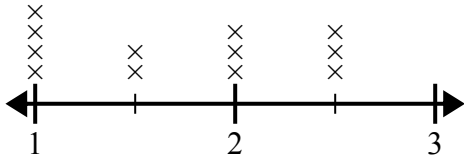
5. \_\_\_\_\_

6. \_\_\_\_\_



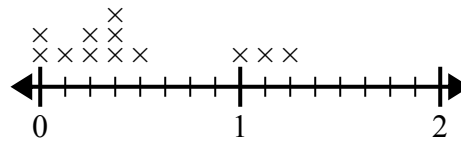
Используйте линейные графики, чтобы ответить на каждый вопрос.

- 1) На линейном графике ниже показаны размеры различных насекомых (в дюймах).



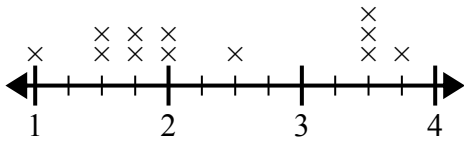
Какая разница в размерах между самым коротким и самым длинным насекомым?

- 2) На линейном графике ниже показано количество воды (в галлонах), выпитое учащимися за неделю.



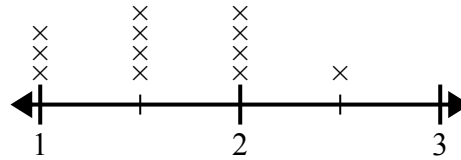
В чем разница между наименьшим количеством воды и наибольшим количеством воды, выпитой учащимися?

- 3) Линейный график ниже показывает длину (в футах) волос девочек в классе мистера Вуда.



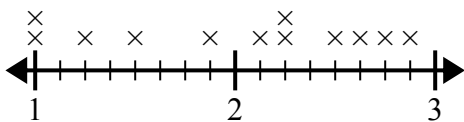
Какая разница в длине у девушек с самыми короткими и самыми длинными волосами?

- 4) На линейном графике ниже показано расстояние (в милях), которое проходит ? за день.



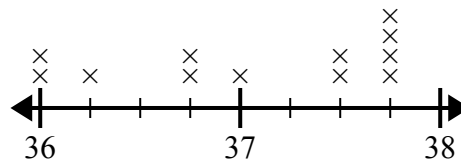
Какая разница в расстоянии между наименьшим количеством миль, которые она прошла за день, и наибольшим количеством миль, которые она прошла за день?

- 5) Линейный график ниже показывает размер (в дюймах) нескольких разных видов лягушек.



В чем разница в размере между самыми низкими и самыми длинными видами лягушек?

- 6) На линейном графике ниже показан рост разных учеников (в дюймах).



Какая разница в дюймах между самыми высокими и самыми низкими учениками?

**Ответы**1.  $1\frac{1}{2}$ 2.  $1\frac{2}{8}$ 3.  $2\frac{3}{4}$ 4.  $1\frac{1}{2}$ 5.  $1\frac{7}{8}$ 6.  $1\frac{3}{4}$