




Измерьте каждую фигуру и затем сформируйте график, основанный на данной информации.







Ответы

- 1. _____
- 2. _____
- 3. _____
- 4. _____
- 5. _____
- 6. _____
- 7. _____
- 8. _____
- 9. _____
- 10. _____
- 11. _____
- 12. _____
- 13. _____
- 14. _____
- 15. _____

Line Plot



Измерьте каждую фигуру и затем сформируйте график, основанный на данной информации.



Ответы

1. 6

2. 6

3. 9

4. 6

5. 6

6. 6

7. 6

8. 9

9. 9

10. 9

11. 6

12. 6

13. 2

14. 9

15. 3

Line Plot

