




Измерьте каждую фигуру и затем сформируйте график, основанный на данной информации.


Ответы



1. _____



2. _____



3. _____



4. _____



5. _____



6. _____



7. _____



8. _____



9. _____



10. _____



11. _____



12. _____



13. _____



14. _____

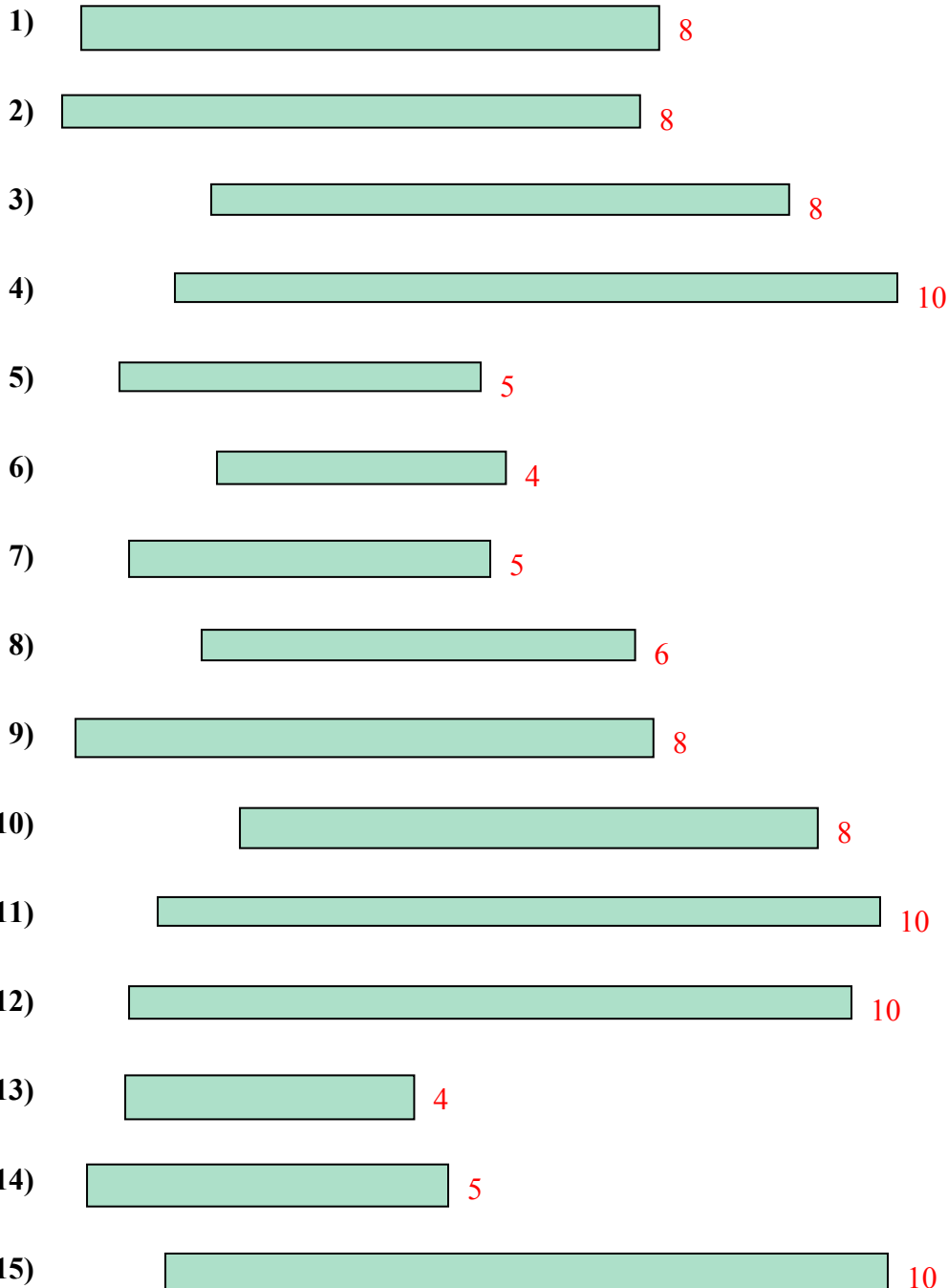


15. _____

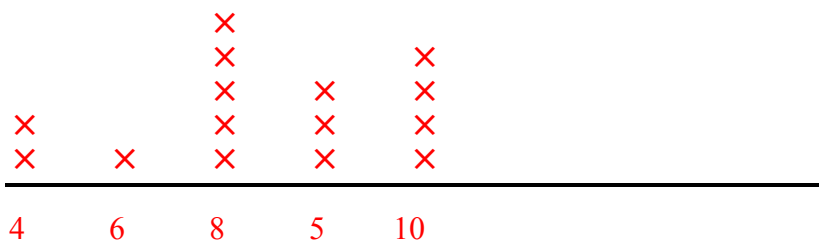
Line Plot



Измерьте каждую фигуру и затем сформируйте график, основанный на данной информации.



Line Plot

Ответы

1. 8
2. 8
3. 8
4. 10
5. 5
6. 4
7. 5
8. 6
9. 8
10. 8
11. 10
12. 10
13. 4
14. 5
15. 10