



Измерьте каждую фигуру и затем сформируйте график, основанный на данной информации.

ОТВЕТЫ




1. _____



2. _____



3. _____




4. _____



5. _____



6. _____



7. _____



8. _____



9. _____



10. _____



11. _____



12. _____



13. _____



14. _____









15. _____

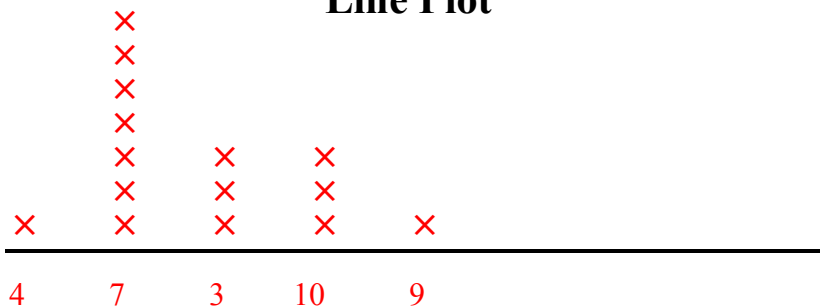
Line Plot



Измерьте каждую фигуру и затем сформируйте график, основанный на данной информации.



Line Plot



Ответы

1. 3

2. 7

3. 7

4. 4

5. 7

6. 7

7. 3

8. 10

9. 7

10. 7

11. 7

12. 10

13. 9

14. 3

15. 10