

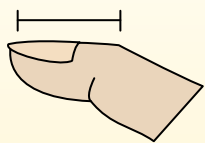


Определите, ответ под какой буквой отражает длину/ высоту.

ОТВЕТЫ

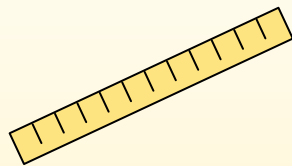
Polegadas (in)

Una pulgada es aproximadamente la distancia de la última articulación de su dedo.



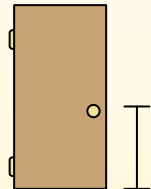
Pie (pies)

Um pé mede 12 polegadas. O comprimento de uma régua.



Jarda (jd)

1 jarda é o mesmo que 3 pés. Do chão até a maçaneta da porta são cerca de 1 jarda.



Milla (mi)

Uma milha equivale a 5.280 pés. A maioria das estradas principais tem pelo menos uma milha de comprimento.




1. _____
2. _____
3. _____
4. _____
5. _____
6. _____
7. _____
8. _____
9. _____

1)

DVD

- A. 4 дюймов
- B. 1 ярд
- C. 12 дюймов
- D. 1 фут


2)



Гора

- A. 10 ярдов
- B. 2 миль
- C. 300 дюймов
- D. 20 футов

3)



Кусок хлеба

- A. 4 футов
- B. 2 ярдов
- C. 4 дюймов
- D. 10 дюймов

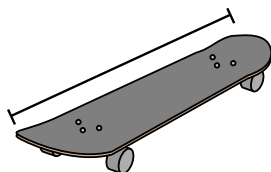
4)



Велосипед

- A. 3 ярдов
- B. 10 дюймов
- C. 3 дюймов
- D. 1 ярд

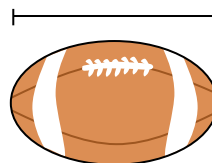
5)



Доска для скейтборда

- A. 30 дюймов
- B. 1 дюйм
- C. 2 ярдов
- D. 12 дюймов

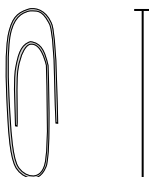
6)



Мяч для рэгби

- A. 1 ярд
- B. 11 дюймов
- C. 1 дюйм
- D. 2 футов

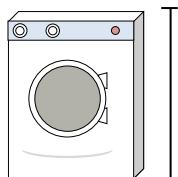
7)



Скрепка

- A. 1 дюйм
- B. 2 футов
- C. 1 фут
- D. 4 дюймов

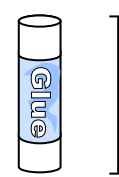
8)



Стиральная машина

- A. 1 фут
- B. 3 футов
- C. 2 ярдов
- D. 4 дюймов

9)



Клеющий карандаш

- A. 3 дюймов
- B. 1 фут
- C. 10 дюймов
- D. 4 миль



Определите, ответ под какой буквой отражает длину/ высоту.

ОТВЕТЫ

Polegadas (in)	Pie (pies)	Jarda (jd)	Milla (mi)
Una pulgada es aproximadamente la distancia de la última articulación de su dedo.	Um pé mede 12 polegadas. O comprimento de uma régua.	1 jarda é o mesmo que 3 pés. Do chão até a maçaneta da porta são cerca de 1 jarda.	Uma milha equivale a 5.280 pés. A maioria das estradas principais tem pelo menos uma milha de comprimento.


1. A
2. B
3. C
4. D
5. A
6. B
7. A
8. B
9. A

1)

DVD

- A. 4 дюймов
- B. 1 ярд
- C. 12 дюймов
- D. 1 фут


2)



Гора

- A. 10 ярдов
- B. 2 миль
- C. 300 дюймов
- D. 20 футов

3)



Кусок хлеба

- A. 4 футов
- B. 2 ярдов
- C. 4 дюймов
- D. 10 дюймов

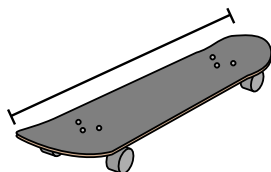
4)



Велосипед

- A. 3 ярдов
- B. 10 дюймов
- C. 3 дюймов
- D. 1 ярд

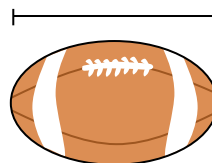
5)



Доска для скейтборда

- A. 30 дюймов
- B. 1 дюйм
- C. 2 ярдов
- D. 12 дюймов

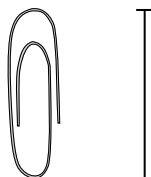
6)



Мяч для рэгби

- A. 1 ярд
- B. 11 дюймов
- C. 1 дюйм
- D. 2 футов

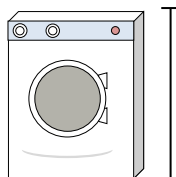
7)



Скрепка

- A. 1 дюйм
- B. 2 футов
- C. 1 фут
- D. 4 дюймов

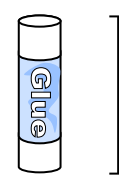
8)



Стиральная машина

- A. 1 фут
- B. 3 футов
- C. 2 ярдов
- D. 4 дюймов

9)



Клеющий карандаш

- A. 3 дюймов
- B. 1 фут
- C. 10 дюймов
- D. 4 миль