

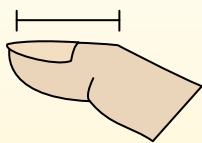


Определите, ответ под какой буквой отражает длину/ высоту.

ОТВЕТЫ

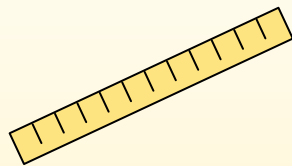
Polegadas (in)

Una pulgada es aproximadamente la distancia de la última articulación de su dedo.



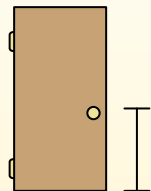
Pie (pies)

Um pé mede 12 polegadas. O comprimento de uma régua.



Jarda (jd)

1 jarda é o mesmo que 3 pés. Do chão até a maçaneta da porta são cerca de 1 jarda.




Milla (mi)

Uma milha equivale a 5.280 pés. A maioria das estradas principais tem pelo menos uma milha de comprimento.



1. _____
2. _____
3. _____
4. _____
5. _____
6. _____
7. _____
8. _____
9. _____

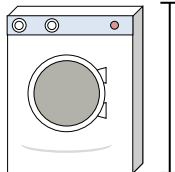
1)



Банка с горошком

- A. 1 миля
- B. 2 ярдов
- C. 4 дюймов
- D. 4 футов

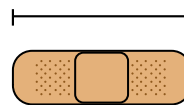
2)



Стиральная машина

- A. 1 фут
- B. 4 дюймов
- C. 2 ярдов
- D. 3 футов


3)



Пластырь

- A. 2 футов
- B. 2 миль
- C. 3 дюймов
- D. 1 ярд


4)



Гора

- A. 10 ярдов
- B. 20 футов
- C. 2 миль
- D. 300 дюймов


5)



Кусок хлеба

- A. 4 дюймов
- B. 4 футов
- C. 2 ярдов
- D. 10 дюймов

6)



Слон


- A. 5 футов
- B. 4 ярдов
- C. 1 миля
- D. 18 дюймов

7)

Собака

- A. 4 ярдов
- B. 2 футов
- C. 2 ярдов
- D. 4 дюймов

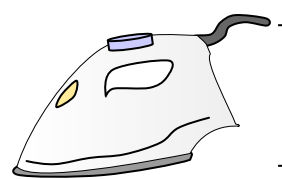
8)



Тетрадный листок

- A. 11 дюймов
- B. 2 футов
- C. 6 дюймов
- D. 1 ярд

9)



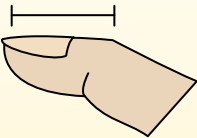
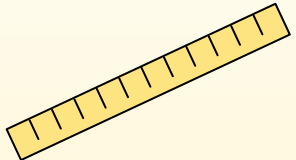
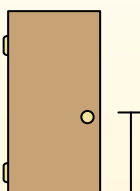

Утюг


- A. 8 футов
- B. 2 футов
- C. 15 дюймов
- D. 6 дюймов



Определите, ответ под какой буквой отражает длину/ высоту.

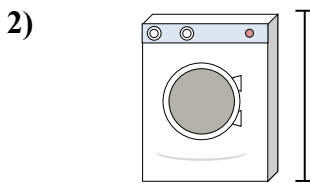
ОТВЕТЫ

Polegadas (in)	Pie (pies)	Jarda (jd)	Milla (mi)
Una pulgada es aproximadamente la distancia de la última articulación de su dedo.	Um pé mede 12 polegadas. O comprimento de uma régua.	1 jarda é o mesmo que 3 pés. Do chão até a maçaneta da porta são cerca de 1 jarda.	Uma milha equivale a 5.280 pés. A maioria das estradas principais tem pelo menos uma milha de comprimento.
			



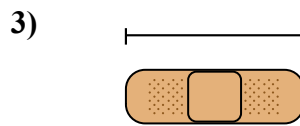
Банка с горошком

- A. 1 миля
- B. 2 ярдов
- C. 4 дюймов
- D. 4 футов




Стиральная машина

- A. 1 фут
- B. 4 дюймов
- C. 2 ярдов
- D. 3 футов




Пластырь

- A. 2 футов
- B. 2 миль
- C. 3 дюймов
- D. 1 ярд




Гора

- A. 10 ярдов
- B. 20 футов
- C. 2 миль
- D. 300 дюймов




Кусок хлеба

- A. 4 дюймов
- B. 4 футов
- C. 2 ярдов
- D. 10 дюймов




Слон

- A. 5 футов
- B. 4 ярдов
- C. 1 миля
- D. 18 дюймов



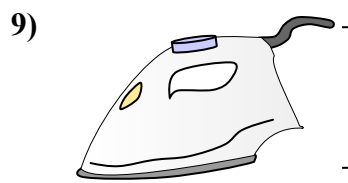
Собака

- A. 4 ярдов
- B. 2 футов
- C. 2 ярдов
- D. 4 дюймов



Тетрадный листок

- A. 11 дюймов
- B. 2 футов
- C. 6 дюймов
- D. 1 ярд



Утюг

- A. 8 футов
- B. 2 футов
- C. 15 дюймов
- D. 6 дюймов

- 1. C
- 2. D
- 3. C
- 4. C
- 5. A
- 6. B
- 7. B
- 8. A
- 9. D