

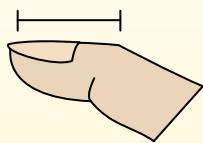


Определите, ответ под какой буквой отражает длину/ высоту.

**ОТВЕТЫ**

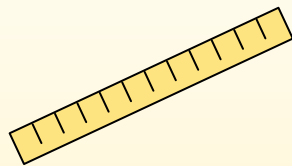
**Polegadas (in)**

Una pulgada es aproximadamente la distancia de la última articulación de su dedo.



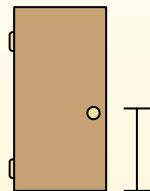
**Pie (pies)**

Um pé mede 12 polegadas. O comprimento de uma régua.



**Jarda (jd)**

1 jarda é o mesmo que 3 pés. Do chão até a maçaneta da porta são cerca de 1 jarda.



**Milla (mi)**

Uma milha equivale a 5.280 pés. A maioria das estradas principais tem pelo menos uma milha de comprimento.



1. \_\_\_\_\_
2. \_\_\_\_\_
3. \_\_\_\_\_
4. \_\_\_\_\_
5. \_\_\_\_\_
6. \_\_\_\_\_
7. \_\_\_\_\_
8. \_\_\_\_\_
9. \_\_\_\_\_


1)



Поп-корн

- A. 1 дюйм
- B. 3 футов
- C. 1 миля
- D. 7 дюймов

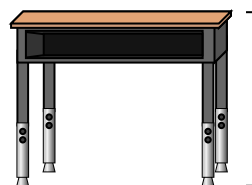
2)



Леденец

- A. 1 миля
- B. 1 фут
- C. 5 дюймов
- D. 3 дюймов


3)



Парта

- A. 2 ярдов
- B. 2 футов
- C. 11 дюймов
- D. 6 дюймов

4)



Колесо обозрения

- A. 6 ярдов
- B. 1 миля
- C. 75 футов
- D. 100 дюймов


5)



Зубная щетка

- A. 10 футов
- B. 1 ярд
- C. 7 дюймов
- D. 4 дюймов

6)



Банка газировки

- A. 1 ярд
- B. 4 дюймов
- C. 1 фут
- D. 1 дюйм

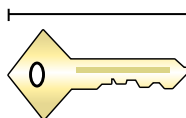
7)



Лягушка

- A. 2 футов
- B. 1 фут
- C. 3 дюймов
- D. 9 дюймов

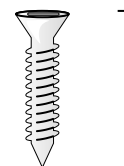
8)



Ключ

- A. 5 футов
- B. 2 дюймов
- C. 6 дюймов
- D. 2 ярдов

9)



Болт

- A. 1 ярд
- B. 10 дюймов
- C. 8 дюймов
- D. 1 дюйм




Определите, ответ под какой буквой отражает длину/ высоту.

**ОТВЕТЫ**

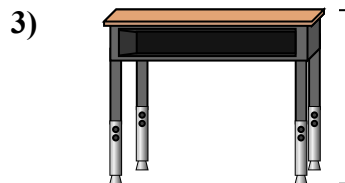
Polegadas (in)	Pie (pies)	Jarda (jd)	Milla (mi)
Una pulgada es aproximadamente la distancia de la última articulación de su dedo.	Um pé mede 12 polegadas. O comprimento de uma régua.	1 jarda é o mesmo que 3 pés. Do chão até a maçaneta da porta são cerca de 1 jarda.	Uma milha equivale a 5.280 pés. A maioria das estradas principais tem pelo menos uma milha de comprimento.




- Поп-корн  
 A. 1 дюйм  
 B. 3 футов  
 C. 1 миля  
 D. 7 дюймов




- Леденец  
 A. 1 миля  
 B. 1 фут  
 C. 5 дюймов  
 D. 3 дюймов




- Парта  
 A. 2 ярдов  
 B. 2 футов  
 C. 11 дюймов  
 D. 6 дюймов




- Колесо обозрения  
 A. 6 ярдов  
 B. 1 миля  
 C. 75 футов  
 D. 100 дюймов



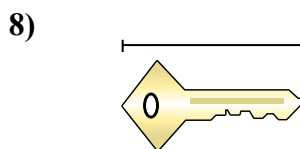
- Зубная щетка  
 A. 10 футов  
 B. 1 ярд  
 C. 7 дюймов  
 D. 4 дюймов



- Банка газировки  
 A. 1 ярд  
 B. 4 дюймов  
 C. 1 фут  
 D. 1 дюйм



- Лягушка  
 A. 2 футов  
 B. 1 фут  
 C. 3 дюймов  
 D. 9 дюймов



- Ключ  
 A. 5 футов  
 B. 2 дюймов  
 C. 6 дюймов  
 D. 2 ярдов



- Болт  
 A. 1 ярд  
 B. 10 дюймов  
 C. 8 дюймов  
 D. 1 дюйм

1. A
2. C
3. B
4. C
5. C
6. B
7. C
8. B
9. D

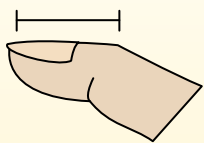


Определите, ответ под какой буквой отражает длину/ высоту.

**ОТВЕТЫ**

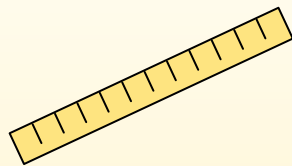
**Polegadas (in)**

Una pulgada es aproximadamente la distancia de la última articulación de su dedo.



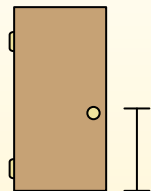
**Pie (pies)**

Um pé mede 12 polegadas. O comprimento de uma régua.



**Jarda (jd)**

1 jarda é o mesmo que 3 pés. Do chão até a maçaneta da porta são cerca de 1 jarda.




**Milla (mi)**

Uma milha equivale a 5.280 pés. A maioria das estradas principais tem pelo menos uma milha de comprimento.



1. \_\_\_\_\_
2. \_\_\_\_\_
3. \_\_\_\_\_
4. \_\_\_\_\_
5. \_\_\_\_\_
6. \_\_\_\_\_
7. \_\_\_\_\_
8. \_\_\_\_\_
9. \_\_\_\_\_

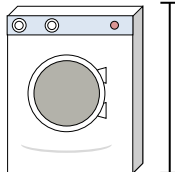
1)



Банка с горошком

- A. 1 миля
- B. 2 ярдов
- C. 4 дюймов
- D. 4 футов

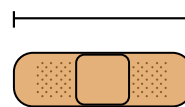
2)



Стиральная машина

- A. 1 фут
- B. 4 дюймов
- C. 2 ярдов
- D. 3 футов


3)



Пластырь

- A. 2 футов
- B. 2 миль
- C. 3 дюймов
- D. 1 ярд


4)



Гора

- A. 10 ярдов
- B. 20 футов
- C. 2 миль
- D. 300 дюймов


5)



Кусок хлеба

- A. 4 дюймов
- B. 4 футов
- C. 2 ярдов
- D. 10 дюймов

6)



Слон


- A. 5 футов
- B. 4 ярдов
- C. 1 миля
- D. 18 дюймов

7)

Собака

- A. 4 ярдов
- B. 2 футов
- C. 2 ярдов
- D. 4 дюймов

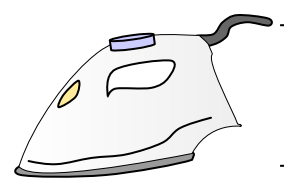
8)



Тетрадный листок

- A. 11 дюймов
- B. 2 футов
- C. 6 дюймов
- D. 1 ярд

9)



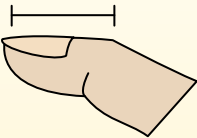
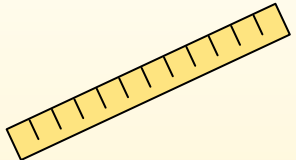
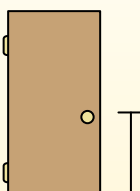

Утюг


- A. 8 футов
- B. 2 футов
- C. 15 дюймов
- D. 6 дюймов



Определите, ответ под какой буквой отражает длину/ высоту.

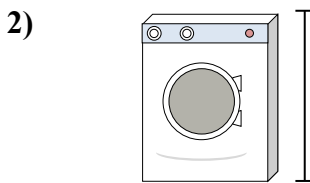
**ОТВЕТЫ**

Polegadas (in)	Pie (pies)	Jarda (jd)	Milla (mi)
Una pulgada es aproximadamente la distancia de la última articulación de su dedo.	Um pé mede 12 polegadas. O comprimento de uma régua.	1 jarda é o mesmo que 3 pés. Do chão até a maçaneta da porta são cerca de 1 jarda.	Uma milha equivale a 5.280 pés. A maioria das estradas principais tem pelo menos uma milha de comprimento.
			



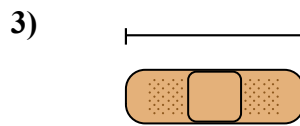
Банка с горошком

- A. 1 миля
- B. 2 ярдов
- C. 4 дюймов
- D. 4 футов




Стиральная машина

- A. 1 фут
- B. 4 дюймов
- C. 2 ярдов
- D. 3 футов




Пластырь

- A. 2 футов
- B. 2 миль
- C. 3 дюймов
- D. 1 ярд




Гора

- A. 10 ярдов
- B. 20 футов
- C. 2 миль
- D. 300 дюймов




Кусок хлеба

- A. 4 дюймов
- B. 4 футов
- C. 2 ярдов
- D. 10 дюймов




Слон

- A. 5 футов
- B. 4 ярдов
- C. 1 миля
- D. 18 дюймов



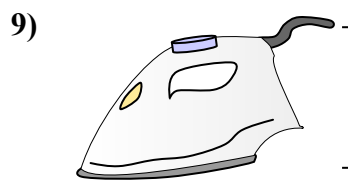
Собака

- A. 4 ярдов
- B. 2 футов
- C. 2 ярдов
- D. 4 дюймов



Тетрадный листок

- A. 11 дюймов
- B. 2 футов
- C. 6 дюймов
- D. 1 ярд



Утюг

- A. 8 футов
- B. 2 футов
- C. 15 дюймов
- D. 6 дюймов

- 1. C
- 2. D
- 3. C
- 4. C
- 5. A
- 6. B
- 7. B
- 8. A
- 9. D

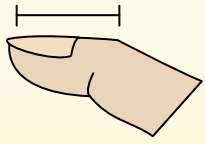


Определите, ответ под какой буквой отражает длину/ высоту.

**ОТВЕТЫ**

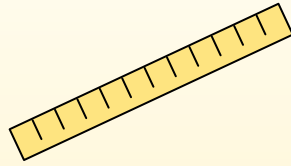
**Polegadas (in)**

Una pulgada es aproximadamente la distancia de la última articulación de su dedo.



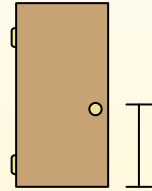
**Pie (pies)**

Um pé mede 12 polegadas. O comprimento de uma régua.



**Jarda (jd)**

1 jarda é o mesmo que 3 pés. Do chão até a maçaneta da porta são cerca de 1 jarda.

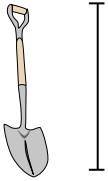


**Milla (mi)**

Uma milha equivale a 5.280 pés. A maioria das estradas principais tem pelo menos uma milha de comprimento.



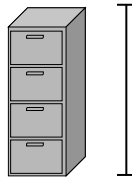
1)



Лопата

- A. 4 футов
- B. 2 футов
- C. 3 ярдов
- D. 11 дюймов


2)



Ящик для папок

- A. 11 дюймов
- B. 2 футов
- C. 5 футов
- D. 1 фут


3)



Гора

- A. 10 ярдов
- B. 2 миль
- C. 20 футов
- D. 300 дюймов

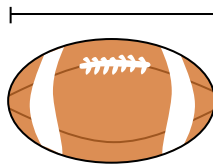
4)



Тетрадный листок

- A. 2 футов
- B. 11 дюймов
- C. 6 дюймов
- D. 1 ярд

5)



Мяч для рэгби

- A. 11 дюймов
- B. 1 дюйм
- C. 2 футов
- D. 1 ярд


6)



Ручка

- A. 5 дюймов
- B. 1 фут
- C. 12 дюймов
- D. 5 ярдов

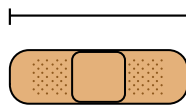
7)



Молоток

- A. 16 дюймов
- B. 1 дюйм
- C. 4 дюймов
- D. 1 ярд

8)



Пластырь

- A. 3 дюймов
- B. 1 ярд
- C. 2 футов
- D. 2 миль

9)



Поп-корн

- A. 1 дюйм
- B. 1 миля
- C. 7 дюймов
- D. 3 футов


1. \_\_\_\_\_
2. \_\_\_\_\_
3. \_\_\_\_\_
4. \_\_\_\_\_
5. \_\_\_\_\_
6. \_\_\_\_\_
7. \_\_\_\_\_
8. \_\_\_\_\_
9. \_\_\_\_\_



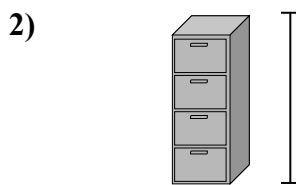
Определите, ответ под какой буквой отражает длину/ высоту.

**ОТВЕТЫ**


Polegadas (in)	Pie (pies)	Jarda (jd)	Milla (mi)
Una pulgada es aproximadamente la distancia de la última articulación de su dedo.	Um pé mede 12 polegadas. O comprimento de uma régua.	1 jarda é o mesmo que 3 pés. Do chão até a maçaneta da porta são cerca de 1 jarda.	Uma milha equivale a 5.280 pés. A maioria das estradas principais tem pelo menos uma milha de comprimento.




- Лопата  
 A. 4 футов  
 B. 2 футов  
 C. 3 ярдов  
 D. 11 дюймов



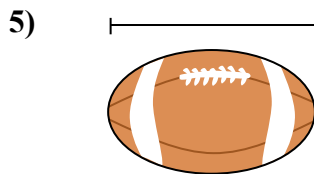
- Ящик для папок  
 A. 11 дюймов  
 B. 2 футов  
 C. 5 футов  
 D. 1 фут



- Гора  
 A. 10 ярдов  
 B. 2 миль  
 C. 20 футов  
 D. 300 дюймов




- Тетрадный листок  
 A. 2 футов  
 B. 11 дюймов  
 C. 6 дюймов  
 D. 1 ярд



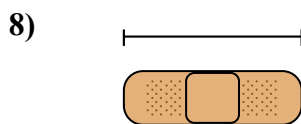
- Мяч для рэгби  
 A. 11 дюймов  
 B. 1 дюйм  
 C. 2 футов  
 D. 1 ярд



- Ручка  
 A. 5 дюймов  
 B. 1 фут  
 C. 12 дюймов  
 D. 5 ярдов



- Молоток  
 A. 16 дюймов  
 B. 1 дюйм  
 C. 4 дюймов  
 D. 1 ярд



- Пластырь  
 A. 3 дюймов  
 B. 1 ярд  
 C. 2 футов  
 D. 2 миль



- Поп-корн  
 A. 1 дюйм  
 B. 1 миля  
 C. 7 дюймов  
 D. 3 футов

1.     A
2.     C
3.     B
4.     B
5.     A
6.     A
7.     A
8.     A
9.     A

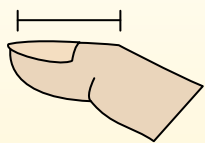


Определите, ответ под какой буквой отражает длину/ высоту.

**ОТВЕТЫ**

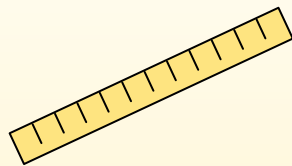
**Polegadas (in)**

Una pulgada es aproximadamente la distancia de la última articulación de su dedo.



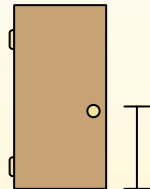
**Pie (pies)**

Um pé mede 12 polegadas. O comprimento de uma régua.



**Jarda (jd)**

1 jarda é o mesmo que 3 pés. Do chão até a maçaneta da porta são cerca de 1 jarda.




**Milla (mi)**

Uma milha equivale a 5.280 pés. A maioria das estradas principais tem pelo menos uma milha de comprimento.



1. \_\_\_\_\_
2. \_\_\_\_\_
3. \_\_\_\_\_
4. \_\_\_\_\_
5. \_\_\_\_\_
6. \_\_\_\_\_
7. \_\_\_\_\_
8. \_\_\_\_\_
9. \_\_\_\_\_

1)



Тетрадный листок

- A. 1 ярд
- B. 6 дюймов
- C. 2 футов
- D. 11 дюймов


2)



Фляга с молоком

- A. 11 футов
- B. 9 дюймов
- C. 6 дюймов
- D. 3 дюймов

3)



Стиральная машина

- A. 4 дюймов
- B. 1 фут
- C. 3 футов
- D. 2 ярдов


4)



Клеющий карандаш

- A. 1 фут
- B. 3 дюймов
- C. 4 миль
- D. 10 дюймов

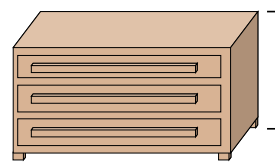
5)



Слон

- A. 18 дюймов
- B. 4 ярдов
- C. 5 футов
- D. 1 миля

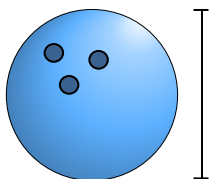
6)



Комод

- A. 18 дюймов
- B. 12 дюймов
- C. 3 футов
- D. 3 ярдов

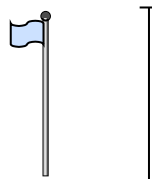
7)



Высота шара для боулинга

- A. 4 дюймов
- B. 1 ярд
- C. 10 дюймов
- D. 10 футов

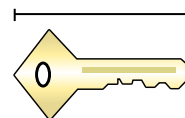
8)



Столб для флага

- A. 1 миля
- B. 10 ярдов
- C. 12 дюймов
- D. 5 футов

9)



Ключ

- A. 5 футов
- B. 2 дюймов
- C. 6 дюймов
- D. 2 ярдов

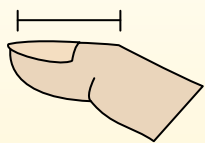


Определите, ответ под какой буквой отражает длину/ высоту.

**ОТВЕТЫ**

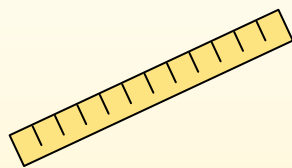
**Polegadas (in)**

Una pulgada es aproximadamente la distancia de la última articulación de su dedo.



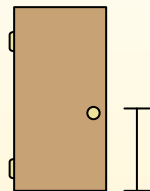
**Pie (pies)**

Um pé mede 12 polegadas. O comprimento de uma régua.



**Jarda (jd)**

1 jarda é o mesmo que 3 pés. Do chão até a maçaneta da porta são cerca de 1 jarda.



**Milla (mi)**

Uma milha equivale a 5.280 pés. A maioria das estradas principais tem pelo menos uma milha de comprimento.




1. D

2. B

3. C


4. B

5. B



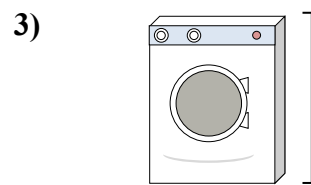
Тетрадный листок

- A. 1 ярд
- B. 6 дюймов
- C. 2 футов
- D. 11 дюймов



Фляга с молоком

- A. 11 футов
- B. 9 дюймов
- C. 6 дюймов
- D. 3 дюймов



Стиральная машина

- A. 4 дюймов
- B. 1 фут
- C. 3 футов
- D. 2 ярдов


6. C

7. C



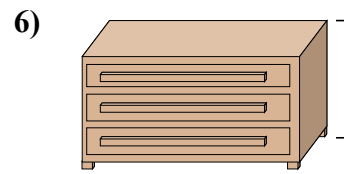
Клеющий карандаш

- A. 1 фут
- B. 3 дюймов
- C. 4 миль
- D. 10 дюймов



Слон

- A. 18 дюймов
- B. 4 ярдов
- C. 5 футов
- D. 1 миля




Комод

- A. 18 дюймов
- B. 12 дюймов
- C. 3 футов
- D. 3 ярдов

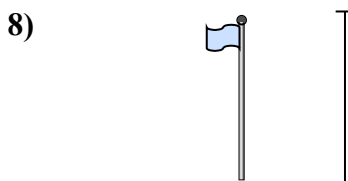
8. B

9. B



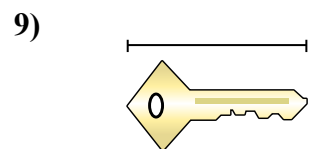
Высота шара для боулинга

- A. 4 дюймов
- B. 1 ярд
- C. 10 дюймов
- D. 10 футов



Столб для флага

- A. 1 миля
- B. 10 ярдов
- C. 12 дюймов
- D. 5 футов



Ключ

- A. 5 футов
- B. 2 дюймов
- C. 6 дюймов
- D. 2 ярдов



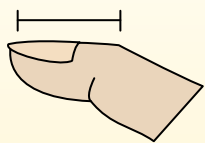


Определите, ответ под какой буквой отражает длину/ высоту.

**ОТВЕТЫ**

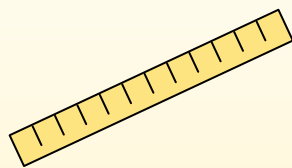
**Polegadas (in)**

Una pulgada es aproximadamente la distancia de la última articulación de su dedo.



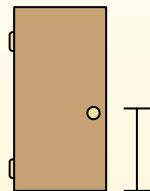
**Pie (pies)**

Um pé mede 12 polegadas. O comprimento de uma régua.



**Jarda (jd)**

1 jarda é o mesmo que 3 pés. Do chão até a maçaneta da porta são cerca de 1 jarda.




**Milla (mi)**

Uma milha equivale a 5.280 pés. A maioria das estradas principais tem pelo menos uma milha de comprimento.



1. \_\_\_\_\_
2. \_\_\_\_\_
3. \_\_\_\_\_
4. \_\_\_\_\_
5. \_\_\_\_\_
6. \_\_\_\_\_
7. \_\_\_\_\_
8. \_\_\_\_\_
9. \_\_\_\_\_


1)



Тетрадный листок

- A. 6 дюймов
- B. 11 дюймов
- C. 1 ярд
- D. 2 футов

2)



Гора

- A. 20 футов
- B. 2 миль
- C. 300 дюймов
- D. 10 ярдов

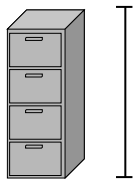
3)



Ручка

- A. 5 ярдов
- B. 12 дюймов
- C. 5 дюймов
- D. 1 фут

4)



Ящик для папок

- A. 1 фут
- B. 2 футов
- C. 5 футов
- D. 11 дюймов

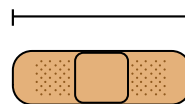
5)



Лягушка

- A. 1 фут
- B. 2 футов
- C. 3 дюймов
- D. 9 дюймов

6)



Пластырь

- A. 3 дюймов
- B. 2 миль
- C. 2 футов
- D. 1 ярд

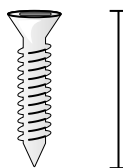
7)



Божья коровка

- A. 3 ярдов
- B. 1 дюйм
- C. 1 фут
- D. 3 дюймов

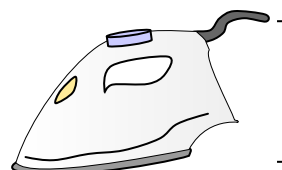
8)



Болт

- A. 1 дюйм
- B. 10 дюймов
- C. 8 дюймов
- D. 1 ярд

9)



Утюг

- A. 15 дюймов
- B. 6 дюймов
- C. 2 футов
- D. 8 футов

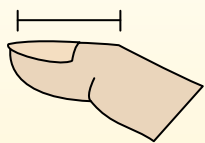


Определите, ответ под какой буквой отражает длину/ высоту.

**ОТВЕТЫ**

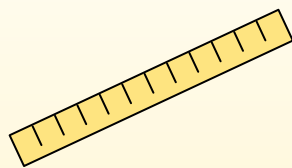
**Polegadas (in)**

Una pulgada es aproximadamente la distancia de la última articulación de su dedo.



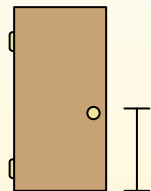
**Pie (pies)**

Um pé mede 12 polegadas. O comprimento de uma régua.



**Jarda (jd)**

1 jarda é o mesmo que 3 pés. Do chão até a maçaneta da porta são cerca de 1 jarda.



**Milla (mi)**

Uma milha equivale a 5.280 pés. A maioria das estradas principais tem pelo menos uma milha de comprimento.




1. B

2. B

3. C


4. C

5. C



Тетрадный листок

- A. 6 дюймов
- B. 11 дюймов
- C. 1 ярд
- D. 2 футов



Гора

- A. 20 футов
- B. 2 миль
- C. 300 дюймов
- D. 10 ярдов



Ручка

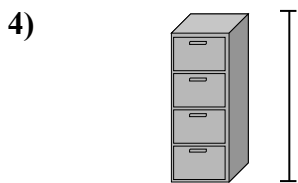
- A. 5 ярдов
- B. 12 дюймов
- C. 5 дюймов
- D. 1 фут

6. A

7. B


8. A

9. B



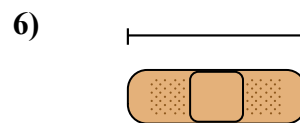
Ящик для папок

- A. 1 фут
- B. 2 футов
- C. 5 футов
- D. 11 дюймов




Лягушка

- A. 1 фут
- B. 2 футов
- C. 3 дюймов
- D. 9 дюймов



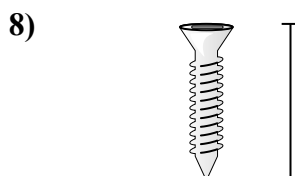
Пластырь

- A. 3 дюймов
- B. 2 миль
- C. 2 футов
- D. 1 ярд



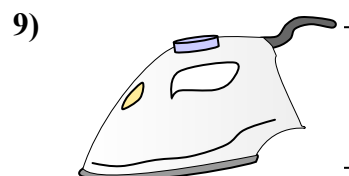
Божья коровка

- A. 3 ярдов
- B. 1 дюйм
- C. 1 фут
- D. 3 дюймов



Болт

- A. 1 дюйм
- B. 10 дюймов
- C. 8 дюймов
- D. 1 ярд



Утюг

- A. 15 дюймов
- B. 6 дюймов
- C. 2 футов
- D. 8 футов

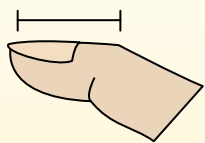


Определите, ответ под какой буквой отражает длину/ высоту.

**ОТВЕТЫ**

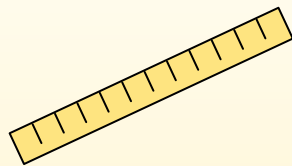
**Polegadas (in)**

Una pulgada es aproximadamente la distancia de la última articulación de su dedo.



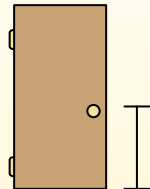
**Pie (pies)**

Um pé mede 12 polegadas. O comprimento de uma régua.



**Jarda (jd)**

1 jarda é o mesmo que 3 pés. Do chão até a maçaneta da porta são cerca de 1 jarda.




**Milla (mi)**

Uma milha equivale a 5.280 pés. A maioria das estradas principais tem pelo menos uma milha de comprimento.




1. \_\_\_\_\_
2. \_\_\_\_\_
3. \_\_\_\_\_
4. \_\_\_\_\_
5. \_\_\_\_\_
6. \_\_\_\_\_
7. \_\_\_\_\_
8. \_\_\_\_\_
9. \_\_\_\_\_

1)



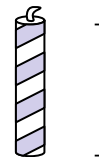
- Кастрюля  
 A. 4 дюймов  
 B. 1 дюйм  
 C. 2 футов  
 D. 10 дюймов

2)



- Молоток  
 A. 1 ярд  
 B. 16 дюймов  
 C. 4 дюймов  
 D. 1 дюйм

3)



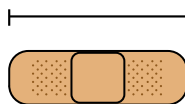
- Свеча  
 A. 8 дюймов  
 B. 1 фут  
 C. 3 дюймов  
 D. 1 миля

4)



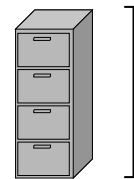
- Клеющий карандаш  
 A. 1 фут  
 B. 4 миль  
 C. 10 дюймов  
 D. 3 дюймов

5)



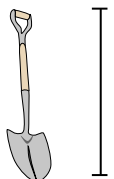
- Пластырь  
 A. 2 футов  
 B. 2 миль  
 C. 3 дюймов  
 D. 1 ярд

6)




- Ящик для папок  
 A. 5 футов  
 B. 1 фут  
 C. 2 футов  
 D. 11 дюймов

7)



- Лопата  
 A. 2 футов  
 B. 4 футов  
 C. 11 дюймов  
 D. 3 ярдов

8)



- Высота дерева  
 A. 1 миля  
 B. 4 футов  
 C. 6 ярдов  
 D. 18 дюймов

9)

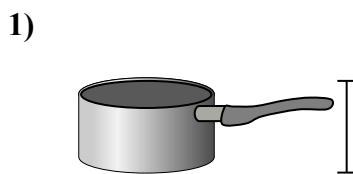
- Флэшка  
 A. 6 дюймов  
 B. 11 дюймов  
 C. 2 футов  
 D. 2 дюймов




Определите, ответ под какой буквой отражает длину/ высоту.

**ОТВЕТЫ**


Polegadas (in)	Pie (pies)	Jarda (jd)	Milla (mi)
Una pulgada es aproximadamente la distancia de la última articulación de su dedo.	Um pé mede 12 polegadas. O comprimento de uma régua.	1 jarda é o mesmo que 3 pés. Do chão até a maçaneta da porta são cerca de 1 jarda.	Uma milha equivale a 5.280 pés. A maioria das estradas principais tem pelo menos uma milha de comprimento.



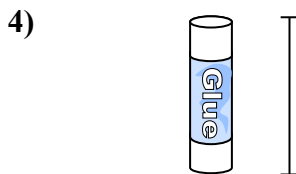
- Кастрюля  
 A. 4 дюймов  
 B. 1 дюйм  
 C. 2 футов  
 D. 10 дюймов



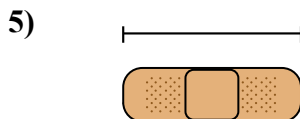
- Молоток  
 A. 1 ярд  
 B. 16 дюймов  
 C. 4 дюймов  
 D. 1 дюйм



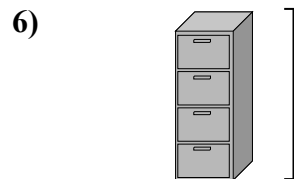
- Свеча  
 A. 8 дюймов  
 B. 1 фут  
 C. 3 дюймов  
 D. 1 миля




- Клеющий карандаш  
 A. 1 фут  
 B. 4 миль  
 C. 10 дюймов  
 D. 3 дюймов



- Пластырь  
 A. 2 футов  
 B. 2 миль  
 C. 3 дюймов  
 D. 1 ярд



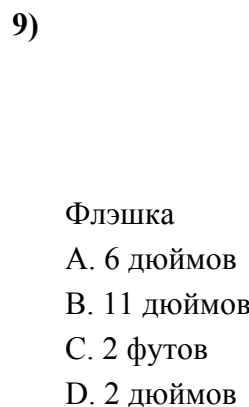
- Ящик для папок  
 A. 5 футов  
 B. 1 фут  
 C. 2 футов  
 D. 11 дюймов



- Лопата  
 A. 2 футов  
 B. 4 футов  
 C. 11 дюймов  
 D. 3 ярдов



- Высота дерева  
 A. 1 миля  
 B. 4 футов  
 C. 6 ярдов  
 D. 18 дюймов



- Флэшка  
 A. 6 дюймов  
 B. 11 дюймов  
 C. 2 футов  
 D. 2 дюймов

1. D
2. B
3. C
4. D
5. C
6. A
7. B
8. C
9. D

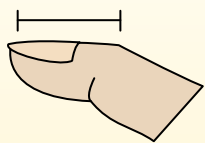


Определите, ответ под какой буквой отражает длину/ высоту.

**ОТВЕТЫ**

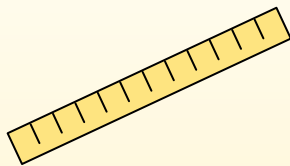
**Polegadas (in)**

Una pulgada es aproximadamente la distancia de la última articulación de su dedo.



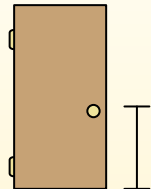
**Pie (pies)**

Um pé mede 12 polegadas. O comprimento de uma régua.



**Jarda (jd)**

1 jarda é o mesmo que 3 pés. Do chão até a maçaneta da porta são cerca de 1 jarda.



**Milla (mi)**

Uma milha equivale a 5.280 pés. A maioria das estradas principais tem pelo menos uma milha de comprimento.



1. \_\_\_\_\_
2. \_\_\_\_\_
3. \_\_\_\_\_
4. \_\_\_\_\_
5. \_\_\_\_\_
6. \_\_\_\_\_
7. \_\_\_\_\_
8. \_\_\_\_\_
9. \_\_\_\_\_

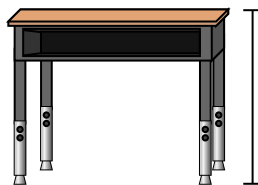
1)



Ручка

- A. 5 дюймов
- B. 12 дюймов
- C. 1 фут
- D. 5 ярдов

2)



Парта

- A. 6 дюймов
- B. 2 ярдов
- C. 2 футов
- D. 11 дюймов

3)



Лягушка

- A. 9 дюймов
- B. 3 дюймов
- C. 1 фут
- D. 2 футов

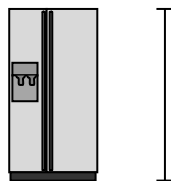
4)



Велосипед

- A. 3 дюймов
- B. 1 ярд
- C. 3 ярдов
- D. 10 дюймов

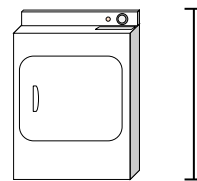
5)



Холодильник

- A. 6 футов
- B. 1 фут
- C. 12 дюймов
- D. 4 ярдов

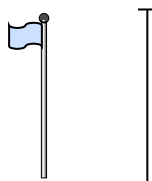
6)



Сушилка для одежды

- A. 2 футов
- B. 1 ярд
- C. 11 дюймов
- D. 6 дюймов


7)



Столб для флага

- A. 5 футов
- B. 10 ярдов
- C. 1 миля
- D. 12 дюймов

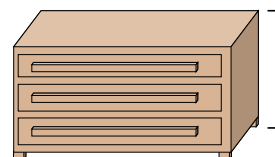
8)



Теннисный мяч

- A. 1 фут
- B. 7 дюймов
- C. 3 дюймов
- D. 2 футов

9)



Комод

- A. 18 дюймов
- B. 3 футов
- C. 3 ярдов
- D. 12 дюймов

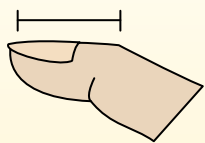


Определите, ответ под какой буквой отражает длину/ высоту.

**ОТВЕТЫ**

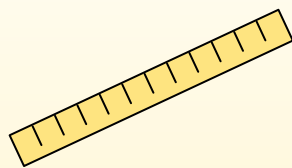
**Polegadas (in)**

Una pulgada es aproximadamente la distancia de la última articulación de su dedo.



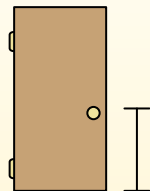
**Pie (pies)**

Um pé mede 12 polegadas. O comprimento de uma régua.



**Jarda (jd)**

1 jarda é o mesmo que 3 pés. Do chão até a maçaneta da porta são cerca de 1 jarda.



**Milla (mi)**

Uma milha equivale a 5.280 pés. A maioria das estradas principais tem pelo menos uma milha de comprimento.



1. **A**

2. **C**

3. **B**

4. **B**

5. **A**

6. **B**

7. **B**

8. **C**

9. **B**

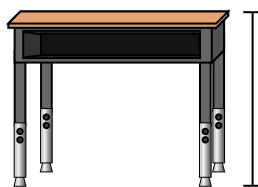
1)



Ручка

- A. 5 дюймов
- B. 12 дюймов
- C. 1 фут
- D. 5 ярдов

2)



Парта

- A. 6 дюймов
- B. 2 ярдов
- C. 2 футов
- D. 11 дюймов

3)



Лягушка

- A. 9 дюймов
- B. 3 дюймов
- C. 1 фут
- D. 2 футов

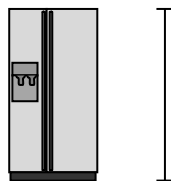
4)



Велосипед

- A. 3 дюймов
- B. 1 ярд
- C. 3 ярдов
- D. 10 дюймов

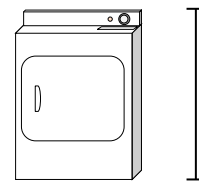
5)



Холодильник

- A. 6 футов
- B. 1 фут
- C. 12 дюймов
- D. 4 ярдов

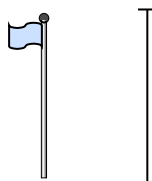
6)



Сушилка для одежды

- A. 2 футов
- B. 1 ярд
- C. 11 дюймов
- D. 6 дюймов


7)



Столб для флага

- A. 5 футов
- B. 10 ярдов
- C. 1 миля
- D. 12 дюймов

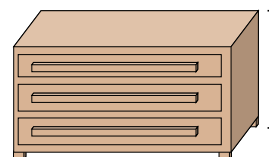
8)



Теннисный мяч

- A. 1 фут
- B. 7 дюймов
- C. 3 дюймов
- D. 2 футов

9)



Комод

- A. 18 дюймов
- B. 3 футов
- C. 3 ярдов
- D. 12 дюймов

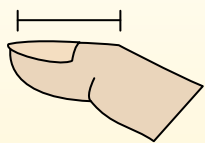


Определите, ответ под какой буквой отражает длину/ высоту.

**ОТВЕТЫ**

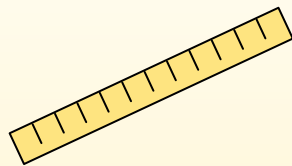
**Polegadas (in)**

Una pulgada es aproximadamente la distancia de la última articulación de su dedo.



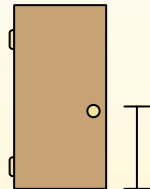
**Pie (pies)**

Um pé mede 12 polegadas. O comprimento de uma régua.



**Jarda (jd)**

1 jarda é o mesmo que 3 pés. Do chão até a maçaneta da porta são cerca de 1 jarda.



**Milla (mi)**

Uma milha equivale a 5.280 pés. A maioria das estradas principais tem pelo menos uma milha de comprimento.



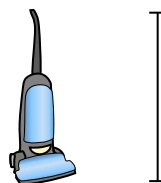
1. \_\_\_\_\_
2. \_\_\_\_\_
3. \_\_\_\_\_
4. \_\_\_\_\_
5. \_\_\_\_\_
6. \_\_\_\_\_
7. \_\_\_\_\_
8. \_\_\_\_\_
9. \_\_\_\_\_

1)



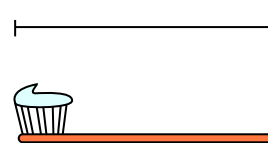
- Велосипед
- A. 3 дюймов
  - B. 10 дюймов
  - C. 1 ярд
  - D. 3 ярдов

2)




- Пылесос
- A. 11 дюймов
  - B. 4 футов
  - C. 3 ярдов
  - D. 1 фут

3)




- Зубная щетка
- A. 1 ярд
  - B. 10 футов
  - C. 7 дюймов
  - D. 4 дюймов

4)



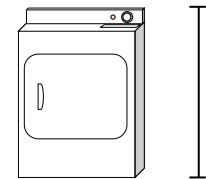
- Высота коробки с крупой
- A. 4 дюймов
  - B. 2 футов
  - C. 1 дюйм
  - D. 1 фут

5)



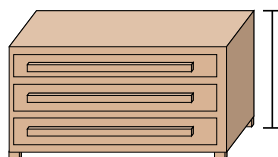
- Слон
- A. 1 миля
  - B. 5 футов
  - C. 18 дюймов
  - D. 4 ярдов

6)



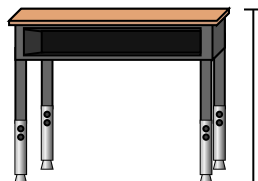
- Сушилка для одежды
- A. 6 дюймов
  - B. 2 футов
  - C. 11 дюймов
  - D. 1 ярд

7)



- Комод
- A. 12 дюймов
  - B. 3 ярдов
  - C. 3 футов
  - D. 18 дюймов

8)



- Парта
- A. 6 дюймов
  - B. 11 дюймов
  - C. 2 футов
  - D. 2 ярдов

9)



- Божья коровка
- A. 3 ярдов
  - B. 3 дюймов
  - C. 1 фут
  - D. 1 дюйм

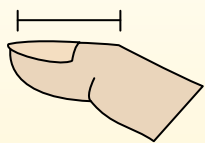


Определите, ответ под какой буквой отражает длину/ высоту.

**ОТВЕТЫ**

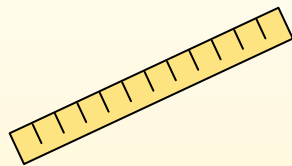
**Polegadas (in)**

Una pulgada es aproximadamente la distancia de la última articulación de su dedo.



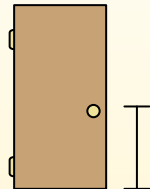
**Pie (pies)**

Um pé mede 12 polegadas. O comprimento de uma régua.



**Jarda (jd)**

1 jarda é o mesmo que 3 pés. Do chão até a maçaneta da porta são cerca de 1 jarda.



**Milla (mi)**

Uma milha equivale a 5.280 pés. A maioria das estradas principais tem pelo menos uma milha de comprimento.



1. C

2. B

3. C

4. D

5. D

6. D

7. C

8. C

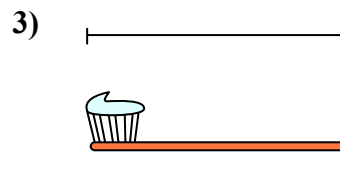
9. D




Велосипед  
A. 3 дюймов  
B. 10 дюймов  
C. 1 ярд  
D. 3 ярдов




Пылесос  
A. 11 дюймов  
B. 4 футов  
C. 3 ярдов  
D. 1 фут



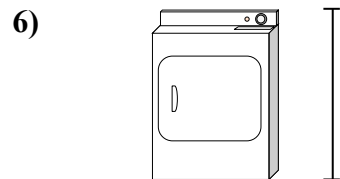
Зубная щетка  
A. 1 ярд  
B. 10 футов  
C. 7 дюймов  
D. 4 дюймов



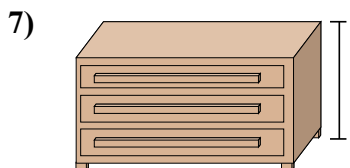
Высота коробки с крупой  
A. 4 дюймов  
B. 2 футов  
C. 1 дюйм  
D. 1 фут



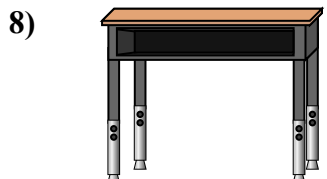
Слон  
A. 1 миля  
B. 5 футов  
C. 18 дюймов  
D. 4 ярдов



Сушилка для одежды  
A. 6 дюймов  
B. 2 футов  
C. 11 дюймов  
D. 1 ярд



Комод  
A. 12 дюймов  
B. 3 ярдов  
C. 3 футов  
D. 18 дюймов



Парта  
A. 6 дюймов  
B. 11 дюймов  
C. 2 футов  
D. 2 ярдов



Божья коровка  
A. 3 ярдов  
B. 3 дюймов  
C. 1 фут  
D. 1 дюйм



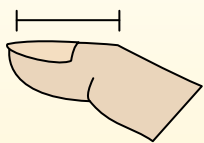


Определите, ответ под какой буквой отражает длину/ высоту.

**ОТВЕТЫ**

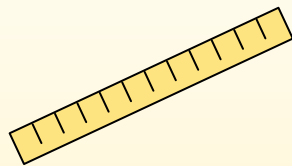
**Polegadas (in)**

Una pulgada es aproximadamente la distancia de la última articulación de su dedo.



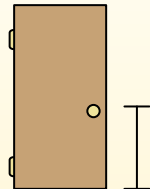
**Pie (pies)**

Um pé mede 12 polegadas. O comprimento de uma régua.



**Jarda (jd)**

1 jarda é o mesmo que 3 pés. Do chão até a maçaneta da porta são cerca de 1 jarda.




**Milla (mi)**

Uma milha equivale a 5.280 pés. A maioria das estradas principais tem pelo menos uma milha de comprimento.



1. \_\_\_\_\_
2. \_\_\_\_\_
3. \_\_\_\_\_
4. \_\_\_\_\_
5. \_\_\_\_\_
6. \_\_\_\_\_
7. \_\_\_\_\_
8. \_\_\_\_\_
9. \_\_\_\_\_

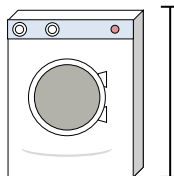
1)



Банка газировки

- A. 1 фут
- B. 1 дюйм
- C. 1 ярд
- D. 4 дюймов


2)



Стиральная машина

- A. 3 футов
- B. 1 фут
- C. 2 ярдов
- D. 4 дюймов

3)



Леденец

- A. 1 фут
- B. 3 дюймов
- C. 1 миля
- D. 5 дюймов

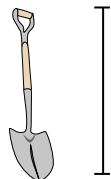
4)



Велосипед

- A. 10 дюймов
- B. 3 дюймов
- C. 1 ярд
- D. 3 ярдов


5)



Лопата

- A. 11 дюймов
- B. 2 футов
- C. 4 футов
- D. 3 ярдов

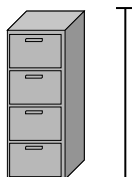
6)



Высота шара для боулинга

- A. 10 дюймов
- B. 10 футов
- C. 1 ярд
- D. 4 дюймов

7)



Ящик для папок

- A. 11 дюймов
- B. 5 футов
- C. 1 фут
- D. 2 футов

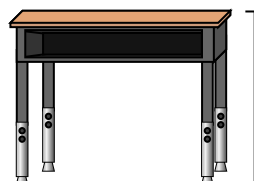
8)



Карандаш

- A. 1 ярд
- B. 7 дюймов
- C. 1 фут
- D. 1 дюйм

9)



Парта


- A. 2 ярдов
- B. 6 дюймов
- C. 11 дюймов
- D. 2 футов



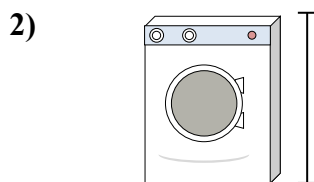
Определите, ответ под какой буквой отражает длину/ высоту.

**ОТВЕТЫ**


Polegadas (in)	Pie (pies)	Jarda (jd)	Milla (mi)
Una pulgada es aproximadamente la distancia de la última articulación de su dedo.	Um pé mede 12 polegadas. O comprimento de uma régua.	1 jarda é o mesmo que 3 pés. Do chão até a maçaneta da porta são cerca de 1 jarda.	Uma milha equivale a 5.280 pés. A maioria das estradas principais tem pelo menos uma milha de comprimento.



- Банка газировки
- A. 1 фут
  - B. 1 дюйм
  - C. 1 ярд
  - D. 4 дюймов




- Стиральная машина
- A. 3 футов
  - B. 1 фут
  - C. 2 ярдов
  - D. 4 дюймов




- Леденец
- A. 1 фут
  - B. 3 дюймов
  - C. 1 миля
  - D. 5 дюймов



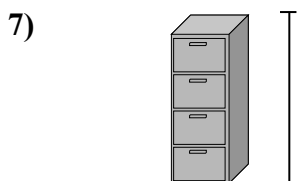
- Велосипед
- A. 10 дюймов
  - B. 3 дюймов
  - C. 1 ярд
  - D. 3 ярдов



- Лопата
- A. 11 дюймов
  - B. 2 футов
  - C. 4 футов
  - D. 3 ярдов



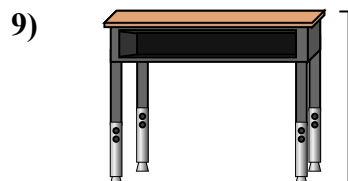
- Высота шара для боулинга
- A. 10 дюймов
  - B. 10 футов
  - C. 1 ярд
  - D. 4 дюймов



- Ящик для папок
- A. 11 дюймов
  - B. 5 футов
  - C. 1 фут
  - D. 2 футов



- Карандаш
- A. 1 ярд
  - B. 7 дюймов
  - C. 1 фут
  - D. 1 дюйм



- Парта
- A. 2 ярдов
  - B. 6 дюймов
  - C. 11 дюймов
  - D. 2 футов

1. D
2. A
3. D
4. C
5. C
6. A
7. B
8. B
9. D

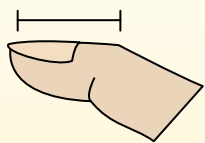


Определите, ответ под какой буквой отражает длину/ высоту.

**ОТВЕТЫ**

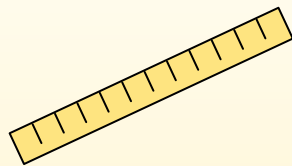
**Polegadas (in)**

Una pulgada es aproximadamente la distancia de la última articulación de su dedo.



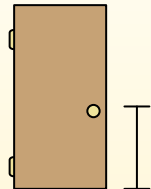
**Pie (pies)**

Um pé mede 12 polegadas. O comprimento de uma régua.



**Jarda (jd)**

1 jarda é o mesmo que 3 pés. Do chão até a maçaneta da porta são cerca de 1 jarda.



**Milla (mi)**

Uma milha equivale a 5.280 pés. A maioria das estradas principais tem pelo menos uma milha de comprimento.




1. \_\_\_\_\_
2. \_\_\_\_\_
3. \_\_\_\_\_
4. \_\_\_\_\_
5. \_\_\_\_\_
6. \_\_\_\_\_
7. \_\_\_\_\_
8. \_\_\_\_\_
9. \_\_\_\_\_

1)

DVD

- A. 4 дюймов
- B. 1 ярд
- C. 12 дюймов
- D. 1 фут


2)



Гора

- A. 10 ярдов
- B. 2 миль
- C. 300 дюймов
- D. 20 футов

3)



Кусок хлеба

- A. 4 футов
- B. 2 ярдов
- C. 4 дюймов
- D. 10 дюймов

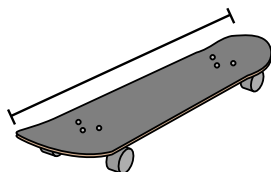
4)



Велосипед

- A. 3 ярдов
- B. 10 дюймов
- C. 3 дюймов
- D. 1 ярд

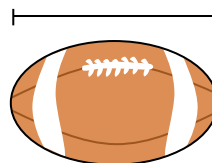
5)



Доска для скейтборда

- A. 30 дюймов
- B. 1 дюйм
- C. 2 ярдов
- D. 12 дюймов

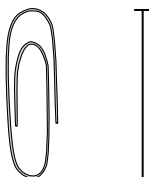
6)



Мяч для рэгби

- A. 1 ярд
- B. 11 дюймов
- C. 1 дюйм
- D. 2 футов

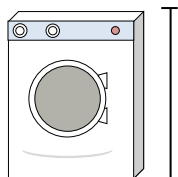
7)



Скрепка

- A. 1 дюйм
- B. 2 футов
- C. 1 фут
- D. 4 дюймов

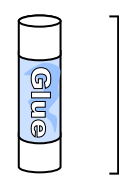
8)



Стиральная машина

- A. 1 фут
- B. 3 футов
- C. 2 ярдов
- D. 4 дюймов

9)



Клеющий карандаш

- A. 3 дюймов
- B. 1 фут
- C. 10 дюймов
- D. 4 миль



Определите, ответ под какой буквой отражает длину/ высоту.

**ОТВЕТЫ**

Polegadas (in)	Pie (pies)	Jarda (jd)	Milla (mi)
Una pulgada es aproximadamente la distancia de la última articulación de su dedo.	Um pé mede 12 polegadas. O comprimento de uma régua.	1 jarda é o mesmo que 3 pés. Do chão até a maçaneta da porta são cerca de 1 jarda.	Uma milha equivale a 5.280 pés. A maioria das estradas principais tem pelo menos uma milha de comprimento.


1. A
2. B
3. C
4. D
5. A
6. B
7. A
8. B
9. A

1)

DVD

- A. 4 дюймов
- B. 1 ярд
- C. 12 дюймов
- D. 1 фут


2)



Гора

- A. 10 ярдов
- B. 2 миль
- C. 300 дюймов
- D. 20 футов

3)



Кусок хлеба

- A. 4 футов
- B. 2 ярдов
- C. 4 дюймов
- D. 10 дюймов

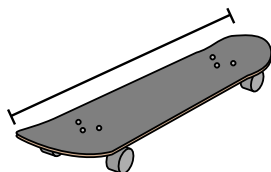
4)



Велосипед

- A. 3 ярдов
- B. 10 дюймов
- C. 3 дюймов
- D. 1 ярд

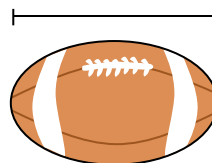
5)



Доска для скейтборда

- A. 30 дюймов
- B. 1 дюйм
- C. 2 ярдов
- D. 12 дюймов

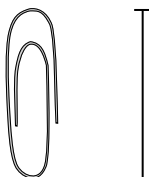
6)



Мяч для рэгби

- A. 1 ярд
- B. 11 дюймов
- C. 1 дюйм
- D. 2 футов

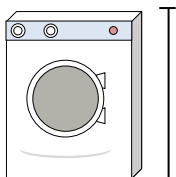
7)



Скрепка

- A. 1 дюйм
- B. 2 футов
- C. 1 фут
- D. 4 дюймов

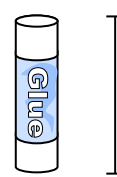
8)



Стиральная машина

- A. 1 фут
- B. 3 футов
- C. 2 ярдов
- D. 4 дюймов

9)



Клеющий карандаш

- A. 3 дюймов
- B. 1 фут
- C. 10 дюймов
- D. 4 миль