




Измерьте каждую фигуру в дюймах и сантиметрах.

об)



1)



2)



3)



4)




5)



6)



7)



8)



9)



**Отвeты**

об. 2 5 - 6

1. \_\_\_\_\_

2. \_\_\_\_\_

3. \_\_\_\_\_

4. \_\_\_\_\_

5. \_\_\_\_\_

6. \_\_\_\_\_



7. \_\_\_\_\_

8. \_\_\_\_\_

9. \_\_\_\_\_



Измерьте каждую фигуру в дюймах и сантиметрах.

ОТВЕТЫоб. 2 5 - 61. 1 1/2 3 - 42. 4 10 - 113. 4 1/2 11 - 124. 5 1/2 13 - 145. 3 1/2 8 - 96. 3 7 - 87. 0 1/2 1 - 28. 5 12 - 139. 1 2 - 3