





Измерьте каждую фигуру в дюймах и сантиметрах.

об)



1)




2)



3)



4)



Ответы

об. 1 1 1/2 2,5 3,8

1. _____

2. _____


3. _____

4. _____




Измерьте каждую фигуру в дюймах и сантиметрах.


об)



1)




2)



3)



4)



ОТВЕТЫ

об. 1 1 1/2 2,5 3,8

1. 1 1/2 1 1/2 3,8 3,8

2. 5 1 12,7 2,5

3. 5 1/2 0 1/2 14 1,3

4. 0 1/2 1 1/2 1,3 3,8