



Измерьте каждую фигуру в дюймах и сантиметрах.

об)



Ответы

об. 4 1/2 1 11,4 2,5


1. _____

2. _____

3. _____

4. _____

1)




2)



3)



4)






Измерьте каждую фигуру в дюймах и сантиметрах.

об)



1)



2)



3)



4)

**ОТВЕТЫ**об. 4 1/2 **1** 11,4 2,51. 5 1/2 1 1/2 **14** **3,8**2. **1** 0 1/2 **2,5** **1,3**3. 1 1/2 0 1/2 **3,8** **1,3**4. **4** 1 1/2 10,2 **3,8**