




Измерьте каждую фигуру в дюймах и сантиметрах.

об)



1)




2)



3)



4)



ОТВЕТЫ

об. 3 0 1/2 7,6 1,3

1. _____

2. _____

3. _____

4. _____



Измерьте каждую фигуру в дюймах и сантиметрах.

об)



1)




2)



3)



4)

ОТВЕТЫоб. 3 0 1/2 7,6 1,31. 1 1/2 1 3,8 2,52. 0 1/2 1 1,3 2,53. 5 1/2 1 14 2,54. 1 1 1/2 2,5 3,8