




Измерьте каждую фигуру в дюймах и сантиметрах.

об)




1)




2)



3)



4)



Ответы

об. 3 1/2 0 1/2 8,9 1,3

1. _____

2. _____

3. _____

4. _____




Измерьте каждую фигуру в дюймах и сантиметрах.

об)




1)




2)



3)



4)



ОТВЕТЫ

об. 3 1/2 0 1/2 8,9 1,3

1. 1 1 1/2 2,5 3,8

2. 1 1/2 1 3,8 2,5

3. 5 1/2 1 1/2 14 3,8

4. 5 1 12,7 2,5