




Измерьте каждую фигуру в дюймах и сантиметрах.


об)




1)



2)



3)



4)



Ответы

об. 4 1 1/2 10.2 3,8

1. _____

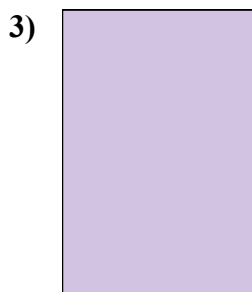
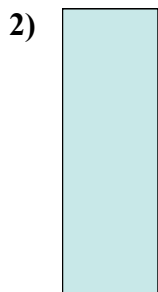


2. _____

3. _____

4. _____



Измерьте каждую фигуру в дюймах и сантиметрах.



ОТВЕТЫ

- об. 4 1 1/2 10,2 3,8
1. 2 1 5,1 2,5
2. 0 1/2 1 1/2 1,3 3,8
3. 1 1 1/2 2,5 3,8
4. 5 1/2 1 1/2 14 3,8