



Измерьте каждый ЭЛЕМЕНТ от наконечника до наконечника, затем поместите результаты на линейный график.

ОТВЕТЫ

об)



1)



2)



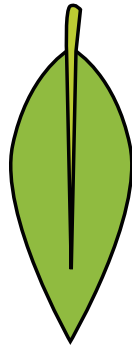
3)

об. $\frac{1}{2}$ 1. $1\frac{1}{2}$ 2. $\frac{3}{4}$ 3. $1\frac{1}{4}$ 4. $\frac{1}{4}$ 5. $1\frac{3}{4}$

4)




5)




6)



7)

6. **1**7. **2**8. **2**9. $\frac{1}{4}$ 10. $1\frac{3}{4}$

8)



9)



10)



11)

11. $\frac{3}{4}$

| Line Plot | | | | | | | |
|---------------|---------------|---------------|---|----------------|----------------|----------------|---|
| X | | X | | | | X | X |
| X | X | X | X | X | X | X | X |
| $\frac{1}{4}$ | $\frac{1}{2}$ | $\frac{3}{4}$ | 1 | $1\frac{1}{4}$ | $1\frac{1}{2}$ | $1\frac{3}{4}$ | 2 |