



Определите, какая буква наилучшим образом отражает длину/ высоту.

**ОТВЕТЫ**

**Milímetro (mm)**

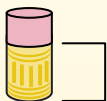
Un milímetro equivale al grosor de una tarjeta de crédito.



**Centímetro (cm)**

10 mm = 1 cm.

La parte metálica de un lápiz mide aproximadamente 1 cm. Una regla mide unos 30 centímetros.



**Metro (m)**

100 cm = 1 m

Desde el suelo hasta la perilla de una puerta hay aproximadamente 1 metro.



**Kilómetro (km)**

1,000 m = 1 km

La mayoría de las carreteras principales tienen al menos un kilómetro de largo.



1. \_\_\_\_\_
2. \_\_\_\_\_
3. \_\_\_\_\_
4. \_\_\_\_\_
5. \_\_\_\_\_
6. \_\_\_\_\_
7. \_\_\_\_\_
8. \_\_\_\_\_
9. \_\_\_\_\_


1)



Поп-корн

- A. 3 сантиметры
- B. 90 сантиметры
- C. 2 километров
- D. 3 миллиметры

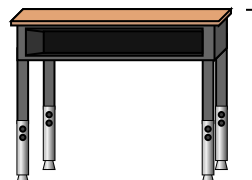
2)



Леденец

- A. 2 километров
- B. 30 миллиметры
- C. 10 сантиметры
- D. 30 сантиметры


3)



Парта

- A. 2 метры
- B. 70 сантиметры
- C. 30 сантиметры
- D. 15 сантиметры

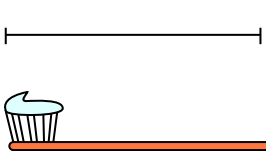
4)



Колесо обозрения

- A. 30 сантиметры
- B. 50 километров
- C. 23 метры
- D. 5 метры


5)



Зубная щетка

- A. 10 сантиметры
- B. 3 метры
- C. 17 сантиметры
- D. 1 метр

6)



Банка газировки

- A. 1 метр
- B. 10 сантиметры
- C. 30 сантиметры
- D. 3 сантиметры

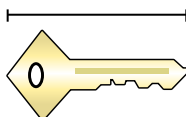
7)



Лягушка

- A. 60 сантиметры
- B. 4 миллиметры
- C. 8 сантиметры
- D. 20 сантиметры

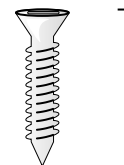
8)



Ключ

- A. 2 метры
- B. 5 сантиметры
- C. 15 сантиметры
- D. 150 сантиметры

9)




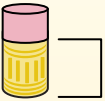
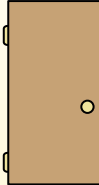

Болт

- A. 1 метр
- B. 25 сантиметры
- C. 20 сантиметры
- D. 3 сантиметры




Определите, какая буква наилучшим образом отражает длину/ высоту.

**ОТВЕТЫ**

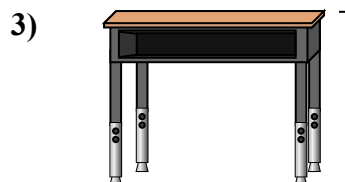
Milímetro (mm)	Centímetro (cm)	Metro (m)	Kilómetro (km)
Un milímetro equivale al grosor de una tarjeta de crédito.	10 mm = 1 cm. La parte metálica de un lápiz mide aproximadamente 1 cm. Una regla mide unos 30 centímetros.	100 cm = 1 m Desde el suelo hasta la perilla de una puerta hay aproximadamente 1 metro.	1,000 m = 1 km La mayoría de las carreteras principales tienen al menos un kilómetro de largo.
			




- Поп-корн  
A. 3 сантиметры  
B. 90 сантиметры  
C. 2 километра  
D. 3 миллиметра




- Леденец  
A. 2 километра  
B. 30 миллиметра  
C. 10 сантиметры  
D. 30 сантиметры



- Парта  
A. 2 метра  
B. 70 сантиметры  
C. 30 сантиметры  
D. 15 сантиметры




- Колесо обозрения  
A. 30 сантиметры  
B. 50 километра  
C. 23 метра  
D. 5 метра



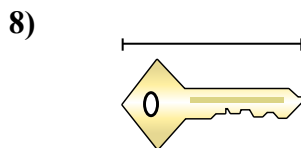
- Зубная щетка  
A. 10 сантиметры  
B. 3 метра  
C. 17 сантиметры  
D. 1 метр



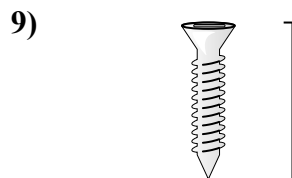
- Банка газировки  
A. 1 метр  
B. 10 сантиметры  
C. 30 сантиметры  
D. 3 сантиметры



- Лягушка  
A. 60 сантиметры  
B. 4 миллиметра  
C. 8 сантиметры  
D. 20 сантиметры



- Ключ  
A. 2 метра  
B. 5 сантиметры  
C. 15 сантиметры  
D. 150 сантиметры



- Болт  
A. 1 метр  
B. 25 сантиметры  
C. 20 сантиметры  
D. 3 сантиметры

1. A
2. C
3. B
4. C
5. C
6. B
7. C
8. B
9. D