
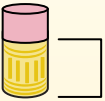
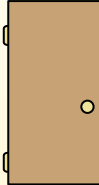






Определите, какая буква наилучшим образом отражает длину/ высоту.

**ОТВЕТЫ**


Milímetro (mm)	Centímetro (cm)	Metro (m)	Kilómetro (km)
Un milímetro equivale al grosor de una tarjeta de crédito.	10 mm = 1 cm. La parte metálica de un lápiz mide aproximadamente 1 cm. Una regla mide unos 30 centímetros.	100 cm = 1 m Desde el suelo hasta la perilla de una puerta hay aproximadamente 1 metro.	1,000 m = 1 km La mayoría de las carreteras principales tienen al menos un kilómetro de largo.
			

1. \_\_\_\_\_
2. \_\_\_\_\_
3. \_\_\_\_\_
4. \_\_\_\_\_
5. \_\_\_\_\_
6. \_\_\_\_\_
7. \_\_\_\_\_
8. \_\_\_\_\_
9. \_\_\_\_\_

1) 


DVD

A. 10 сантиметров  
B. 1 метр  
C. 30 миллиметров  
D. 30 сантиметров

2) 


Гора

A. 700 миллиметров  
B. 3 километров  
C. 60 сантиметров  
D. 9 метров

3) 

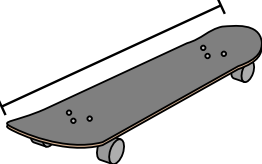
Кусочек хлеба

A. 120 сантиметров  
B. 2 метры  
C. 10 сантиметров  
D. 25 сантиметров

4) 


Велосипед

A. 3 метры  
B. 25 сантиметров  
C. 10 сантиметров  
D. 1 метр

5) 


Доска для скейт-борда

A. 80 сантиметров  
B. 2 метры  
C. 30 сантиметров  
D. 3 сантиметры

6) 

Мяч для американского футбола

A. 1 метр  
B. 25 сантиметров  
C. 3 сантиметры  
D. 60 сантиметров

7) 


Скрепка

A. 3 сантиметры  
B. 60 сантиметры  
C. 10 сантиметры  
D. 30 сантиметры

8) 

Стиральная машина

A. 30 сантиметры  
B. 1 метр  
C. 2 метры  
D. 10 сантиметры

9) 


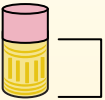
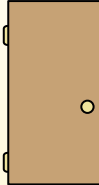

Клеющий карандаш

A. 10 сантиметры  
B. 30 сантиметры  
C. 25 сантиметры  
D. 6 километров





Определите, какая буква наилучшим образом отражает длину/ высоту.


**ОТВЕТЫ**

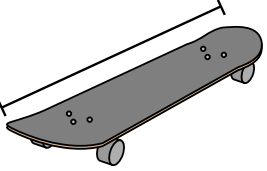
Milímetro (mm)	Centímetro (cm)	Metro (m)	Kilómetro (km)
Un milímetro equivale al grosor de una tarjeta de crédito.	10 mm = 1 cm. La parte metálica de un lápiz mide aproximadamente 1 cm. Una regla mide unos 30 centímetros.	100 cm = 1 m Desde el suelo hasta la perilla de una puerta hay aproximadamente 1 metro.	1,000 m = 1 km La mayoría de las carreteras principales tienen al menos un kilómetro de largo.
			

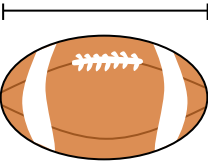
- 1) DVD  
A. 10 сантиметров  
B. 1 метр  
C. 30 миллиметров  
D. 30 сантиметров

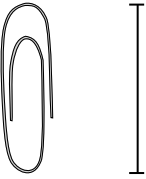
- 2)   
Гора  
A. 700 миллиметров  
B. 3 километров  
C. 60 сантиметров  
D. 9 метров

- 3)   
Кусочек хлеба  
A. 120 сантиметров  
B. 2 метры  
C. 10 сантиметров  
D. 25 сантиметров

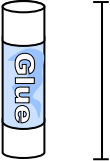
- 4)   
Велосипед  
A. 3 метры  
B. 25 сантиметров  
C. 10 сантиметров  
D. 1 метр

- 5)   
Доска для скейт-борда  
A. 80 сантиметров  
B. 2 метры  
C. 30 сантиметров  
D. 3 сантиметры

- 6)   
Мяч для американского футбола  
A. 1 метр  
B. 25 сантиметров  
C. 3 сантиметры  
D. 60 сантиметров

- 7)   
Скрепка  
A. 3 сантиметры  
B. 60 сантиметров  
C. 10 сантиметров  
D. 30 сантиметры

- 8)   
Стиральная машина  
A. 30 сантиметры  
B. 1 метр  
C. 2 метры  
D. 10 сантиметры

- 9)   
Клеющий карандаш  
A. 10 сантиметры  
B. 30 сантиметры  
C. 25 сантиметры  
D. 6 километров

1.   A    
2.   B    
3.   C    
4.   D    
5.   A    
6.   B    
7.   A    
8.   B    
9.   A