



Определите, какая буква наилучшим образом отражает длину/ высоту.

**ОТВЕТЫ**

**Milímetro (mm)**

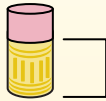
Un milímetro equivale al grosor de una tarjeta de crédito.



**Centímetro (cm)**

10 mm = 1 cm.

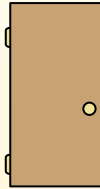
La parte metálica de un lápiz mide aproximadamente 1 cm. Una regla mide unos 30 centímetros.



**Metro (m)**

100 cm = 1 m

Desde el suelo hasta la perilla de una puerta hay aproximadamente 1 metro.



**Kilómetro (km)**

1,000 m = 1 km

La mayoría de las carreteras principales tienen al menos un kilómetro de largo.



1. \_\_\_\_\_
2. \_\_\_\_\_
3. \_\_\_\_\_
4. \_\_\_\_\_
5. \_\_\_\_\_
6. \_\_\_\_\_
7. \_\_\_\_\_
8. \_\_\_\_\_
9. \_\_\_\_\_

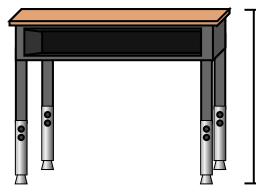
1)



Ручка

- A. 12 сантиметров
- B. 30 миллиметров
- C. 30 сантиметров
- D. 5 метров

2)



Парта

- A. 15 сантиметров
- B. 2 метров
- C. 70 сантиметров
- D. 30 сантиметров

3)



Лягушка

- A. 20 сантиметров
- B. 8 сантиметров
- C. 4 миллиметров
- D. 60 сантиметров

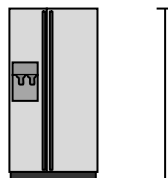
4)



Велосипед

- A. 10 сантиметров
- B. 1 метр
- C. 3 метров
- D. 25 сантиметров

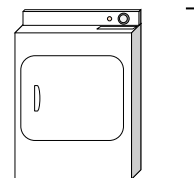
5)



Холодильник

- A. 180 сантиметров
- B. 30 сантиметров
- C. 5 километров
- D. 4 метров

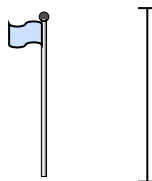
6)



Сушилка для одежды

- A. 60 сантиметров
- B. 1 метр
- C. 25 сантиметров
- D. 15 сантиметров


7)



Столб для флага

- A. 2 километров
- B. 9 метров
- C. 300 сантиметров
- D. 2 метров


8)



Теннисный мяч

- A. 3 миллиметров
- B. 25 сантиметров
- C. 8 сантиметров
- D. 60 сантиметров

9)




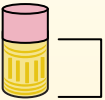
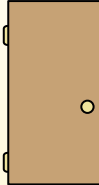

Комод

- A. 45 сантиметров
- B. 90 сантиметров
- C. 3 метров
- D. 30 сантиметров



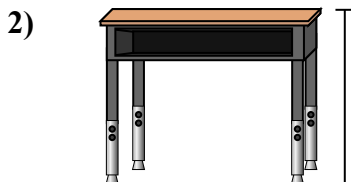
Определите, какая буква наилучшим образом отражает длину/ высоту.

**ОТВЕТЫ**


Milímetro (mm)	Centímetro (cm)	Metro (m)	Kilómetro (km)
Un milímetro equivale al grosor de una tarjeta de crédito.	10 mm = 1 cm. La parte metálica de un lápiz mide aproximadamente 1 cm. Una regla mide unos 30 centímetros.	100 cm = 1 m Desde el suelo hasta la perilla de una puerta hay aproximadamente 1 metro.	1,000 m = 1 km La mayoría de las carreteras principales tienen al menos un kilómetro de largo.
			



- Ручка
- A. 12 сантиметров
  - B. 30 миллиметров
  - C. 30 сантиметров
  - D. 5 метров



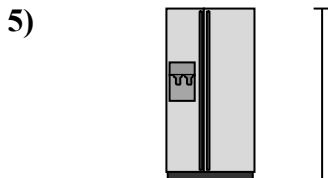
- Парта
- A. 15 сантиметров
  - B. 2 метров
  - C. 70 сантиметров
  - D. 30 сантиметров



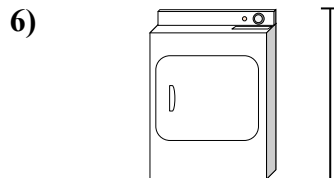
- Лягушка
- A. 20 сантиметров
  - B. 8 сантиметров
  - C. 4 миллиметров
  - D. 60 сантиметров



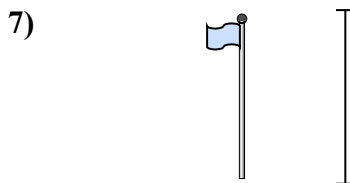
- Велосипед
- A. 10 сантиметров
  - B. 1 метр
  - C. 3 метры
  - D. 25 сантиметров




- Холодильник
- A. 180 сантиметров
  - B. 30 сантиметров
  - C. 5 километров
  - D. 4 метры



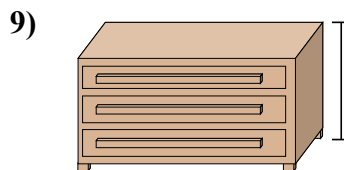
- Сушилка для одежды
- A. 60 сантиметров
  - B. 1 метр
  - C. 25 сантиметров
  - D. 15 сантиметров



- Столб для флага
- A. 2 километров
  - B. 9 метры
  - C. 300 сантиметров
  - D. 2 метры



- Теннисный мяч
- A. 3 миллиметров
  - B. 25 сантиметров
  - C. 8 сантиметров
  - D. 60 сантиметров



- Комод
- A. 45 сантиметров
  - B. 90 сантиметров
  - C. 3 метры
  - D. 30 сантиметров

- 1. A
- 2. C
- 3. B
- 4. B
- 5. A
- 6. B
- 7. B
- 8. C
- 9. B