
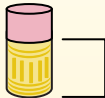
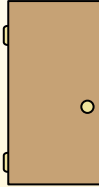





Определите, какая буква наилучшим образом отражает длину/ высоту.

ОТВЕТЫ

Milímetro (mm)	Centímetro (cm)	Metro (m)	Kilómetro (km)
Un milímetro equivale al grosor de una tarjeta de crédito.	10 mm = 1 cm. La parte metálica de un lápiz mide aproximadamente 1 cm. Una regla mide unos 30 centímetros.	100 cm = 1 m Desde el suelo hasta la perilla de una puerta hay aproximadamente 1 metro.	1,000 m = 1 km La mayoría de las carreteras principales tienen al menos un kilómetro de largo.
			

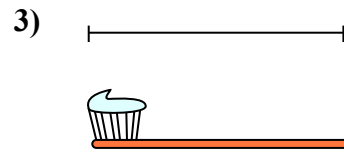
1. _____
2. _____
3. _____
4. _____
5. _____
6. _____
7. _____
8. _____
9. _____




- Велосипед
- A. 10 сантиметров
 - B. 25 сантиметров
 - C. 1 метр
 - D. 3 метры




- Пылесос
- A. 30 сантиметров
 - B. 120 сантиметров
 - C. 3 метры
 - D. 35 сантиметров



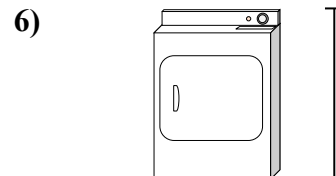
- Зубная щетка
- A. 3 метры
 - B. 10 сантиметров
 - C. 17 сантиметров
 - D. 1 метр



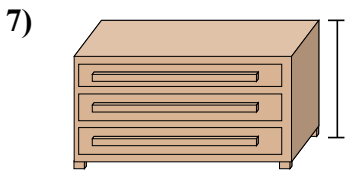
- Высота коробки с крупой
- A. 10 сантиметров
 - B. 60 сантиметров
 - C. 3 сантиметров
 - D. 30 сантиметров



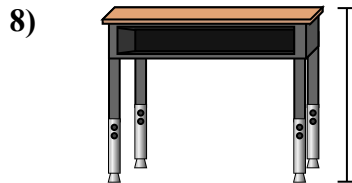
- Слон
- A. 2 километров
 - B. 150 миллиметры
 - C. 45 сантиметров
 - D. 4 метры



- Сушилка для одежды
- A. 15 сантиметров
 - B. 60 сантиметров
 - C. 25 сантиметров
 - D. 1 метр



- Комод
- A. 30 сантиметров
 - B. 3 метры
 - C. 90 сантиметров
 - D. 45 сантиметров



- Парта
- A. 15 сантиметров
 - B. 30 сантиметров
 - C. 70 сантиметров
 - D. 2 метры


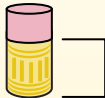
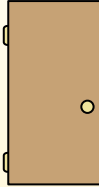



- Божья коровка
- A. 30 сантиметров
 - B. 10 сантиметров
 - C. 5 сантиметров
 - D. 7 миллиметры



Определите, какая буква наилучшим образом отражает длину/ высоту.

ОТВЕТЫ


Milímetro (mm)	Centímetro (cm)	Metro (m)	Kilómetro (km)
Un milímetro equivale al grosor de una tarjeta de crédito.	10 mm = 1 cm. La parte metálica de un lápiz mide aproximadamente 1 cm. Una regla mide unos 30 centímetros.	100 cm = 1 m Desde el suelo hasta la perilla de una puerta hay aproximadamente 1 metro.	1,000 m = 1 km La mayoría de las carreteras principales tienen al menos un kilómetro de largo.
			




- Велосипед
A. 10 сантиметров
B. 25 сантиметров
C. 1 метр
D. 3 метры




- Пылесос
A. 30 сантиметров
B. 120 сантиметров
C. 3 метры
D. 35 сантиметров



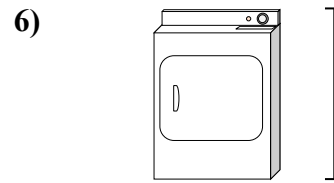
- Зубная щетка
A. 3 метры
B. 10 сантиметров
C. 17 сантиметров
D. 1 метр



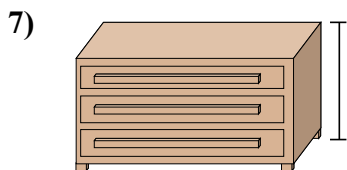
- Высота коробки с крупой
A. 10 сантиметров
B. 60 сантиметров
C. 3 сантиметры
D. 30 сантиметры



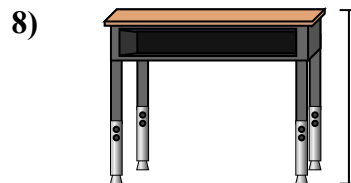
- Слон
A. 2 километров
B. 150 миллиметры
C. 45 сантиметры
D. 4 метры



- Сушилка для одежды
A. 15 сантиметров
B. 60 сантиметров
C. 25 сантиметры
D. 1 метр



- Комод
A. 30 сантиметры
B. 3 метры
C. 90 сантиметры
D. 45 сантиметры



- Парта
A. 15 сантиметры
B. 30 сантиметры
C. 70 сантиметры
D. 2 метры



- Божья коровка
A. 30 сантиметры
B. 10 сантиметры
C. 5 сантиметры
D. 7 миллиметры

1. **C**
2. **B**
3. **C**
4. **D**
5. **D**
6. **D**
7. **C**
8. **C**
9. **D**