



Определите, какая буква наилучшим образом отражает длину/ высоту.

ОТВЕТЫ

Milímetro (mm)

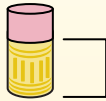
Un milímetro equivale al grosor de una tarjeta de crédito.



Centímetro (cm)

10 mm = 1 cm.

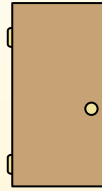
La parte metálica de un lápiz mide aproximadamente 1 cm. Una regla mide unos 30 centímetros.



Metro (m)

100 cm = 1 m

Desde el suelo hasta la perilla de una puerta hay aproximadamente 1 metro.



Kilómetro (km)


1,000 m = 1 km

La mayoría de las carreteras principales tienen al menos un kilómetro de largo.



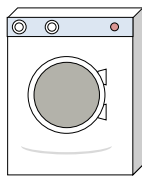
1. _____
2. _____
3. _____
4. _____
5. _____
6. _____
7. _____
8. _____
9. _____

1)




Банка газировки
A. 30 сантиметров
B. 3 сантиметра
C. 1 метр
D. 10 сантиметров

2)



Стиральная машина
A. 1 метр
B. 30 сантиметров
C. 2 метра
D. 10 сантиметров

3)



Леденец
A. 30 миллиметров
B. 30 сантиметров
C. 2 километров
D. 10 сантиметров

4)



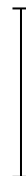

Велосипед
A. 25 сантиметров
B. 10 сантиметров
C. 1 метр
D. 3 метра

5)



Лопата
A. 30 сантиметров
B. 60 сантиметров
C. 1 метр
D. 3 метра

6)



Высота мяча для боулинга
A. 25 сантиметров
B. 305 сантиметров
C. 1 метр
D. 10 сантиметров

7)



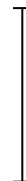
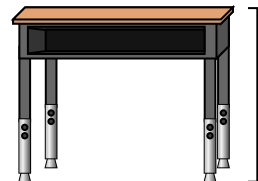
Шкафчик для папок
A. 30 сантиметров
B. 1.5 миллиметров
C. 30 миллиметров
D. 60 сантиметров

8)



Карандаш
A. 30 миллиметров
B. 20 сантиметров
C. 150 сантиметров
D. 1 метр

9)


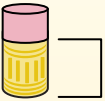
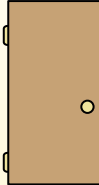



Парта
A. 2 метра
B. 15 сантиметров
C. 30 сантиметров
D. 70 сантиметров



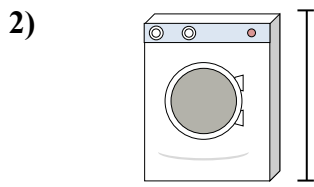
Определите, какая буква наилучшим образом отражает длину/ высоту.

ОТВЕТЫ


Milímetro (mm)	Centímetro (cm)	Metro (m)	Kilómetro (km)
Un milímetro equivale al grosor de una tarjeta de crédito.	10 mm = 1 cm. La parte metálica de un lápiz mide aproximadamente 1 cm. Una regla mide unos 30 centímetros.	100 cm = 1 m Desde el suelo hasta la perilla de una puerta hay aproximadamente 1 metro.	1,000 m = 1 km La mayoría de las carreteras principales tienen al menos un kilómetro de largo.
			



Банка газировки
A. 30 сантиметров
B. 3 сантиметры
C. 1 метр
D. 10 сантиметров




Стиральная машина
A. 1 метр
B. 30 сантиметров
C. 2 метры
D. 10 сантиметров




Леденец
A. 30 миллиметры
B. 30 сантиметров
C. 2 километров
D. 10 сантиметров



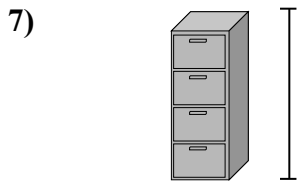
Велосипед
A. 25 сантиметров
B. 10 сантиметров
C. 1 метр
D. 3 метры



Лопата
A. 30 сантиметров
B. 60 сантиметров
C. 1 метр
D. 3 метры



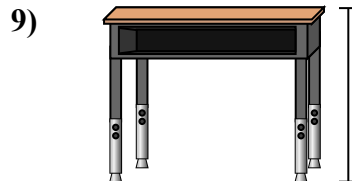
Высота мяча для боулинга
A. 25 сантиметров
B. 305 сантиметров
C. 1 метр
D. 10 сантиметров



Шкафчик для папок
A. 30 сантиметров
B. 1.5 миллиметры
C. 30 миллиметры
D. 60 сантиметров



Карандаш
A. 30 миллиметры
B. 20 сантиметров
C. 150 сантиметров
D. 1 метр



Парта
A. 2 метры
B. 15 сантиметров
C. 30 сантиметров
D. 70 сантиметров

1. **D**
2. **A**
3. **D**
4. **C**
5. **C**
6. **A**
7. **B**
8. **B**
9. **D**