




Используйте единицы измерения для измерения длины каждого блока.

ОТВЕТЫ



1. _____



2. _____



3. _____



4. _____




5. _____



6. _____




7. _____



8. _____





9. _____



10. _____



Используйте единицы измерения для измерения длины каждого блока.



Ответы

1. 10

2. 1

3. 4

4. 3

5. 6

6. 8

7. 9

8. 11

9. 5

10. 13