



Используйте единицы измерения для измерения длины каждого блока.

Ответы



1. \_\_\_\_\_



2. \_\_\_\_\_



3. \_\_\_\_\_



4. \_\_\_\_\_



5. \_\_\_\_\_



6. \_\_\_\_\_




7. \_\_\_\_\_



8. \_\_\_\_\_






9. \_\_\_\_\_



10. \_\_\_\_\_



Используйте единицы измерения для измерения длины каждого блока.



**Ответы**

1. 7

2. 4

3. 6

4. 10

5. 1

6. 2

7. 9

8. 8

9. 5

10. 3

Cut out and use the units shown to measure the bars on the previous page.

